


Uzunluk Modelleri Oluşturalım

- Bazı nesnelar kullanılarak cetvel modeli oluşturulabilir.
- Bunu yaparken ölçüm aracı olarak kullanacağımız nesnenin uzunluğunun ne kadar olduğunu bilmemiz gerekir.

Bu ölçümlere örnekler:



Verilen kalemin boyu cetvel ile ölçülerek 2 cm bulunmuştur.



Bu bilgiye göre yeşil şeridin uzunluğunu kalem ile ölçerek bulabiliriz.
Şerit 4 kalem uzunluğundadır. Kalem 2cm ise;
Şeridin uzunluğu = $4 \times 2 = 8$ cm'dir.

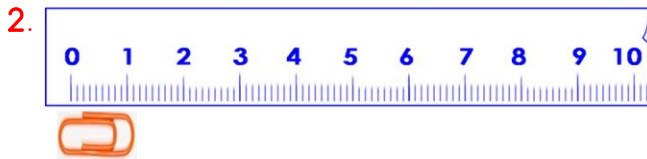


Yanda verilen tornavida 4 silgi uzunluğunda ise tornavidanın uzunluğu kaç cm'dir?
Tornavida 4 silgi uzunluğundadır. Silgi 3cm ise;
Tornavidanın uzunluğu = $4 \times 3 = 12$ cm

❖ Verilen soruları yukarıdaki açıklamalara göre dikkatlice yapınız. Şekilleri çizmeden soruları yazarak cevaplayınız.



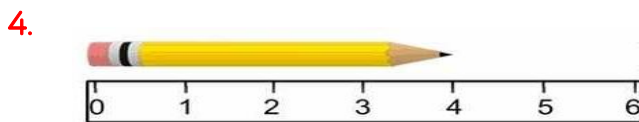
Yanda verilen bilgilere göre kalemin uzunluğu kaç cm'dir?



Ayşe defterinin kısa kenarını yanda verilen ataş ile ölçmüş ve 20 ataş bulunmuştur. Buna göre defterinin kısa kenarı kaç cm uzunluğundadır?



Bir mandalın uzunluğu 7 cm olduğuna göre kitabın uzunluğu kaç cm'dir?



Ali salonlarında bulunan sehpanın uzunluğunu yanda verilen kalem ile ölçmüş ve 9 kalem uzunluğunda bulunmuştur. Buna göre sehpanın uzunluğu kaç cm'dir?