

PİKNİK

Sena ve Sinan piknik alanında oyun oynuyorlardı. Anneleri, sofrayı hazırlıyordu. Babaları da ızgarada köfteleri pişiriyordu.

3. Anneleri ne yapıyordu?

- A) oyun oynuyor
- B) sofrayı hazırlıyor
- C) ızgara yapıyor

(İlk beş soruyu yukarıdaki metne göre cevaplayınız.)

4. Metin kaç kelimedenden oluşmaktadır?

1. Ezgi ve Berke nerde oyun oynuyordu?

- A) 15
- B) 14
- C) 13

- A) Parkta
- B) Piknik alanında
- C) Okul bahçesinde

5. Metnin başlığı kaç harften oluşmuştur?

2. Babaları ne pişiriyordu?

- A) 5
- B) 6
- C) 7


- A) Balık
- B) Et
- C) Köfte



Yukarıdaki kelimeyi hangi harflerle tamamlarsak anlamlı olur?

- A) a - e
- B) i - a
- C) u - e

7. Aşağıdaki hayvanların hangisinin adında daha fazla harf vardır?



8. Aşağıdaki kelimelerden hangisi hecelerine doğru ayrılmıştır?


- A) kal – em – lik
- B) öğ – ret – men
- C) oy – un – cak



Yukarıdaki hecelerle aşağıdaki kelimelerden hangisi oluşmaz?

- A) elma
- B) kartal
- C) karpuz

10. Aşağıdaki görsellerin hangisinin adı diğerlerinden daha fazla hece vardır?



1. Sınıf 2. Dönem Deneme Sınavı - 1

1. Birer ritmik sayarken 15'den önce ve sonra gelen sayılar hangileridir?

A) 13 - 16

B) 14 - 17

C) 14 - 16

2.



8 - 9 - 10 - ? - 12 - 13


Yukarıdaki ritmik saymada '?' yerine hangi sayı yazılmalıdır?

A) 7

B) 11

C) 14

3.



Elma ağacındaki elmaların sayısı aşağıdaki hangi seçenekte verilmiştir?

A) 8

B) 9

C) 10

4.



Yukarıdaki kalemlerin sayısı ile ilgili hangi seçenek doğrudur?

A) 1 onluk 5 birlik

B) 1 onluk 0 birlik

C) 1 onluk 2 birlik

5.



Alışveriş sırasındaki üçüncü kişi kimdir?

A)



B)



C)



1. Sınıf 2. Dönem Deneme Sınavı - 1




Yukarıdaki varlıklar için verilen ifadelerden hangisi yanlıştır?

- A) Domates sayısı çoktur.
- B) Patlıcan sayısı azdır.
- C) Patlıcan ve domates sayıları eşittir.

7. Hangisi sıra bildiren sayı değildir?

- A) İkinci
- B) 5.
- C) 3

8.



Yukarıda verilen sayı aşağıdakilerden hangisidir?

- A) 17
- B) 27
- C) 72

9.

6 sayısı 8 sayısından

Verilen cümlede noktalı yere hangi seçenek ile tamamlayabiliriz?

- A) büyük
- B) küçük
- C) eşit

10.



3 birlik 1 onluk

- A) 31
- B) 13
- C) 10