




## BÖLME İŞLEMİ


$$\begin{array}{r} 89 \quad 7 \\ \text{—} \\ \end{array}$$


Bölünen :  
Bölen :  
Bölüm :  
Kalan :


$$\begin{array}{r} 66 \quad 6 \\ \text{—} \\ \end{array}$$


Bölünen:  
Bölen :  
Bölüm :  
Kalan :


$$\begin{array}{r} 49 \quad 3 \\ \text{—} \\ \end{array}$$


Bölünen :  
Bölen :  
Bölüm :  
Kalan :


$$\begin{array}{r} 58 \quad 9 \\ \text{—} \\ \end{array}$$


Bölünen:  
Bölen :  
Bölüm :  
Kalan :


$$\begin{array}{r} 94 \quad 8 \\ \text{—} \\ \end{array}$$


Bölünen :  
Bölen :  
Bölüm :  
Kalan :


$$\begin{array}{r} 67 \quad 8 \\ \text{—} \\ \end{array}$$

Bölünen:  
Bölen :  
Bölüm :  
Kalan :


$$\begin{array}{r} 80 \quad 5 \\ \text{—} \\ \end{array}$$

Bölünen :  
Bölen :  
Bölüm :  
Kalan :


$$\begin{array}{r} 42 \quad 6 \\ \text{—} \\ \end{array}$$

Bölünen:  
Bölen :  
Bölüm :  
Kalan :

# Problemler

➔ 1) Aysu 2 kg muz 18 tl ye alıyor.Aysu aynı muzdan 7 kg alırsa kaç tl öder ?

➔ 2) Bir okulda 92 öğrenci 4 erli sraya geçiyor.Kaç sıra oluşur?

➔ 3) Babam 24tane kalem aldı.Benim ve kardeşimin toplam 12 kalemimiz vardı.Babamın getirdiği kalemlerle beraber kardeşime ve bana kaç kalem düşer?

➔ 4) Can dedesinden 21,babaannesinden 47 tl para almıştır.Can tanesi 4 tl olan kalemlerden kaç tane alabilir?

➔ 5) 8 katı 64 olan sayının 2 katı kaçtır ?

➔ 6)Selman 48 yaşındadır. Selman kızı Ebru'nun 3 katı yaşı büyüklüğünde olduğuna göre Ebru kaç yaşındadır?

➔ 7) Seda her gün kumbarasına aynı miktarda para atarak 91 tl para biriktiriyor.parasını 1haftada biriktirdiğine göre ,her gün kaç tl para atmıştır?

➔ 8) Bir çiçekçi 90 adet papatyayı üçerli demetler halinde satıyor. Demetin tanesi 9 TL'den satıldığına göre çiçekçi kaç TL kazanmıştır?

➔ 9) Bir satıcı 238 poğaçanın 158 tane-sini satmıştır. Kalan poğaçaları beşerli gruplara ayırmıştır. Kaç grup poğaçadır?