



DERS : MATEMATİK

KONU : Bütün - Yarım - Çeyrek

ADI SOYADI :

VELİ

OKUL NO :

İMZA

- Aşağıdaki soruların yanıtlarını karşlarına yazınız.

1- İki çeyrek kaç yarım eder?

2- Bir bütünde kaç tane yarım vardır?.....

3- Dört yarım, kaç bütün yapar?.....

4- Dört çeyrek, kaç bütün yapar?.....

5- İki yarımdan kaç bütün elde edilir?

6- 2 sayısının yarısı ile 10 sayısının yarısının toplamı kaç eder?.....

7- Annemin 10 cevizi vardır. Cevizlerin yarısının 2 eksiğini bana verdi?
Bana kaç ceviz verdi?

8- Annem 40 litre süt sağdı. Babam sütlerinin yarısını sattı. Geriye kaç litre sütü kaldı?.....

9- 20 şişenin yarısı kırıldı. Kalan şişelerin 5 eksiği kaç şişe eder?.....

10- 8 sayısı ile 10 sayısının yarıları toplamı kaç eder?


11- 6 sayısının yarısı kaçtır?.....

12- 60 sayısının yarısı kaçtır?.....


13- 10 sayısının yarısı kaçtır?.....

14- 4 sayısının yarısı ile 10 sayısının yarısının toplamı kaçtır?

15- Aşağıdaki şekillerin yarımalarını ve çeyreklerini çiziniz.




YARIM



ÇEYREK

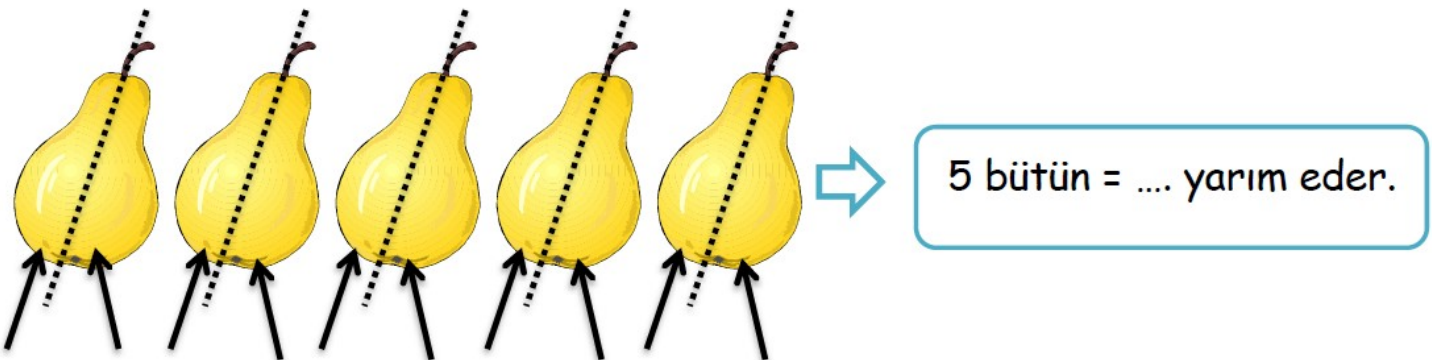

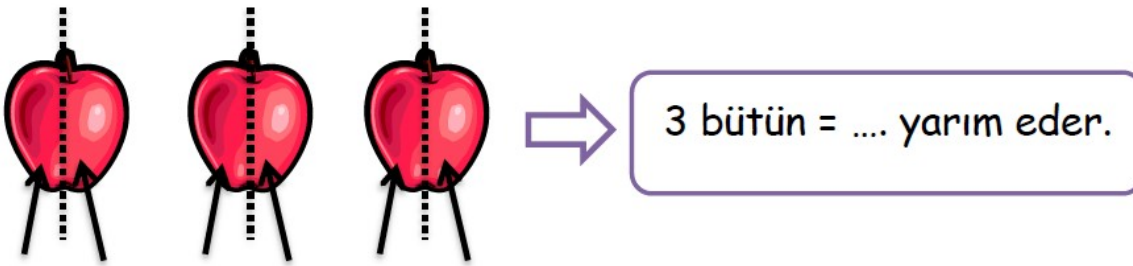
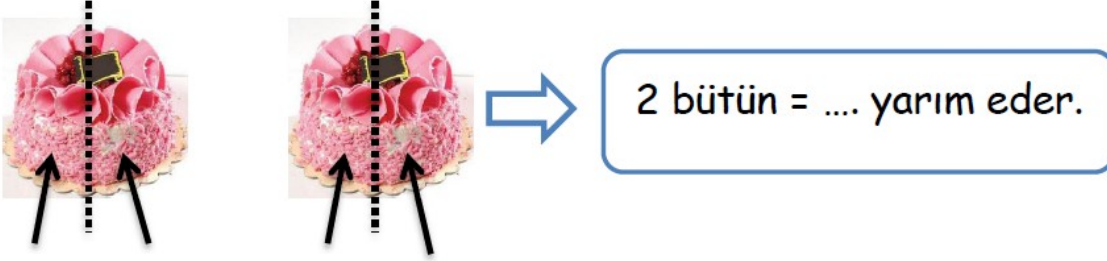
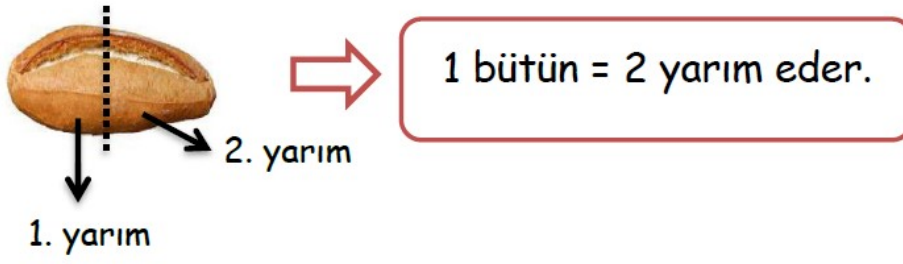


YARIM

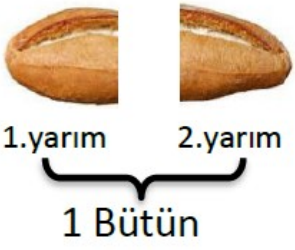


YARIM



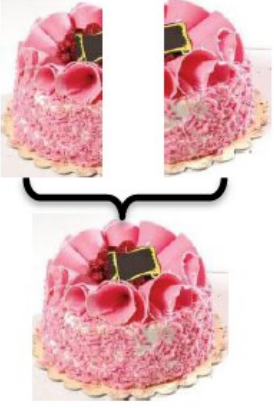
- İstenilenleri örnekteki gibi noktalı kısımlara yazınız.



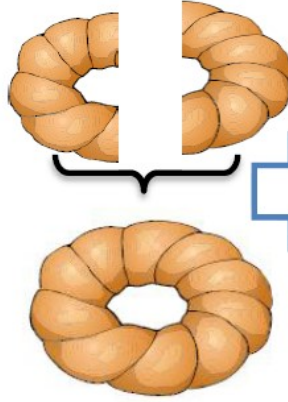
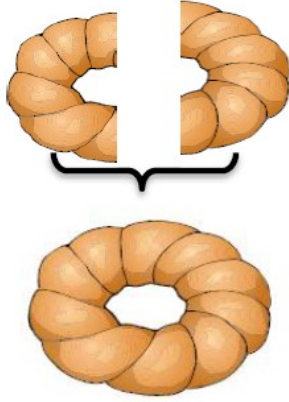
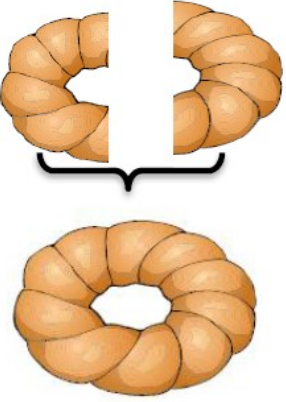
- 3 litre meyve suyu kaç yarım litreden oluşmuştur?
A) 5 B) 6 C) 7
- 10 yumurtadan kaç yarım yumurta elde edilir?
A) 15 B) 20 C) 25
- 4 yarım portakal kaç bütün portakal eder?
A) 2 B) 3 C) 4




2 yarım = 1 bütün eder.



4 yarım = bütün eder.



6 yarım = bütün eder.



8 yarım = bütün eder.

● Yarısı 4 olan sayının tamamı kaçtır?

A) 4

B) 6

C) 8

● Yarısı 3 olan sayının 5 fazlası kaçtır?

A) 8

B) 10

C) 11