

TÜRKÇE

1) Aşağıdaki kelimelerin hangisinde ünsüz harf sayısı en azdır?

- A) piyano B) spor C) etek

2) “Yeliz uzun boylu bir öğrencidir.” Cümlesine göre aşağıdaki bilgilerden hangisi yanlıştır?

- A) Cümle 5 kelimededen oluşup içinde bir tane özel isim bulunmaktadır.
B) Cümledeki kelimelerin hece sayısı toplamı 12'dir.
C) Cümlede bir tane zıt anlamlı kelime vardır.

3) Aşağıdaki cümlelerin hangisi soru cümlesidir?

- A) Yemeğimi çabucak bitirdim
B) Dün akşam erken yattım
C) Yatmadan önce dişlerini fırçaladın mı

4) Aşağıdakilerden hangisi “özel isim” değildir?

- A) Kayseri B) Caner C) Ağaç

5) Aşağıdaki tabloda yazım yanlışı yapılan kelimeleri bulup boyayınız.

| | | |
|-------|----------|---------|
| tıraş | maydanoz | eşki |
| film | kiprik | laylon |
| şarz | çember | telefon |

6) Kesme işareti (') hangisinde yanlışı kullanılmıştır?

- A) Hayri'nin B) Ev'de C) Murat'a

7) “Buğlem okuldan geldi. Cümlesinde hangi sorunun cevabı yoktur?

- A) Kim? B) Neden? C) Nereden?

2.SINIF HAZIRBULUNUŞLUK SINAVI

8) "konuk" kelimesinin eş anlamlısı hangi cümlede kullanılmıştır?

- A) Sinem yavaş adımlarla ilerledi.
- B) Bugün sınıfımıza misafir bir öğrenci katıldı.
- C) Kırmızı renkli kamyon çok hızlıymış.

9) "Çanakkale" kelimesi hangi seçenekte doğru hecelenmiştir?

- A) Çan - ak - ka - le
- B) Ça - nak - ka - le
- C) Ça- nak - kal - e

10)

| | | |
|---|---|---|
|  |  |  |
| yapalım | ödevlerimizi | zamanında |

Yukarıda bulunan şekillere ait sözcüklerle anlamlı ve kurallı bir cümle oluşturduğunda doğru sıralama nasıl olmalıdır?

- A)   
- B)   
- C)   

11) Aşağıdaki cümlelerin hangisinin sonuna gelecek olan noktalama işareti diğerlerinden farklıdır?

- A) Arkadaşlarımı çok seviyorum ()
- B) Sinemaya gelecek misin()
- C) Dedem bana kitap aldı()

12) Aşağıdaki kelimelerden hangisi satır sonunda doğru ayrılmıştır?




- A) tati- lden
- B) çerçev- ede
- C) çanta- dan

13) "ağır" kelimesinin zıt anlamı aşağıdaki şifreli kelimelerden hangisi olabilir?

- A)     
- B)     
- C)     

MATEMATİK

1) AŐađıdaki örüntüde noktalı yere hangi Őekil gelmelidir?

A) B) C) 

2) Samet aklından bir sayı tuttu. Bu sayıya 9 ekledi. Sonucu 25 buldu. Samet'in aklından tuttuđu sayı kaçtır?

A) 16

B) 17

C) 15

3) 5'er 5'er sayarken 85'den önce hangi sayı söylenir?

A) 70

B) 75

C) 80

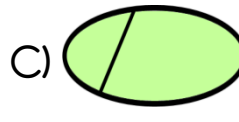
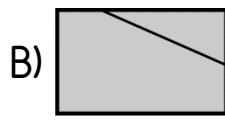
4) 2 onluk 8 birlikten oluşan sayının kaç fazlası 35 eder?

A) 6

B) 8

C) 7

5) AŐađıdaki Őekillerden hangisi iki eŐit parçaya ayrılmıŐtır?



6) 2 birlik + 4 onluktan oluşan sayı kaçtır?

A) 24

B) 44

C) 42

7) $\square + 6 = 14$ iŐleminde \square yerine hangi sayı yazılmalıdır?

A) 6

B) 7

C) 8

2.SINIF HAZIRBULUNUŞLUK SINAVI

8) Nalan 8 yaşındadır. Kardeşi Nalan'dan 5 yaş küçüktür. İki kardeşin yaşları toplamı kaçtır?

A) 12

B) 13

C) 11

9) Aşağıdaki şekillerin kenar sayıları toplamı 20 sayısından kaç eksiktir?



A) 8

B) 10

C) 9

10) Kamil'in cebinde 10 TL var.
Ömer'in cebinde 20 TL var.
Eymen'in cebinde 5 TL var.

Yukarıdaki öğrencilerden hangi ikisinin cebindeki paraların toplamı 25TL 'dir?

A) Kamil ve Ömer

B) Ömer ve Eymen

C) Eymen ve Kamil

11) Serhat'ın doğum günü 20 Mayıs'tadır. Serhat'ın doğum gününden bir hafta sonra ayın kaçı olacaktır?

A) 25

B) 30

C) 27

12) Akın arkadaşları ile oynamak için dışarı çıktı. Annesi, Akın'ı tam 3 saat sonra eve çağırdığında saat üç buçuk idi. Akın saat kaçta dışarı çıkmıştır?

A)

B)

C)



13) 2 tam elmaya kaç tane yarım elma eklersek 6 tam elma eder?

A) 4 yarım elma

B) 8 yarım elma

C) 6 yarım elma

HAYAT BİLGİSİ

1) Aşağıdakilerden hangisi fiziksel özelliklerimizden **değildir**?

- A) göz rengi B) kilo C) öfke

2) Aşağıda, bazı hayvanlar ile yaşadıkları yerler eşleştirilmiştir. Hangi eşleştirme **yanlıştır**?

- A) arı → kovan
B) tavuk → kümes
C) inek → kafes

3) Aşağıdakilerden hangisi dini bayramlarımızdan birisidir?

- A) Ramazan Bayramı
B) Ulusal Egemenlik ve Çocuk Bayramı
C) Cumhuriyet Bayramı

3) “ Anne, baba ve çocuklardan oluşan topluluğa..... denir.”

Yukarıdaki cümlede bulunan noktalı yere aşağıdakilerden hangisi yazılmalıdır?

- A) grup B) aile C) okul

5) Aşağıdakilerden hangisi doğru bir davranış **değildir**?

- A) Okul koridorunda koşmak.
B) Okula zamanında gelmek.
C) Atık malzemeleri kendi kutularında biriktirmek.

6) Işıklı trafik cihazındaki renkler ve anlamları hangi seçenekte doğru verilmiştir?

- A) yeşil dur
sarı hazır ol
kırmızı geç
- B) sarı geç
yeşil hazır ol
kırmızı geç
- C) kırmızı dur
sarı hazır ol
yeşil geç

2.SINIF HAZIRBULUNUŐLUK SINAVI

7) AŐađıdakilerden hangisi kiŐisel bakım aracıdır?

- A) defter B) kalem C) tarak

8) AŐađıdakilerden hangisi bilgisayar veya tablet kullanırken dikkat etmemiz gereken kurallardan biri **deđildir**?

- A) İstedięimiz oyunları oynayabiliriz.
B) OturuŐumuza dikkat edip dik durmalıyız.
C) Çok uzun süre bakmamalıyız

9) Türiye'nin baŐkenti hangi Őehirdir?

- A) Antalya B) Ankara C) İstanbul

10) AŐađıdakilerden hangisi geri dőnüŐüm kutularına **atılmamalıdır**?

- A) kırılmıŐ cam ŐiŐe B) eski gazete C) yemek atıđı

11) Yemekten önce ve sonra aŐađıdakilerden hangisini yapmalıyız?

- A) Oyun oynamalıyız.
B) Ellerimizi sabunla yıkamalıyız.
C) Banyo yapmalıyız.

12) İstiklal MarŐı'mızın Őairi kimdir?

- A) Atatürk B) Mehmet Akif Ersoy C) İsmet İnönü

13) AŐađıda verilen mevsimler ve ayları eŐleŐtirmelerinden hangisi dođrudur?

- | | | |
|-------------|--------|-------------|
| A) Sonbahar | B) KiŐ | C) İlkbahar |
| Eylül | Aralık | Temmuz |
| Mart | Ocak | Mayıs |
| Ekim | Őubat | Nisan |