

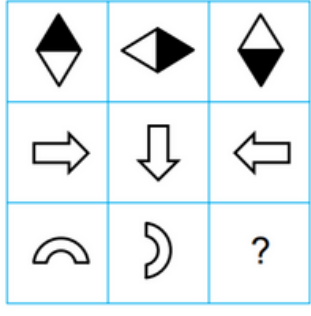
4. SINIF

GENEL ZİHİNSEL YETENEK TESTİ

ADI SOYADI:

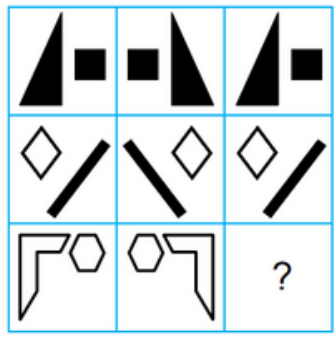
Sorularda verilen şekiller yatayda veya dikeyde bade de hem yatayda hem de dikeyde belirli bir kurala göre yerleştirilmiştir. Bu kurala göre soru işaretli (?) yere gelmesi gerekeni seçenekler içinden belirleyip işaretleyelim.

1




- A)
- B)
- C)
- D)

2



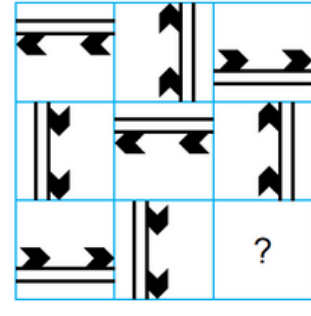
- A)
- B)
- C)
- D)

3



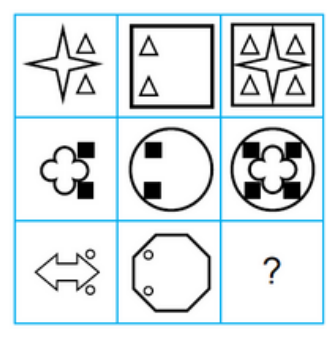
- A)
- B)
- C)
- D)

4




- A)
- B)
- C)
- D)

5



- A)
- B)
- C)
- D)

6



- A)
- B)
- C)
- D)

Aşağıdaki ikili eşleşmeler arasında bir ilişki bulunmaktadır. Bu ilişki harf, hece gibi yazımla ilgili değildir. Mantık ve anlam ilişkisi vardır. Buna göre seçenekler içinden diğerlerinden farklı bir ilişki bulunanı belirleyip işaretleyelim.

7

- A) Çam – Ağaç
- B) Güvercin – Kuş
- C) Kiraz – Meyve
- D) Yaz – Ağustos

8

- A) Komutan – Ordu
- B) Mühendis – Mimar
- C) Müdür – Okul
- D) Yönetmen – Film

9

- A) Ekmek – Un
- B) Peynir – Süt
- C) Nane – Limon
- D) Ayran – Yoğurt

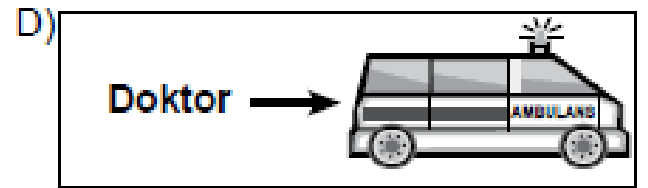
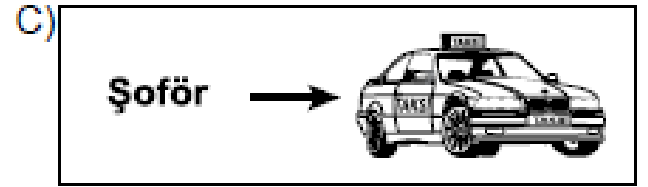
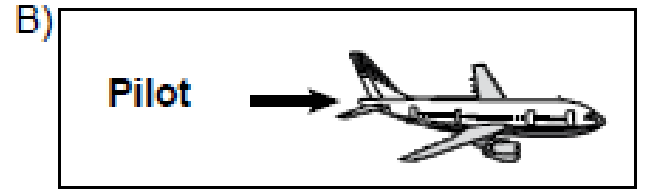
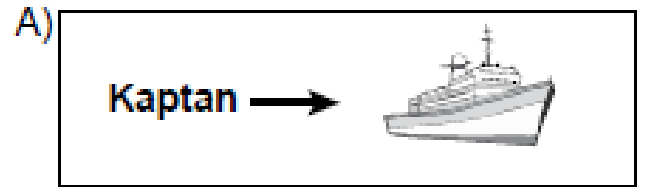
10

- A) Başlamak – Bitirmek
- B) Açmak – Kapamak
- C) Tutmak – Bırakmak
- D) Görmek – Bakmak

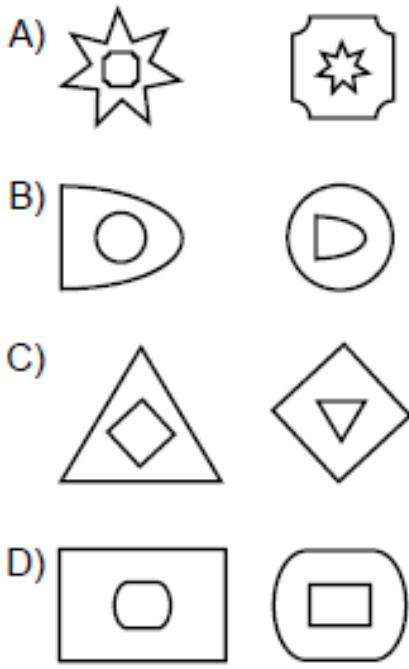
11

- A) Cıvıv – Tavuk
- B) Tay – At
- C) Buzağı – İnek
- D) Sıpa – Eşek

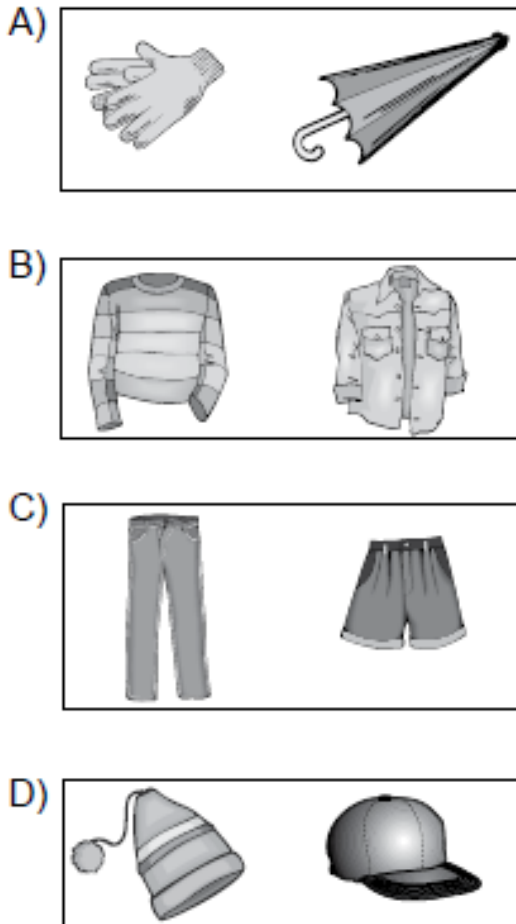
12



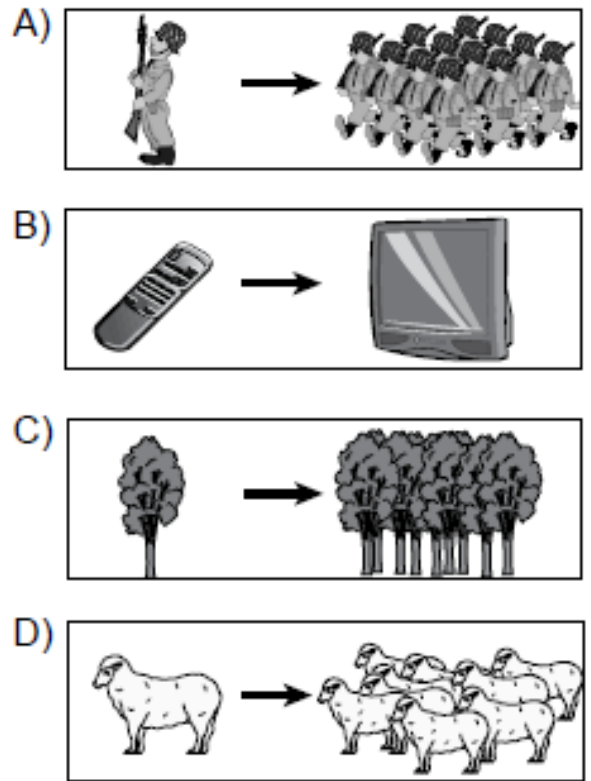
13



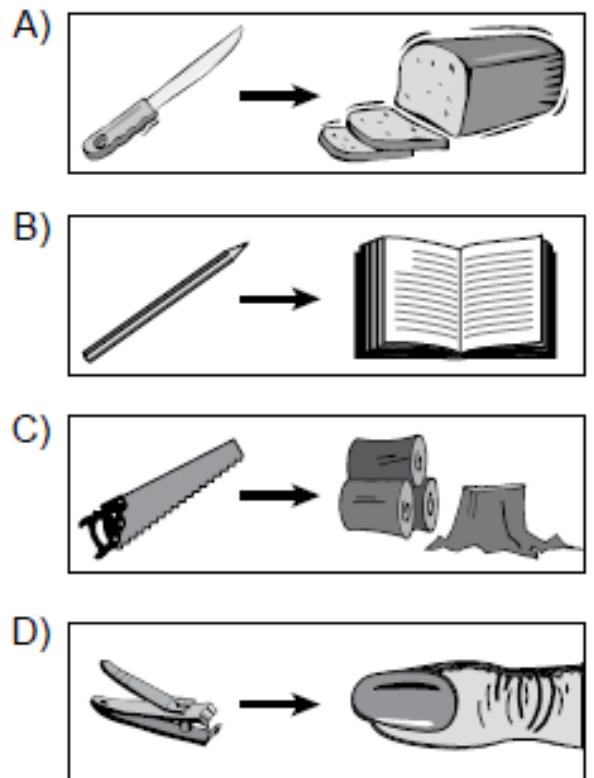
14



15



16



Aşağıdaki sorularda ilk satırdaki iki kelime arasında bir ilişki vardır. Bu ilişki harf, hece gibi yazımla ilgili değildir. Mantık ve anlam ilişkisi vardır. Aynı ilişkinin ikinci satırda da olması için soru işaretli (?) yere gelmesi gerekeni bulup seçeneklerden işaretleyelim.

17

Ahır – İnek
Kümes – ?

- A) At
C) Keçi
- B) Koyun
D) Tavuk

20

Bacak – Diz
Kol – ?

- A) El
C) Dirsek
- B) Parmak
D) Avuç

18

Yağmur – Sel
Kar – ?

- A) Deprem
C) Yangın
- B) Çığ
D) Heyelan

21

Öğretmen – Sınıf
Hakem – ?

- A) Düdük
C) Forma
- B) Saha
D) Top

19

Parmak – Yüzük
Kulak – ?

- A) Küpe
C) Kafa
- B) Zar
D) Burun

Sorulardaki doğru seçeneđi bulup işaretleym.

22

"Onun da bu vazoyu beğenmeyeceđini biliyorum." cümlesine aşağıdakilerden hangisi anlamca en yakındır?

- A) O, hiçbir vazoyu beğenmiyor.
- B) Onun da bu vazoyu beğeneceđini umuyorum.
- C) O, hiçbir şeyi beğenmediđi gibi bu vazoyu da beğenmez.
- D) Bu vazoyu onun gibi başkaları da beğenmiyor.

23

İnsan duygu ve düşünceleriyle bilhassa heyecanlarıyla yaşar, cümlesinde altı çizili sözcüğün yerine aşağıdakilerden hangisinin getirilmesi daha uygundur?

- A) özellikle
- B) üstelik
- C) ayrıca
- D) hatta

24

1. Kalemle şiirler, hikâyeler, masallar yazdı.
2. İyiliđi, doğruluđu, güzelliđi yazarak anlattı.
3. Yaşadıklarını gelecek nesillere bu şekilde aktarmış oldu.
4. İnsanođlu yüzyıllardan beri kalemi yanından hiç eksik etmedi.

Bu cümlelerle bir metin oluşturulmak istenirse sıralama aşağıdakilerden hangisi olur?

- A) 2-3-1-4
- B) 2-4-3-1
- C) 4-1-2-3
- D) 4-3-2-1

Bir kurbağa sürüsü ormanda ilerlerken, içlerinden ikisi bir çukura düşmüş. Diğer kurbağalar çukurun etrafında toplanıp, çaresiz bir şekilde bakıyorlarmış.

Çukur bir hayli derin olduğundan yukarıdaki kurbağalar, arkadaşlarına:

“Çukur çok derin. Dışarı çıkmanız imkânsız!” demişler.

Ancak çukura düşen kurbağalar onların söylediklerine aldırmayıp çukurdan çıkmak için mücadeleye devam etmişler. Sonunda, kurbağalardan birisi söylenenlerden etkilenmiş ve mücadeleyi bırakmış. Diğeri ise çabalamaya devam etmiş. Son bir hamle daha yapmış, bu kez daha yükseğe sıçramayı başarmış ve çukurdan çıkmış. Çünkü o sağırmış...

25

Aşağıdaki cümlelerin hangisi bu metinden çıkarılamaz?

- A) Zorluklar karşısında herkesin tepkisi farklı olabilir.
- B) İnsan zor durumda kaldığında ümitsizliğe düşebilir.
- C) Gerektiğinde bireysel hareket etmeyi bilmeliyiz.
- D) Çevremizdekilerin söylediklerini her zaman önemsemeliyiz.

26

Aşağıdaki cümlelerden hangisi metnin ana düşüncesidir?

- A) Üstesinden gelemediğimiz durumlarda çevremizi dinlemeliyiz.
- B) Başarılı olmak istiyorsak olumsuz yorumlara kulak asmamalıyız.
- C) Söylenenleri dinlersek başarıya daha kolay ulaşırız.
- D) Zor durumlarda birlikten kuvvet doğacağını unutmamalıyız.

27

Küçücük bir delik, koskaca bir gemiyi batırmaya yeter.

Bu cümlede vurgulanan düşünce, aşağıdakilerden hangisidir?

- A) Yapılan hatanın dönüşü asla yoktur.
- B) Küçük sorunlar ancak büyüyünce fark edilir.
- C) Büyük sorunlar, önemsiz gibi görünen ayrıntılardan doğar.
- D) İnsan karşılaştığı problemleri gereğinden fazla büyütmemelidir.

35

$$\begin{array}{r} KKK \\ + KKK \\ \hline LLL \end{array}$$

$$\begin{array}{r} LLL \\ + LLL \\ \hline MMM \end{array}$$

$$\begin{array}{r} MMM \\ + MMM \\ \hline NNN \end{array}$$

$$\begin{array}{r} NNN \\ - KKK \\ \hline PPP \end{array}$$

Yukarıda verilen üç basamaklı sayılardaki işlemlere göre, P kaç tane K'ye eşittir?

A) 6

B) 7

C) 8

D) 9

36

Sözcükler

KENT

TENK

KNET

EKTN

Sayısal eşleştirme (karışık şekilde)

3457, 4375, 5374, 4735

KENT hangi sayıdır?

A) 3457

B) 4375

C) 4735

D) 5374

CEVAPLARIM

1		13		25	
2		14		26	
3		15		27	
4		16		28	
5		17		29	
6		18		30	
7		19		31	
8		20		32	
9		21		33	
10		22		34	
11		23		35	
12		24		36	