


1

Eren 25 yaşındadır. Kardeşi, Eren'den 5 yaş küçük olduğuna göre iki kardeşin yaşları toplamı kaçtır?




5

Nisa ile Şeyma'nın okudukları kitapların sayfalarının toplamı 428'dir. Nisa'nın kitabı 235 sayfa olduğuna göre Şeyma'nın okuduğu kitap kaç sayfadır?



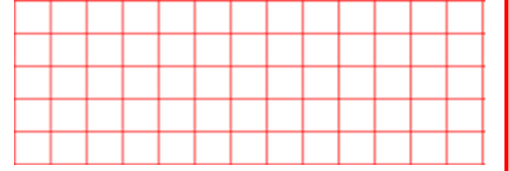
2

Barış ve ablası tartıldıklarında kütleleri toplamının 134 kilogram olduğunu gördüler. Barış 76 kilogram olduğuna göre ablası kaç kilogramdır?



6

Bir manav, 1. gün 155 kg meyve satıyor. 2. gün ise 1.günden 78 kg daha fazla meyve satıyor. Buna göre bu manav 2 günde kaç kg meyve satmıştır?



3

Beyza, pazartesi ve salı günü 195 sayfalık kitabı okudu. Pazartesi günü 97 sayfa okuduğuna göre salı günü kaç sayfa okumuştur?



7

Bir çiftçi ürettiği koyunların 269 tanesini satıyor. Geriye 283 koyunu kalıyor. Bu çiftçinin başlangıçta kaç koyunu vardı?




4

Bir simitçi, sabah 86 simit sattı. Öğleden sonra sattıklarıyla beraber 134 simit sattığına göre, bu simitçi öğleden sonra kaç simit satmıştır?



8

Ayşe Hanım , 950 TL ile önce 180 liralık elektrik borcunu, daha sonra 145 liralık su borcunu ve en sonunda 75 liralık telefon borcunu ödüyor. Ayşe Hanım'ın cebinde kaç lira kaldı?



9 Okuduğum 3 hikaye kitabının sayfa sayılarının toplamı 574'tür. Birisi 152, diğeri 259 sayfa olduğuna göre, üçüncü kitap kaç sayfadır?




13 Mehmet 392 sayısının yüzler ve onlar basamağındaki rakamların yerlerini değiştiriyor. Daha sonra yeni oluşan sayıyı 852 den çıkarıyor. Sonucu kaç bulmuştur?




10 Feyza yaptığı toplama işleminde toplamı 742 buluyor. Toplananlardan birisi 258 olduğuna göre, ikinci toplanan kaçtır?




14 Şirinler köyünde 157 kayısı ağacı, 318 elma ağacı vardır. Ceviz ağaçlarının sayısı ise kayısı ağaçlarının sayısından 68 eksiktir. Köyde toplam kaç tane ağaç vardır?




11 Aylin, 574 sayısını en yakın yüzlüğe, 398 sayısını da en yakın onluğa yuvarlayıp çıkarma işlemi yapıyor. Aylin bu sayıların farkını kaç bulmuştur.




15 440 kişilik bir trende 186 erkek yolcu, 125 kadın yolcu vardır. Trende boş yer olmadığına göre kaç tane çocuk vardır?




12 Ela'nın kumbarasında 355 lirası vardır. Ela'nın en sevdiği akıllı saat 500 liradır. Ela'nın akıllı saati alabilmesi için, kaç lira daha biriktirmesi gerekir?




16 Bir kütüphanede 678 kitap vardır. bunların 294 tanesi roman, 325 tanesi şiir ve geriye kalanlar ise masal kitabıdır. Buna göre kaç tane masal kitabı vardır.