

TÜRKÇE

Oyna oyna hoş çocuk,
Sağa sola koş çocuk,
23 Nisan senin,
Eğlen eğlen hoş çocuk.

Bin dokuz yüz yirmide,
Ankara'da bir yerde,
Büyük Meclis açıldı,
Atamın sayesinde.

Naci KARADENİZ

(İlk üç soruyu şiire göre cevaplayınız.)

1- Yukarıdaki şiirin başlığı aşağıdakilerden hangisi olabilir?

- a) 29 Ekim
b) 23 Nisan
c) 19 Mayıs

2- Yukarıdaki şiire göre Büyük Meclis nerede açılmıştır?


- a) İstanbul
b) Ankara
c) Samsun

3- Yukarıdaki şiirde kaç kelime vardır?

- a) 25
b) 26
c) 27

4- Yandaki görselde hangi sorunun cevabı yoktur?

- a) Atatürk nerede doğmuştur?
b) Atatürk nerede ölmüştür?
c) Anıtkabir nerededir?



5-



Zürefa



Kaplumboğa



Zebra

Yukarıdaki hayvanların bazılarının adları yanlış yazılmıştır.

Bu üç hayvanın adının doğru yazılışı hangi seçenekte verilmiştir?










- a) Zürafa – Kaplumboğa – Zebra
- b) Zürefa – Kaplumboğa – Zebra
- c) Zürafa – Kaplumboğa – Zebra

6-  Emniyet kemerimizi taktık.

 Okula vardık.

 Servise bindik.

Yukarıdaki cümleler oluş sırasına göre nasıl sıralanır?

- a)   
- b)   
- c)   

7- "İleri-geri" kelimelerin arasında nasıl bir ilişki vardır?

- a) Zıt anlamlı kelimelerdir.
- b) Eş anlamlı kelimelerdir.
- c) Eş sesli kelimelerdir.

8- Aşağıdakilerden hangisi cümle değildir?

- a) Araba geldi
- b) Babam için
- c) Yattım

9-

büyük

ilk

yazılır

cümlelerin

harfleri

Kutulardaki sözcüklerle kurulacak anlamlı cümle hangisidir?

- a) Cümlelerin büyük yazılır ilk harfleri.
- b) İlk harfleri büyük yazılır cümlelerin.
- c) Cümlelerin ilk harfleri büyük yazılır.

10-

"Ahmet () Veli () Cemil sinemaya gitti."

Yukarıdaki cümlede () işareti yerine aşağıdaki noktalama işaretlerinden hangisi konulmalıdır?

- a) Nokta (.)
- b) Virgül (,)
- c) Soru işareti (?)

MATEMATİK

1- Yandaki sayının okunuşu aşağıdakilerden hangisidir?

- a) Yirmi dört
- b) İki dört
- c) Dört iki

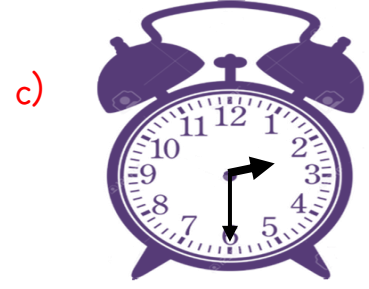
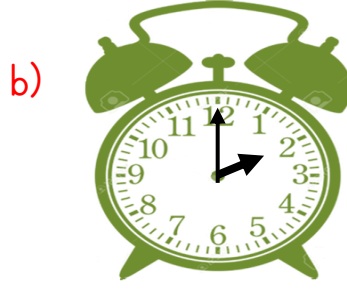
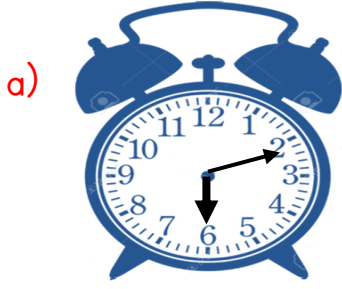


19= 1 Onluk + 😊 Birlik

2- Yukarıda verilen işlemde 😊 şeklinin yerine hangi sayı getirilirse işlem doğru olur?

- a) 1
- b) 9
- c) 19

3- Aşağıdaki saatlerden hangisi iki buçuk (02.30) göstermektedir?



4-



Aklımdan tuttuğum sayıya 7 ekleyince 12 sayısını buldum.

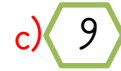
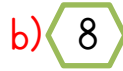
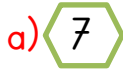
Edanın aklında tuttuğu sayı kaçtır?



5-



Dalda 12 kuş vardı. Bu kuşlardan bir kısmı uçunca geriye yukarıdaki kuşlar kaldı. Uçan kuş sayısı kaçtır?



6-

$$4 + 7 = 11$$

$$12 + 0 = 0$$

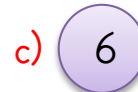

$$10 + 7 = 17$$

$$9 - 7 = 2$$

$$15 - 9 = 5$$

$$12 - 6 = 6$$

Yukarıdaki toplama ve çıkarma işlemlerinden kaç tanesi doğrudur?






NİSAN 2020						
Pazartesi	Salı	Çarşamba	Perşembe	Cuma	Cumartesi	Pazar
		1	2	3	4	5
6	7	8	9	10	11	12
13	14	15	16	17	18	19
20	21	22	23	24	25	26
27	28	29	30			

(7, 8 ve 9. soruları takvime göre cevaplayınız.)



7- 23 Nisan Ulusal Egemenlik ve Çocuk Bayramı hangi **gündür**?

- a)  Çarşamba
- b)  Perşembe
- c)  Cuma

8- Nisan ayında hafta sonu kaç **gündür**?

- a)  10
- b)  9
- c)  8

9- Bugün 17 Nisan Cuma ise günlerden *dün* ve *yarın* aşağıdakilerden hangisinde **doğru** verilmiştir?

- a)  Dün  Yarın
a) Cumartesi Perşembe
- b) Perşembe Cumartesi
- c) Perşembe Pazar

10- Mehmet cebindeki 20 fındığın 3'ünü Orhan'a, 7'sini Ahmet'e verdi. Mehmet'in cebinde kaç fındığı **kaldı**?

- a)  10
- b)  9
- c)  8

HAYAT BİLGİSİ

1- Aşağıdaki hayvanlardan hangisinin yuvası toprak altındadır?



2- "Başarılı olmak için yaparım."

Cümlesini aşağıdakilerden hangisi ile tamamlayabiliriz?

a) yemek

b) plan

c) resim

3- Aşağıdaki davranışlardan hangisi doğrudur?



4- Dengeli beslenmek için aşağıdakilerden hangisini yapmalıyız?

a) Yemeklerde kola içmeliyiz

b) Her öğün altı tabak yemek yemeliyiz.

c) Zamanında yemeliyiz.

5- Okula geliş ve gidişlerde dikkat edilecek kurallarla ilgili hangisi **doğrudur**?

a) Trafikte duran bir aracın arkasından geçmek

b) Karşıdan karşıya geçerken önce sağa bakmak

c) Trafik kurallarına uymak

6- Aşağıdaki gök cisimlerinden hangisi en **büyük**tür?

a) Güneş

b) Ay

c) Dünya

7- Aşağıdakilerden hangisi milli bayramlarda yapılmaz?

- a) Sınıfı süslemek.
- b) Şiir okumak.
- c) Akraba ziyareti yapmak.

8- "Bayrağımızın renkleridır."

Cümlesini aşağıdakilerden hangisi ile tamamlayabiliriz?

- a) siyah ve beyaz
- b) kırmızı beyaz
- c) sarı kırmızı

9- Aşağıdakilerden hangisi okul geçidi işaretidir?



10- Havanın çok sıcak olduğu, insanların ince kıyafetler giydiği mevsim hangisidir?

- a) Kış
- b) İlkbahar
- c) Yaz

Deneme bitti. Cevaplarınızı kontrol ediniz.

