




Instagram

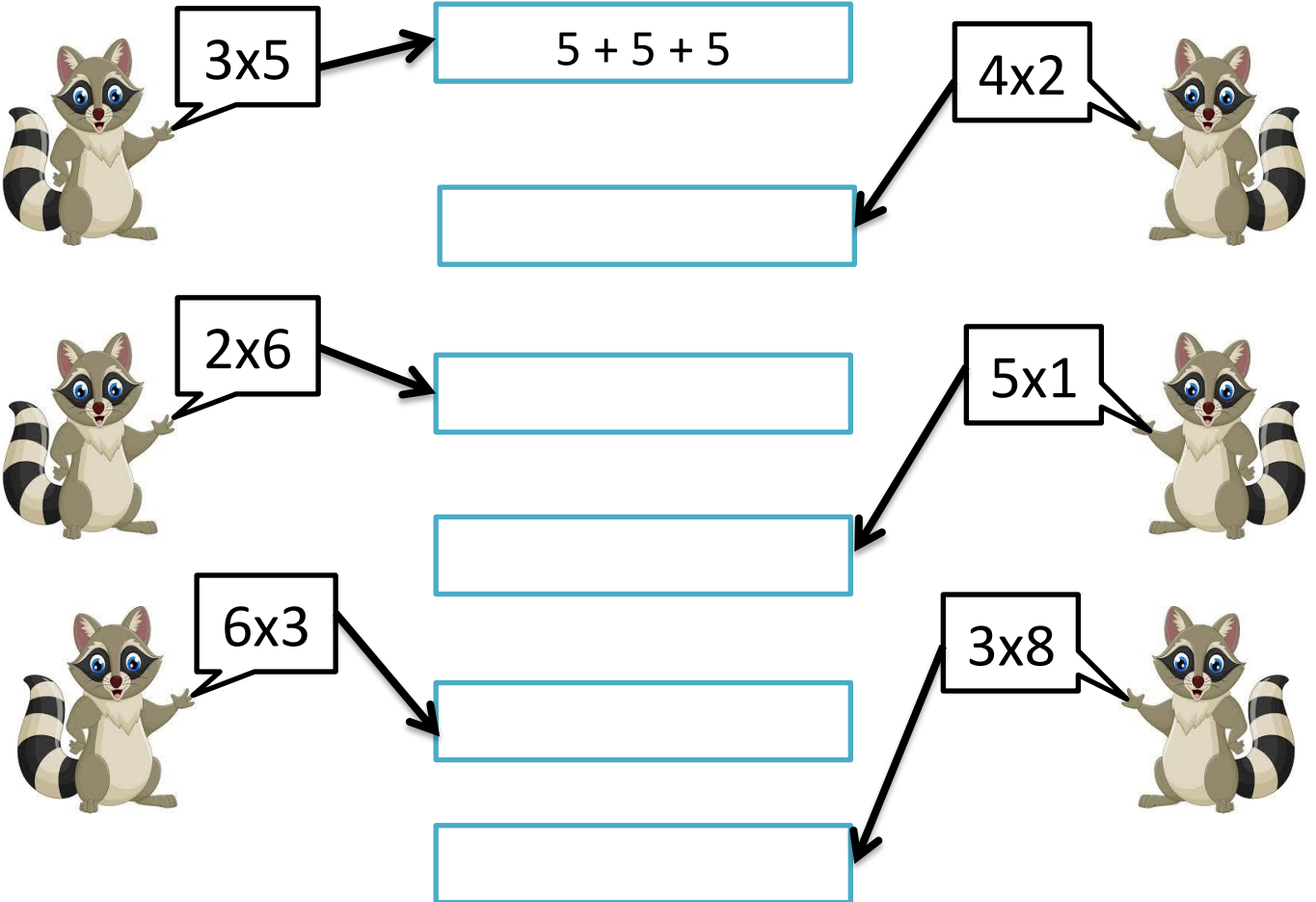
Sınıfıdaki yaşam



Soruları görselden faydalanarak cevaplayalım.

- Kaç tabak elma hazırlanmış?
- Her tabakta kaç elma var?
- Bütün tabaklarda toplam kaç elma var?
- Tabaklardaki elmaların sayısını toplama işlemi yaparak gösterelim.
.....
- Tabaklardaki elmaların sayısını çarpma işlemi yaparak gösterelim.
.....

Çarpma işlemi, toplama işlemi ile gösterelim.






Instagram


Sınıfıdaki Yaşam

- Aşağıdaki çalışmaları örnekteki gibi tamamlayalım.




$5 \times 2 = 10$

=




$2 \times 5 = 10$



.... X =

=



.... X =

$3 \times 6 = \dots\dots$

=

$6 \times 3 = \dots\dots$



Instagram

Sınıfıdaki yaşam

PROBLEMLERE GİRİŞ

Toplama işlemi gerektiren problemlerde sayıları bir araya getirerek sonucu buluyoruz. Eğer bir araya getireceğimiz sayılar aynı ve tekrar eden sayılar ise çarpma işlemi kullanacağız. Çünkü çarpma işlemi, toplama işleminin kısa yoldan yapılışdır.

Aşağıdaki problemleri önce toplama işlemi yaparak ardından kısa yoldan çarpma işlemi kullanarak yapalım.

1) Altı tane koyunun kaç ayağı vardır? $4 + 4 + 4 + 4 + 4 + 4 = 24$ (uzun yol) $6 \times 4 = 24$ (kısa yol)	5) Dört ahtapotun kaç kolu vardır?
2) İki tane tavuğun kaç ayağı vardır?	6) Yedi ördeğin kaç ayağı vardır?
3) Beş tane tavşanın kaç ayağı vardır?	7) Dokuz kartalın kaç kanadı vardır?
4) Altı tane atın kaç ayağı vardır?	8) Sekiz kuzunun kaç ayağı vardır?