



1. Yukarıdaki ağaçta kaç tane elma vardır?

A) 4

B) 6

C) 7

2. Aşağıdaki eşleştirmelerden hanisi doğru değildir?

A)

4 = dört

B)

8 = sekiz

C)

9 = on

3. ' On yedi ' şeklinde okunan sayı aşağıdakilerden hangisidir?

A)

15

B)

17

C)

19

4.




Çilekleri sayarken söylediğimiz son sayıdan sonra gelen sayı hangisidir?

A) 10

B) 9

C) 8

5. ' 15-16-17- - 19 '


Yukarıdaki ileriye birer ritmik saymada  yerine hangi sayı yazılmalıdır?

- A) 14                      B) 18  
C) 20

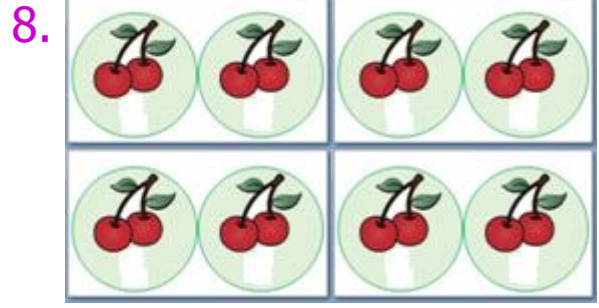
6. Geriye doğru birer ritmik sayarken ' yirmi sekiz ' sayısından önce hangi sayı gelir?

- A) yirmi                      B) yirmi yedi  
C) yirmi dokuz

7.   
25 – 30 – 35 –  – 45

Yukarıdaki beşer ritmik saymada  yerine hangi sayı yazılmalıdır?

- A) 60                      B) 50  
C) 40



Tabaklarda toplam kaç kiraz vardı?

- A) yirmi                      B) on sekiz  
C) on altı

9. Aşağıdakilerden hangisi ileriye onar ritmik saymadır?

- A) 15 – 20 – 25 – 30 – 35  
B) 20 – 22 – 24 – 26 – 28  
C) 20 – 30 – 40 – 50 – 60