

DOĞRU, IŞIN VE DOĞRU PARÇASINI TANIYALIM

1- Aşağıdakilerden hangisi bir doğrudur?



2- Aşağıdakilerden hangisi bir ışındır?



3- Aşağıdakilerden hangisi bir doğru parçasıdır?



4- Aşağıdakilerden hangisi bir yatay doğrudur?




5- Aşağıdakilerden hangisi bir eğik doğrudur?

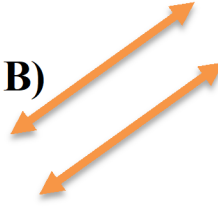


6) Aşağıdaki doğru çiftlerinden hangileri açı oluşturmaz?

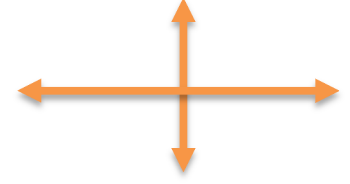
A)



B)

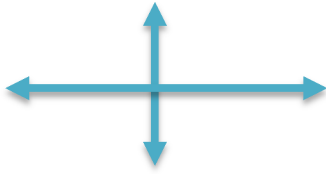


C)




7) Aşağıdaki doğru çiftlerinden hangileri birbirine dik doğrulardır?

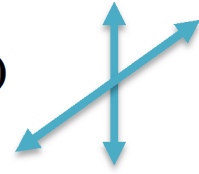
A)



B)



C)



8) Yandaki şekil için aşağıdakilerden hangisi söylenebilir?

A) Kalem bir doğru parçasına benzer.

B) Kalem bir ışına benzer.

C) Kalem bir doğruya benzer.



9) Yandaki makas resmi aşağıdakilerden hangisine benzemektedir?

A) Dik doğrulara

B) Paralel doğrulara

C) Kesişen doğrular



10) Aşağıdakilerden hangisi doğru parçası modeline örnektir?

1. Çubuk makarna

2. Tren rayları

3. Cetvel

A) 1, 2

B) 1, 3

C) 2, 3