


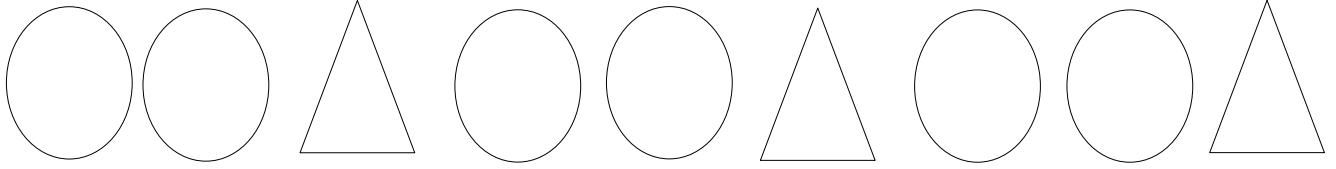
Adı Soyadı:

## 1.Sınıf Matematik Geometrik Örüntüler 2

Aşağıdaki örüntülerin kuralını yazalım.




Örüntünün kuralı:

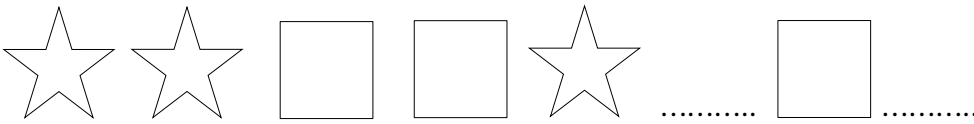


Örüntünün kuralı:

Aşağıdaki örüntülerin kurallarını bulunuz. Eksikleri tamamlayalım.



Örüntünün kuralı:



Örüntünün kuralı:

