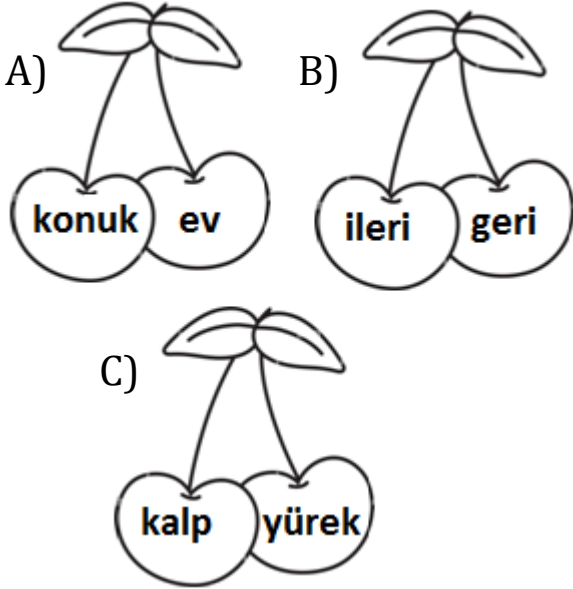
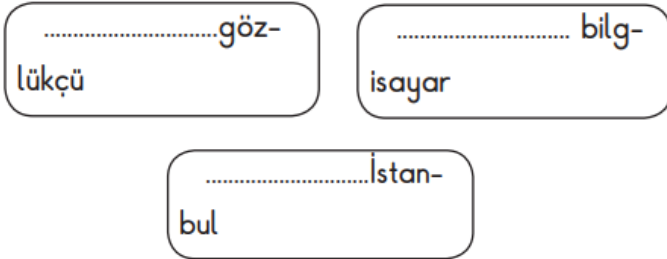


1. Aşağıdaki kirazlardan hangisinde eş anlamlı kelimeler yazılıdır?



2. Aşağıdaki kelimelerden hangisi satır sonunda yanlış ayrılmıştır?



3.

sakız	sarı	saksı
		

Yukarıdaki kelimeler alfabetik sıralandığında en sonda hangi kelime yer alır?



4.



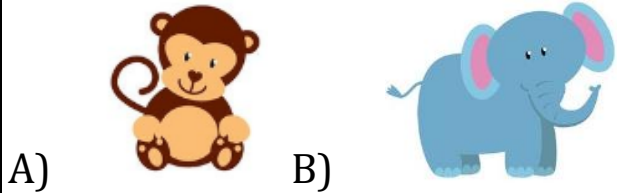
Yukarıdaki kelimenin eş anlamlısı hangi seçenekte doğru verilmiştir?



5. "Arkadaşım çok hızlı koşuyor." cümlesinde altı çizili kelimenin zıt anlamı hangi seçenekte verilmiştir?

- A) Babam az televizyon izliyor.
B) Annem yavaş resim yapıyor.
C) Kitap okumayı severim.

6. Aşağıdaki görsel adlarından hangisi satır sonunda ayrılmaz?



7. 21'den başlayarak geriye doğru üçer sayma yaparken 3. sırada hangi sayıyı söyleriz?

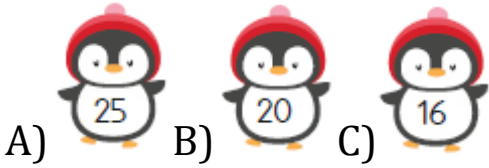
A) 18 B) 15 C) 12

8. 20'den başlayıp ileri doğru dörder ritmik sayarken 4. sırada hangi sayıyı söyleriz?

A) 28 B) 32 C) 36



9. Yukarıda verilen örüntüyü bozan sayı hangi seçenekte doğru verilmiştir?



9. 25'ten başlayarak ileriye doğru beşer ritmik sayma yaparken 2. ve 4. sırada söylediğimiz sayıların toplamı kaçtır?

A) 70 B) 75 C) 80

10. Kaynakları bilinçli kullanmayan bir öğrenci hangi davranışı yapar?

A) Gereksiz akan musluğu kapatır.
B) Okul eşyalarını düzenli kullanır.
C) Güneşli havalarda lambayı kullanır.

11. Kaynakları özenli ve düzenli kullanılmasına denir. Yukarıdaki tanımda boş bırakılan yere hangisi yazılmalıdır?

A) çalışkan B) tasarruf
C) başarılı

12. En büyük enerji kaynağımız hangi seçenekte doğru verilmiştir?

A) doğal gaz B) su
C) güneş