

4. SINIF

# KAZANIM DEĞERLENDİRME SINAVI




Türkçe	:20 Soru
Matematik	:20 Soru
Fen Bilimleri	:15 Soru
Sosyal Bilgiler	:15 Soru
İngilizce	:10 Soru

Adı: .....

Soyadı: .....

Sınıfı: ..... No: .....



Aşağıdaki atasözlerini anlamları ile eşleştiriniz.

Ağaca balta vurmuşlar, "Sapı bedenimden." demiş.



Varlığa darlık olmaz.



Kimse yağurdum ekşi demez.



Eden bulur, inleyen ölür.



Herkes sattığı malı, kendi işini, tutumunu ve davranışını över.



İnsana en yakını bile kötülük edebilir.



Zengin olanın gücü her şeye yeter.



Nasıl davranırsan öyle karşılık görürsün.

Altı çizili sözcüklerden iş, oluş ya da hareket bildirenler için "D" seçeneğini; bildirmeyenler için "Y" seçeneğini optik formda işaretleyiniz.



Her sabah erkenden uyanır.



Gülüşiyle çevresindekilere mutluluk verir.



Bahçedeki çiçeklerin kokusu etrafa yayılmıştı.



Evinde sevimli mi sevimli bir kedi besliyor.



9 Aşağıdaki kavram haritasında verilen cümlelerin altındaki ilgili ifadeleri takip ederek çıkışa ulaşınız. Ulaştığınız çıkış numarasını optik formda işaretleyiniz.



10 Milli Eğitim bakanlığı 2 Mayıs 1920 tarihinde kuruldu.

Yukarıda verilen cümlede hangi sözcüğün yazımı yanlıştır?

- A) Eğitim B) bakanlığı  
C) Mayıs D) kuruldu



11 Yukarıdaki görsel Nasreddin Hoca'nın hangi fıkrası ile ilişkilendirilebilir?

- A) Ya Tutarsa  
B) Kazan Doğurdu  
C) Parayı Veren, Düdüğü Çalar  
D) Bal Kabağı

...  
Covid 19'a ilk olarak Aralık 2019'da rastlandı. Koronavirüs Çin'in Wuhan kentinde başladı. Virüsün şehirdeki bir deniz mahsulü pazarından yayılmış olabileceği, bir hayvan etinin tüketilmesi sonucu insanlara bulaşmış olabileceği konuşuluyor.

12 Bu metinle ilgili aşağıdakilerden hangisi söylenebilir?

- A) Abartılı ifadeler yer almaktadır.  
B) Metnin türü şiirdir.  
C) Bilgilendirici bir metindir.  
D) Hastalığın belirtilerinden söz edilmiştir.

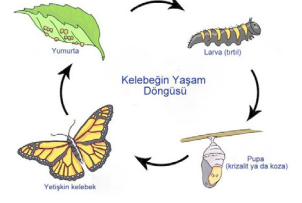
13 Aşağıdaki cümlelerin hangisinde "ki" ayrı yazılmalıdır?

- A) Seninki, benimkinden daha güzel.  
B) Kapıdaki zarfı görünce şaşırıldı.  
C) Gökyüzündeki ışıltı gözlerini kamaştırdı.  
D) Söylediklerini anlamadımki cevap vereyim.



## KELEBEKLERİN DÜNYASI

Kelebeklerin yaşam döngüsünün dört aşaması vardır: yumurta, larva (tırtıl), pupa (koza) ve yetişkinlik. Bu değişim sürecine metamorfoz (başkalaşım) denir. Metamorfoz, dişi kelebeklerin iğne başı büyüklüğündeki yumurtalarını bir yaprağa bırakmasıyla başlar. Yaprğa bırakmalarının sebebi, yaprakların oluşacak tırtıllara besin kaynağı olmasıdır. Yumurta dönemi birkaç gün sürer ve kırılan yumurtalardan tırtıllar çıkar. Yaklaşık iki hafta süren bu dönemde tırtıllar dört beş kez deri değiştirirler. Koza döneminde ise tırtıl kendisini bir yaprağa baş aşağı asarak bir kabuk oluşturur ve yaklaşık 1 hafta kadar bu kozanın içinde kalır. Türüne bağlı olarak bu süreç bir yıldan fazla da sürebilir çünkü bazı kelebek türleri koza olarak hazırda beklerler. Kelebek kozadan çıkarak kanatlarına kan pompalar ve kuruduktan sonra bir iki saat içinde ucmaya başlar.



14, 15 ve 16. soruları yukarıdaki metne göre yanıtlayınız.

14) Aşağıdakilerden hangisi kelebeklerin yaşam dönemlerinden birisi **değildir**?

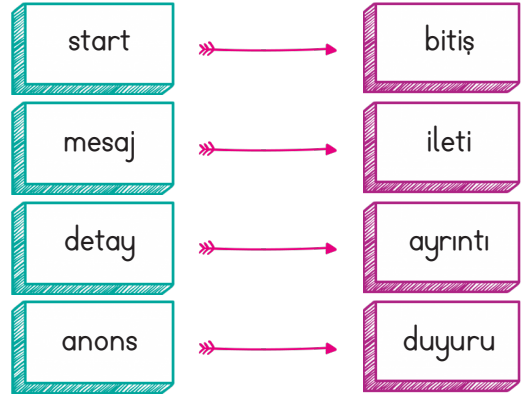
- A) Yaşlılık
- B) Yetişkinlik
- C) Pupa (Koza)
- D) Larva (Tırtıl)

15) Kelebekler yumurtalarını neden yaprağa bırakır?

- A) Tırtılları tehlikelerden korumak için
- B) Gerekli sıcak ortamı sağlayabilmek için
- C) Olumsuz hava koşullarından korumak için
- D) Oluşacak tırtıllara besin kaynağı olması için

16) Kelebek kozadan çıkınca ilk olarak ne yapar?

- A) Beslenmek için harekete geçerler.
- B) Kanatlarını temizlerler.
- C) Kanatlarına kan pompalarlar.
- D) Yaprak yerler.



17) Yukarıda, yabancı dillerden dilimize geçmiş bazı sözcükler ve bu sözcüklerin Türkçe karşılıkları verilmiştir. Buna göre verilen eşleştirmelerden hangisi **yanlıştır**?

- A) Start - Bitiş
- B) Mesaj - İleti
- C) Detay - Ayrıntı
- D) Anons - Duyuru

18) Aşağıdaki cümlelerin hangisinde pekiştirmeli sözcük kullanılmıştır?

- A) Osman ile evlerimiz yan yanaydı.
- B) Annesini görünce sımsıkı sarıldı.
- C) Güneş, ışıltı ışıltı parlıyor.
- D) Uzun zamandır sesi soluğu çıkmıyor.

Büyük harflerle yapılan kısaltmalara getirilen eklerde kısaltmanın son harfinin okunuşu esas alınır.

19

Yukarıdaki açıklamaya göre aşağıdaki kısaltmalardan hangisine getirilen ek yazımında hata yapılmıştır?

- A) TRT'den  
B) TBMM'ye  
C) THY'nın  
D) TL'de

20

Aşağıdaki cümlelerin hangisinde eylem henüz gerçekleşmemiştir?

- A) Geçen yıl tatilde Safranbolu'ya gittim.  
B) Öğretmenin verdiği proje ödevini yapıyor.  
C) Kitabını evde unutmuş.  
D) Gelecek yıl orta okulda olacağım.

Türkçe sorularınız bitti. Yanıtlarınızı kontrol ediniz.

Aşağıdaki ifadelerde boş bırakılan yerleri doldurup boşluklara yazılan sayılarla eşleştiriniz.

8 hafta = ..... gündür

1



208

76 ay = ..... yıl ..... aydır.

2



2 ve 7

55 saat = ..... gün ..... saattir.

3



6 ve 4

4 yıl = ..... haftadır.

4



56

Aşağıdaki ifadeleri okuyunuz. Doğru olanlar için "D" seçeneğini, yanlış olanlar için "Y" seçeneğini optik formda işaretleyiniz.

D

Y

5

Bölme işleminde kalan, bölenden büyük olamaz ya da bölene eşit olamaz.



6

Payı, paydasından küçük olan kesirlere bileşik kesir denir.



7

Şubat ayı 6 yılda bir 29 gün çeker.

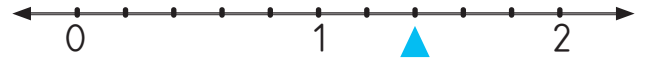
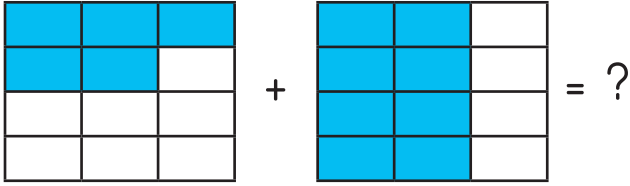
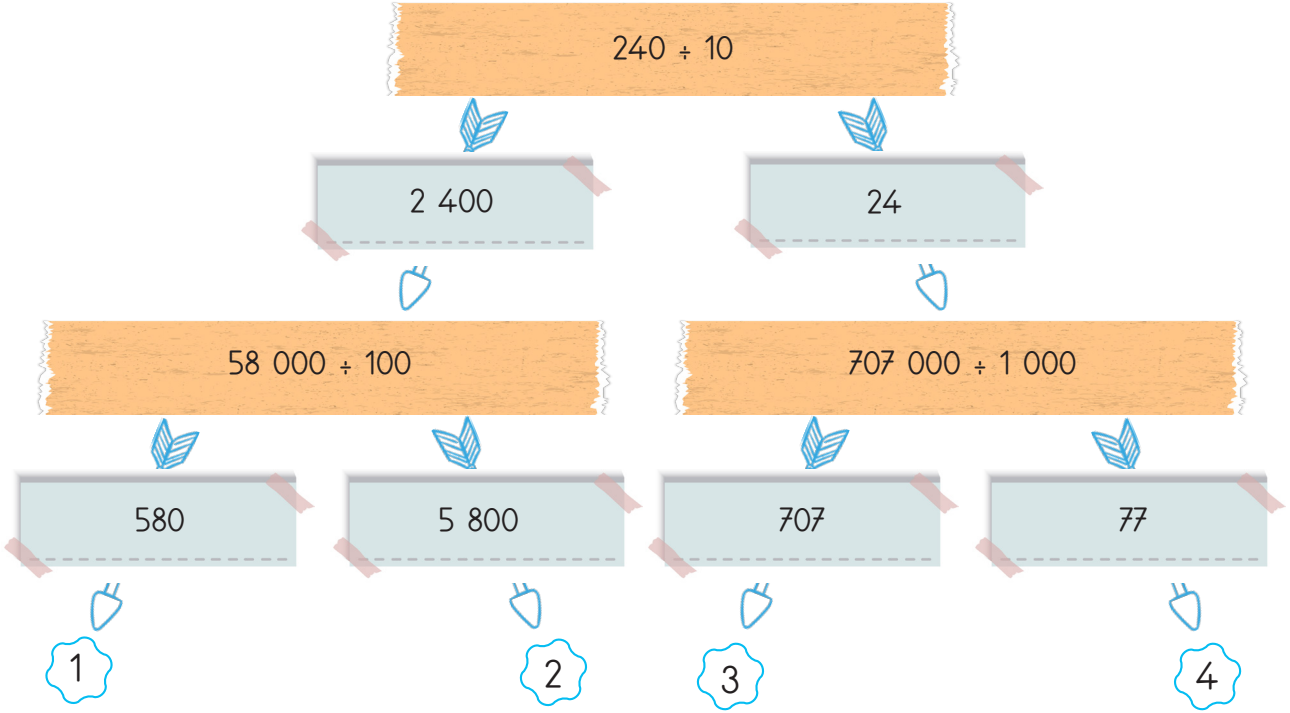


8

Bir sayıyı 1000 ile çarparken sayının sağına üç sıfır konulur.



9 Aşağıdaki kavram haritasında verilen bölme işlemlerini zihinden yapıp işlem sonuçlarını takip ederek çıkışa ulaşınız. Ulaştığınız çıkış numarasını optik formda işaretleyiniz.



11 Yukarıdaki sayı doğrusunda ▲ ile gösterilen noktanın kesirle ifadesi aşağıdakilerden hangisidir?

- A)  $\frac{7}{10}$       B)  $\frac{2}{5}$   
C)  $\frac{7}{5}$       D)  $1\frac{7}{10}$

10 Yukarıda şekillerle gösterilen kesirlerin toplamı kaçtır?

- A)  $\frac{13}{12}$       B)  $\frac{13}{24}$   
C)  $\frac{11}{12}$       D)  $\frac{11}{24}$





Ders Başlangıç Saati	08.40
Bir Ders Süresi	40 dakika
Bir Teneffüs Süresi	10 dakika

12 Yukarıdaki bilgiler doğrultusunda 2. dersin sonunda saat kaç olur?

- A)       B)   
C)       D) 



#### 4/B Sınıfında En Sevilen Spor Dalları Şekil Grafiği

Spor Dalı	Öğrenci Sayısı
Futbol	
Basketbol	
Tenis	
Voleybol	

Not: Her şekil 2 öğrenciyi göstermektedir.

13 ve 14. soruları yukarıdaki şekil grafiğine göre yanıtlayınız.

13) Yukarıdaki şekil grafiğine göre aşağıdakilerden hangisi **yanlıştır**?

- A) 4/B sınıfında 28 öğrenci vardır.
- B) Futbolu sevenlerin sayısı, tenisi sevenlerin sayısından 6 fazladır.
- C) Basketbol ve voleybol sevenlerin sayısı toplam 16 kişidir.
- D) Voleybol ve tenisi sevenlerin toplamı ile futbolu sevenlerin sayısı birbirine eşittir.

14) Yukarıdaki şekil grafiğinin sıklık tablosu aşağıdakilerden hangisidir?

Spor Dalı	Öğrenci Sayısı
Futbol	5
Basketbol	4
Tenis	2
Voleybol	3

Spor Dalı	Öğrenci Sayısı
Futbol	10
Basketbol	8
Tenis	4
Voleybol	4

Spor Dalı	Öğrenci Sayısı
Futbol	10
Basketbol	8
Tenis	4
Voleybol	6

Spor Dalı	Öğrenci Sayısı
Futbol	15
Basketbol	12
Tenis	6
Voleybol	9

15

Bir uçakta 115 yolcu vardır. Yolcuların  $\frac{3}{5}$ 'ü kadın ise uçakta kaç erkek yolcu vardır?

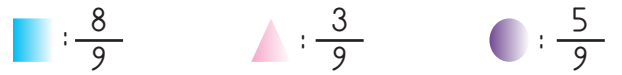
- A) 69
- B) 54
- C) 48
- D) 46



16

Yukarıdaki sayı doğrusunda gösterilen işlem aşağıdakilerden hangisidir?

- A)  $\frac{6}{8} - \frac{4}{8} = \frac{2}{8}$
- B)  $\frac{6}{8} + \frac{4}{8} = \frac{10}{8}$
- C)  $\frac{10}{12} - \frac{4}{12} = \frac{6}{12}$
- D)  $\frac{4}{12} + \frac{6}{12} = \frac{10}{12}$



17

Kesirler büyükten küçüğe sıralandığında aşağıdakilerden hangisi doğru olur?

- A)  $\square > \circ > \triangle$
- B)  $\triangle > \circ > \square$
- C)  $\square < \circ < \triangle$
- D)  $\triangle < \circ < \square$



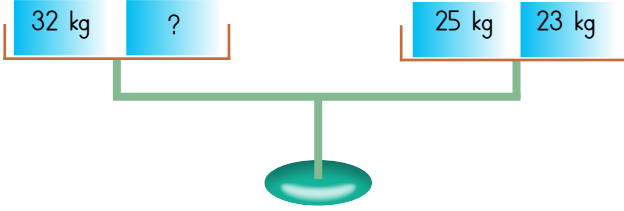


$$\begin{array}{c} \text{1. Çarpan} \\ \boxed{27} \end{array} \times \begin{array}{c} \text{2. Çarpan} \\ \boxed{6} \end{array}$$

18

Yukarıdaki çarpma işleminde 1. çarpan 3 artırılıp 2. çarpan 2 azaltılırsa sonuç nasıl değişir?

- A) 30 artar  
B) 42 azalır  
C) 46 azalır  
D) Eşittir



19

Yukarıdaki terazinin dengede durabilmesi için "?" yerine hangi ağırlık gelmelidir?

- A) 14  
B) 16  
C) 20  
D) 22



20

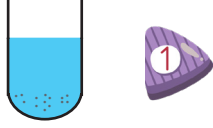
Yukarıdaki dikdörtgende aşağıdaki kenarlardan hangisi yoktur?

- A) FD kenarı  
B) EG kenarı  
C) ED kenarı  
D) GD kenarı

Matematik sorularınız bitti. Yanıtlarınızı kontrol ediniz.

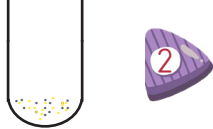
Aşağıda verilen karışımların hangi yöntemle birbirinden ayrılabilirini eşleştiriniz.

Kum ve su



Yüzdürme

Kum ve talaş



Mıknatısla ayırma

Kum, su ve saman



Süzme

Demir tozu ve kum



Eleme

Aşağıdaki ifadeleri okuyunuz. Doğru olanlar için "D" seçeneğini, yanlış olanlar için "Y" seçeneğini optik formda işaretleyiniz.



5

Ses kaynağına yaklaştıkça sesin şiddeti azalır.



6

Her madde aynı zamanda cisimdir.



7

Kullanılan ışık kaynağı bulunduğumuz ortama göre farklılık gösterebilir.



8 Aşağıdaki kavram haritasında tanımı yapılan seçeneği takip ederek çıkışa ulaşınız. Ulaştığınız çıkış numarasını optik formda işaretleyiniz.

İşığın yanlış zamanda, yanlış yerde ve yanlış miktarda kullanılmasıdır.

İşık kirliliği

Doğru aydınlatma

Sesi yükseltip uzağa iletmeye yarayan koni biçimindeki alet.

Eski çağlarda reçine ve odunun kullanılmasıyla yapılan aydınlatma aracı.

Megafon

Gramofon

Meşale

Mum

1

2

3

4

Ampul 1879 yılında ..... tarafından icat edilmiştir.

9 Yukarıdaki cümlede noktalı yere hangisi gelmelidir?

- A) Albert Einstein B) Nick Holonyak  
C) Thomas Edison D) Edmund Germer

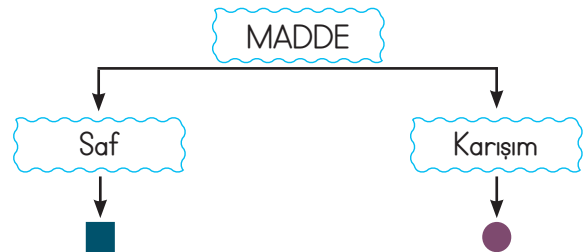
10 Aşağıdakilerden hangisi ışık kirliliğinin yol açtığı sorunlardan birisi değildir?

- A) Göçmen kuşlarının yönünü kaybetmesi  
B) Enerji tasarrufunun sağlanması  
C) Yumurtadan çıkan kaplumbağaların denize ulaşamaması  
D) İnsanlarda ve diğer canlılarda görme bozukluklarının oluşması

- Gereksiz yere çalınan korna sesleri  
➤➤ Yoğun şehir trafiği  
➤➤ Eğlence yerlerindeki yüksek müzik sesi  
➤➤ Sınıfta söz hakkı almadan konuşmak

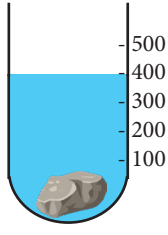
11 Yukarıda verilenlerden kaç tanesi ses kirliliğine neden olur?

- A) 1 B) 2  
C) 3 D) 4



12 Yukarıdaki şemada sembollerin yerine hangileri yazılabilir?

- A) Su Limonata  
B) Demir Bakır  
C) Tuzlu su Şerbet  
D) Çorba Altın



13 Yukarıdaki su dolu dereceli silindirin içerisine hacmi 150 mL olan taş atıldıktan sonra suyun yüksekliği 400 mL'ye çıkıyor. Buna göre taş atılmadan önce suyun hacmi kaç mL'di?

- A) 250 B) 550  
C) 700 D) 850



14 Yukarıda verilen farklı sıcaklıklardaki demir parçaları birleştiriliyor. Buna göre aşağıdakilerden hangisi söylenemez?

- A) Isı alışverişi demirlerin sıcaklıkları eşitleninceye kadar devam eder.  
B) Isı akışı 2 numaralı demirden 1 numaralı demire doğru olur.  
C) İki demirin ısısı 35 °C olunca ısı alışverişi durur.  
D) Isı akışı 1 numaralı demirden 2 numaralı demire doğru olur.

Bazı katı maddeler konuldukları kabın şeklini alabilir.

15 Yukarıda verilen açıklamaya göre aşağıdaki maddelerden hangisi bu açıklamaya örnek olamaz?

- A) Tuz B) Şeker  
C) Elma D) Kum

Fen Bilimleri sorularınız bitti. Yanıtlarınızı kontrol ediniz.

Aşağıdaki buluşları, bu buluşların mucitleri ile eşleştiriniz.

Otomobil



Carl Friedrich Benz

Uçak



Wright Kardeşler

Telefon



Alexander Graham Bell

Radyo



Guglielmo Marconi

Aşağıdaki ifadeleri okuyunuz. Doğru olanlar için "D" seçeneğini, yanlış olanlar için "Y" seçeneğini optik formda işaretleyiniz.



5

Beslenme ve barınma temel ihtiyaçlarımızdır.



6

Bilgisayarın öncelikli kullanım amacı oyun oynamaktır.



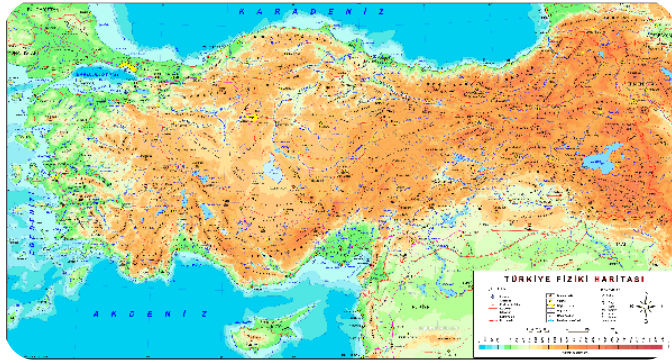
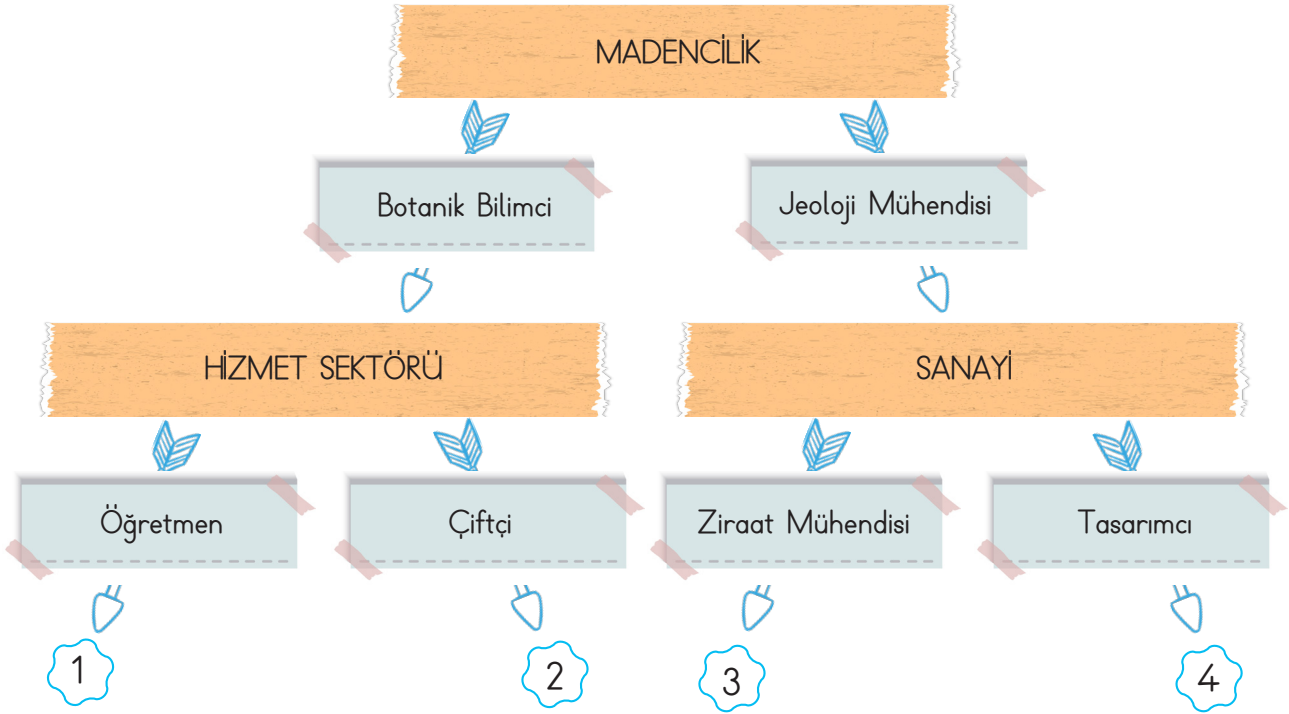
7

Birçok tasarım, doğayı ve çevreyi gözlemleyerek yapılmıştır.



8

Aşağıdaki kavram haritasında ekonomik faaliyetler ve bu ekonomik faaliyetlerle ilgili meslek grupları verilmiştir. Ekonomik faaliyetlerle ilgili meslek gruplarını takip ederek çıkışa ulaşınız. Ulaştığınız çıkış numarasını optik formda işaretleyiniz.



9

Verilen Türkiye fiziki haritasına göre aşağıdakilerden hangisi **söylenemez**?

- A) Ülkemiz bir yarım adadır.  
 B) Deniz, göl, baraj ve akarsular mavi renkle gösterilmiştir.  
 C) Ülkemizin güneyinde Akdeniz bulunur.  
 D) Yükselti doğudan batıya doğru artar.

- I Uçak >> Ulaşım  
 II Tomografi >> Eğitim  
 III Telefon >> İletişim  
 IV Tepegöz >> Eğlence

10

Yukarıda verilen ürünler ve kullanım alanları eşleştirmelerinde hangi eşleştirmeler **yanlıştır**?

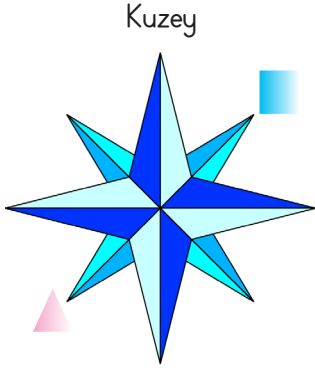
- A) I ve II B) II ve IV  
 C) III ve IV D) I ve III

11



Aşağıdakilerden hangisi beşeri unsur **değildir**?

- A)  Park B)  Deniz  
 C)  Baraj D)  Köprü





12 Görselde sembollerle gösterilen yönler aşağıdakilerden hangileridir?

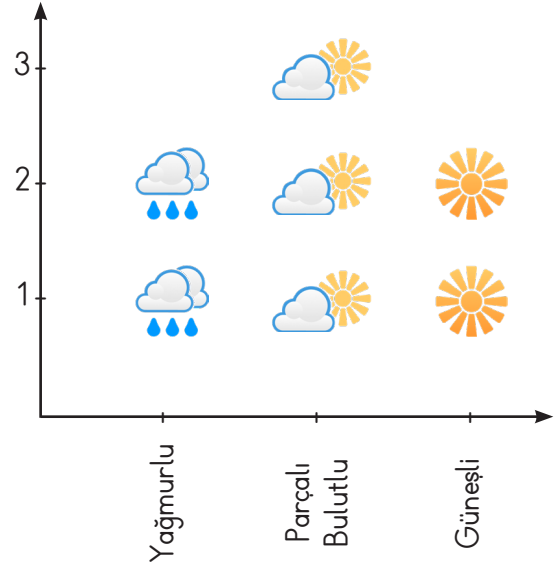
- |   |   |
|---|---|
|  |  |
| A) Kuzeydoğu  | Güneybatı   |
| B) Kuzeybatı  | Güneydoğu   |
| C) Batı   | Doğu  |
| C) Güney  | Batı  |

13 Aşağıdakilerden hangisi deprem öncesinde alınması gereken önlemlerden değildir?

- A) Toplanma noktaları belirlenmelidir.
- B) Deprem çantası hazırlanmalıdır.
- C) Çök-kapan-tutun yöntemi uygulanmalıdır.
- D) Devrilmesi muhtemel olan eşyalar duvara sabitlenmelidir.

14 Aşağıdaki bilgilerden hangisi hakkında bilgi edinmek için Türkiye idari haritasından yararlanabiliriz?

- A) Karadeniz Bölgesi'ndeki dağlar
- B) İç Anadolu Bölgesi'ndeki göller
- C) Kastamonu'nun komşu illeri
- D) Ilgaz Dağı'nın yükseltisi



15 Verilen grafik Kastamonu'nun bir haftalık hava durumunu göstermektedir. Buna göre aşağıdakilerden hangisi yanlıştır?

- A) Haftanın 3 günü yağmurludur.
- B) Güneşli gün sayısı ile yağmurlu gün sayısı eşittir.
- C) Hafta boyunca kar yağışı görülmemiştir.
- D) Haftada en çok parçalı bulutlu gün yaşanmıştır.

Sosyal Bilgiler sorularınız bitti. Yanıtlarınızı kontrol ediniz.



Aşağıdaki meslekleri görseller ile eşleştiriniz.



Driver



Teacher



Nurse



Fireman

Aşağıdaki ifadeleri okuyunuz. Doğru olanlar için "D" seçeneğini, yanlış olanlar için "Y" seçeneğini optik formda işaretleyiniz.



5

I have lunch at 08.30.



6

I arrive school at 09.00.








7 What time is it?

- A) It is half past eight.
- B) It is nine o'clock.
- C) It is twelve o'clock.
- D) It is eight o'clock.



The flower is .....

8 Görsele göre yukarıdaki cümle, aşağıdakilerden hangisi ile tamamlanabilir?

- A) on the table
- B) on the chair
- C) in the table
- D) under the chair



Take your umbrella. It is .....









9 Yukarıdaki cümle hangisi ile tamamlanmalıdır?

- A) cloudy
- B) snowy
- C) rainy
- D) windy



MICRO   OPE

10 Yukarıdaki sözcükte  ve  yerine hangi harfler gelmelidir?

- A)  → C  
 → S
- B)  → S  
 → C
- C)  → S  
 → K
- D)  → K  
 → S

Sınavınız bitti. Yanıtlarınızı kontrol ediniz.

