



Instagram

Sınıfıdaki yaşam

1) Aşağıdaki misketleri gruplayıp soruları yanıtlayınız.

4 misketi ikiyeşerli gruplayınız.




İkiyeşerli kaç grup oluştu?

6 misketi ikiyeşerli gruplayınız.




İkiyeşerli kaç grup oluştu?.....

8 misketi dörderli gruplayınız.



Dörderli kaç grup oluştu?

9 misketi üçerli gruplayınız.



Üçerli kaç grup oluştu?

12 misketi üçerli gruplayınız.



Üçerli kaç grup oluştu?

Aşağıdaki soruları görsele göre yanıtlayalım.

Kaç tane misket var?

Misketler kaç çocuğa paylaşılacak?


Her çocuğa kaç misket düşer?



Kaç tane misket var?

Misketler kaç çocuğa paylaşılacak?


Her çocuğa kaç misket düşer?



Kaç tane misket var?

Misketler kaç çocuğa paylaşılacak?

Her çocuğa kaç misket düşer?






Instagram

Sınıftaki yaşam

Bölme işleminin terimlerini uygun boşluklara yerleştirelim.

Verilen terimleri uygun yerlere yerleştirerek işlemlerimizi yapalım.



Bölünen:20

Bölen : 4

Bölüm:

Kalan:

Bölünen:18

Bölen : 3

Bölüm:

Kalan:

Bölünen:12

Bölen : 4

Bölüm:

Kalan:

Bölünen:32

Bölen : 4

Bölüm:

Kalan:

Bölünen:45

Bölen : 5

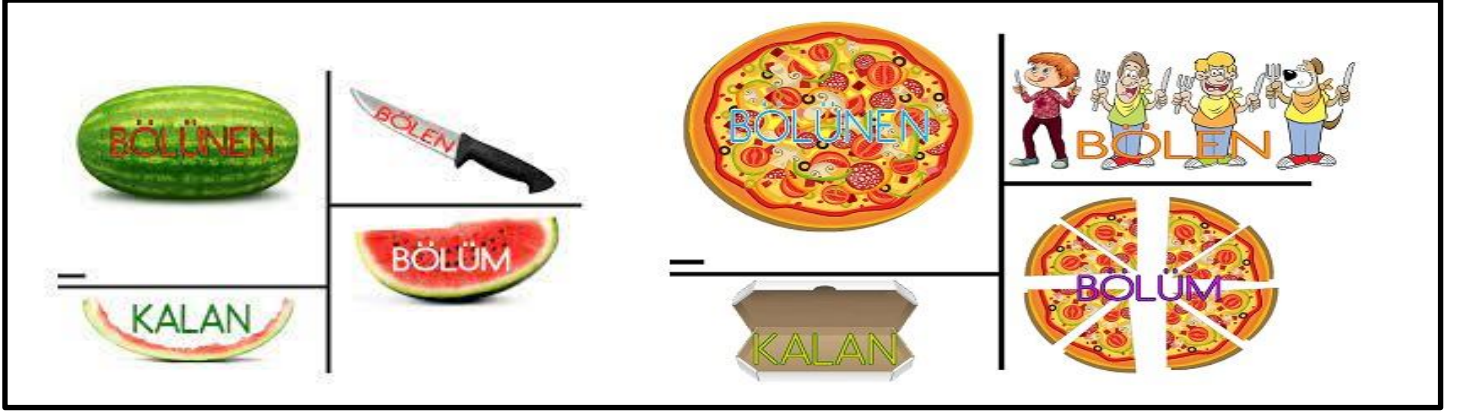
Bölüm:

Kalan:



Instagram

Sınıftaki yaşam



Verilen bilgilere göre işlemleri yapınız.

Toplam dondurma sayısı: 16

Paylaşılacak kişi sayısı: 4

Bir kişiye düşen dondurma sayısı:

Kalan dondurma sayısı:

Toplam misket sayısı: 42

Paylaşılacak kişi sayısı: 6

Bir kişiye düşen misket sayısı:

Kalan misket sayısı:

Toplam para miktarı: 32TL

Paylaşılacak kişi sayısı: 4

Bir kişiye düşen para miktarı:

Kalan para miktarı:

Toplam ceviz sayısı: 27

Paylaşılacak kişi sayısı: 3

Bir kişiye düşen ceviz sayısı:

Kalan ceviz sayısı:

Toplam öğrenci sayısı: 18

Sınıftaki sıra sayısı: 9

Bir sraya düşen öğrenci sayısı:

Sıraya oturmayan öğrenci sayısı:

Bir haftada tüketilen ekmek sayısı: 21

Bir haftadaki gün sayısı:

Bir günde tüketilen ekmek sayısı:

Artan ekmek sayısı: