

ADI SOYADI :

OKUL NO :

Veli
İmza

Belli bir kurala göre devam eden sayı ya da şekil dizisine **örüntü** denir.

Örnek:



Kural: 2 sarı kare, 1 mavi kare ve 3 adım ilerlemiş.

- Kuralı verilen örüntüleri yapalım.

Kural: 2 kare, 1 üçgen ve üç adım ilerletelim.




Kural: 2 dikdörtgen, 2 daire, 1 üçgen ve iki adım ilerletelim.


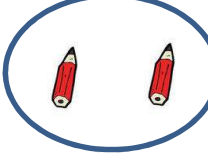


Kural: 3 kare, 1 daire ve dört adım ilerletelim.


Kural: 2 çiçek, 2 kelebek ve üç adım ilerletelim.

- Aşağıdaki örüntülerin kurallarını bularak doğru olan seçeneği işaretleyelim.





Örüntü: 


Seçenekler:

- 
- 
- 
- 





Örüntü: 


Seçenekler:

- 
- 
- 
- 




Örüntü: 

Seçenekler:

- 
- 
- 
- 

Örüntü: 

Seçenekler:

- 
- 
- 
- 