

ad: _____

soyad: _____

PARALARIMIZ

Aşağıdaki paraların değerlerini altlarına yazalım.



Madeni
(bozuk)
paralarımız



Kağıt
paralarımız



ad:

soyad:

PARALARIMIZ

<p>Hangi paranın değeri daha büyüktür?</p>	 <input type="radio"/>	 <input type="radio"/>	 <input type="radio"/>
<p>Hangi paranın değeri daha büyüktür?</p>	 <input type="radio"/>	 <input type="radio"/>	 <input type="radio"/>
<p>Hangi paranın değeri daha küçüktür?</p>	 <input type="radio"/>	 <input type="radio"/>	 <input type="radio"/>
<p>Hangi paranın değeri daha küçüktür?</p>	 <input type="radio"/>	 <input type="radio"/>	 <input type="radio"/>
<p>En büyük madeni para hangisidir?</p>	 <input type="radio"/>	 <input type="radio"/>	 <input type="radio"/>

ad: _____


soyad: _____

PARALARIMIZ

Aşağıdaki paraların toplamını TL olarak yazalım.



Toplam.....



Toplam.....



Toplam.....



Toplam.....



Toplam.....



Toplam.....

ad: _____

soyad: _____

PARALARIMIZ


Aşağıdaki paraların toplamını TL olarak yazalım.




Toplam.....



Toplam.....




Toplam.....



Toplam.....



Toplam.....




Toplam.....

ad: _____


soyad: _____

PARALARIMIZ

Aşağıdaki paraların toplamını TL olarak yazalım.




Toplam.....




Toplam.....



Toplam.....



Toplam.....



Toplam.....



Toplam.....

ad: _____

soyad: _____

PARALARIMIZ

- Aşağıda bazı ailelerin alışveriş yaparken aldıkları ürünlerin fiyatlarına yer verilmiştir. Bu ailelerin toplam ne kadar harcama yaptıklarını yanlarındaki kutucuklara yazalım.

₺
.....

		
₺5	₺45	

₺
.....

		
₺7	₺29	

₺
.....

		
₺18	₺26	

₺
.....

		
₺48	₺13	

₺
.....

		
₺60	₺25	

ad: _____

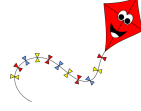
soyad: _____

PARALARIMIZ

Aşağıdaki soruları okuyup cevaplayalım.



Tanesi 20 TL olan ayıcıkların 4 tanesi kaç TL'dir?



Tanesi 46 TL olan uçurtmaların 2 tanesi kaç TL'dir?



Tanesi 30 TL olan kamyonların 3 tanesi kaç TL'dir?



Tanesi 30 TL olan kamyonların 3 tanesi kaç TL'dir?



Tanesi 6 TL olan balonların 5 tanesi kaç TL'dir?



Tanesi 25 TL olan şapkaların 3 tanesi kaç TL'dir?

ad:

soyad:

PARALARIMIZ

Para Üstü Alalım

Aşağıdaki soruları okuyup cevaplarını yanlarındaki kutucuklara yazalım.

Ahmet tanesi 5 TL olan silgilerden 3 tane alıp 20 TL verirse ne kadar para alır?

.....

Deniz 60 TL ile çok sevdiği kitabı 53 TL'ye alırsa ne kadar para üstü alır?

.....

Doruk 30 TL verip 10 TL' ye 3 tane defter alırsa ne kadar para üstü alır?

.....

İpek tanesi 2 liraya 9 tane toka almak için 20 TL para verirse ne kadar para üstü alır?

.....

Fiyatı 64 TL olan ayakkabıyı almak isteyen Yaren 80 TL verirse ne kadar para üstü alır?

.....

Çınar 11 tane 4 liralık kalem için 50 TL para verirse ne kadar para üstü alır?

.....

Mete 87 TL olan mont için 90 TL veriyor. Mete ne kadar para üstü alır?

.....

ad: _____

soyad: _____

Aşağıdaki soruların cevaplarını bulup işaretleyelim.

1) Kuruş kısaca nasıl yazılır?
A) KRŞ B) KR. C) kr.

2) Türk Lirası kısaca nasıl yazılır?
A) TL B) tL C) TL

3) Türk Lirasının sembolü aşağıdakilerden hangisidir?
A) \$ B) ₺ C) €

4) Değeri en fazla olan bozuk paramız hangisidir?

A) B) C)



5) Değeri en az olan kağıt paramız hangisidir?

A) B) C)



6) Yukarıda modellenen paraların toplamı kaç liradır?
A) 4 TL B) 5 TL C) 6 TL

7) Yuşa günde 3 lira harcadığına göre bir haftada kaç lira harcar?
A) 20 TL B) 21 TL C) 22 TL

8) 45 lirası olan Çağın her gün 5 liraya simit aldığına göre parası kaç günde biter?
A) 4 TL B) 5 TL C) 6 TL

9) Değeri en fazla olan kağıt paramız hangisidir?

A) B) C)



ad: _____

soyad: _____



10) Yukardaki paraların tamamıyla aşağıdaki oyuncaklardan hangisini alamam?

A)



30 TL

B)



40 TL

C)



35 TL

11) Sultan'ın 3 tane 5 TL'si, Melisa'nın da 4 tane 10 TL'si var. Sultan ile Melisa'nın toplam ne kadar parası vardır?

A) 55 TL B) 60 TL C) 65 TL



12) Yukarda Atlas'ın bayramda biriktirdiği paralara yer verilmiştir. Atlas bayramda ne kadar para biriktirmiştir?

A) 55 TL B) 60 TL C) 65 TL



13) Yiğit markette parasını verdikten sonra tanesi 2 lira olan 7 tane gofret alıyor. Para üstü olarak yukardaki paraları alan Yiğit markete ne kaç lira vermiştir?

A) 20 TL B) 25 TL C) 30 TL

8) 75 lirası bulunan Ali 15 liraya defter, 20 liraya ise kitap aldı. Ali'nin geriye ne kadar parası kaldı?

A) 30 TL B) 35 TL C) 40 TL

9) Tanesi 4 liradan 9 tane meyve suyu alan Emir kaç lira para öder?

A) 40 TL B) 45 TL C) 50 TL