

1.SINIF ARA TATİL MATEMATİK ÖDEVİ

AŞAĞIDAKİ SORULARI ŞEKİL ÇİZEREK YAPALIM.

1-) 2 yarım pasta kaç tam pasta eder?

8-) 10 tam elma kaç yarım elma eder?

2-) 4 yarım pasta kaç tam pasta eder?

9-) 7 tam elma kaç yarım elma eder?

3-) 8 yarım pasta kaç tam pasta eder?

10-) 6 tam elma kaç yarım elma eder?

4-) 12 yarım pasta kaç tam pasta eder?

11-) 9 tam elma kaç yarım elma eder?

5-) 10 yarım pasta kaç tam pasta eder?

12-) 5 tam elma kaç yarım elma eder?

6-) 14 yarım pasta kaç tam pasta eder?

13-) 4 tam elma kaç yarım elma eder?

7-) 6 yarım pasta kaç tam pasta eder?

14-) 8 tam elma kaç yarım elma eder?



1.SINIF ARA TATİL MATEMATİK ÖDEVİ

AŞAĞIDAKİ SORULARI ŞEKİL ÇİZEREK CEVAPLAYALIM.

1. Yarısı 5 olan sayı kaçtır ?

2. Yarısı 3 olan sayının 4 fazlası kaçtır ?

3. Yarısı 6 olan sayının 2 eksiği kaç olur ?

4. Çeyreği 2 olan sayı kaçtır ?

5. Aşağıdaki yarım elmalar kaç bütün elma eder?




6. Aşağıdaki bütün elmalar kaç yarım elma eder?



1.SINIF ARA TATİL MATEMATİK ÖDEVİ

AŞAĞIDAKİ SORULARI, FİYATLARI VERİLEN EŞYALARA GÖRE CEVAPLAYALIM.



10 TL



8TL



15TL



20TL

- 1)Oyuncak ayı ile kitabın toplam fiyatı kaç TL'dir?.....
- 2) Oyuncak ayı ile boyanın toplam fiyatı kaç TL'dir?.....
- 3) Oyuncak ayı ile çantanın toplam fiyatı kaç TL'dir?.....
- 4)Kitap ile boyanın toplam fiyatı kaç TL'dir?.....
- 5)Kitap ile çantanın toplam fiyatı kaç TL'dir?.....
- 6)Boya ile çantanın toplam fiyatı kaç TL'dir?.....
- 7)2 tane oyuncak ayı alırsak kaç TL öderiz?.....
- 8)3 tane kitap alırsak kaç TL öderiz?.....
- 9) Oyuncak ayı, kitap ve çantaya toplam kaç TL öderiz?.....
- 10)Tüm ürünler için kaç TL öderiz?.....




oyaogretmenn

1.SINIF ARA TATİL MATEMATİK ÖDEVİ


TATİLDE GEÇİRDİĞİM BİR GÜNÜ SAATLERİNİ BELİRTİLEREK PLANLAYALIM.

Saat




uyandım.

Saat




kahvaltımı yaptım.

Saat




ödevlerimi yaptım.

Saat




ödevlerim bitti.

Saat




oyun oynadım.

Saat




kitap okudum.

Saat



aşam yemeğimi yedim.

Saat



uyudum.



oyaogretmenn

1.SINIF ARA TATİL MATEMATİK ÖDEVİ
VERİLEN TAKVİME GÖRE SORULARI CEVAPLAYALIM.



Nisan				2022		
PT	SA	ÇA	PE	CU	CT	PZ
				1	2	3
4	5	6	7	8	9	10
11	12	13	14	15	16	17
18	19	20	21	22	23	24
25	26	27	28	29	30	

- Yukarıdaki takvim yaprağı hangi aya aittir?
- Bu ayın ilk günü hangi günü göstermektedir?
- Nisan ayı kaç gündür?
- 28 Nisan hangi günü göstermektedir?
- Okulların tatil olduğu günler hangileridir? Bu günleri kırmızıya boyayalım.
- 24 Nisan hangi günü göstermektedir?
- 20 Nisan'dan önceki ve sonraki günler hangisidir?

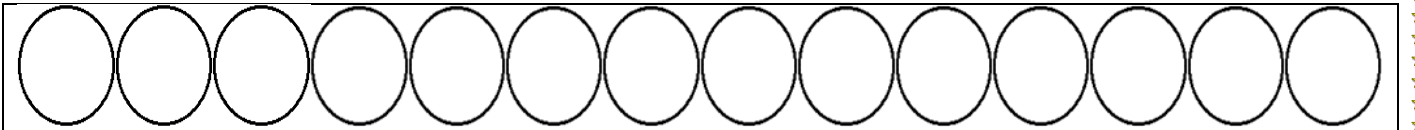


1.SINIF ARA TATİL MATEMATİK ÖDEVİ

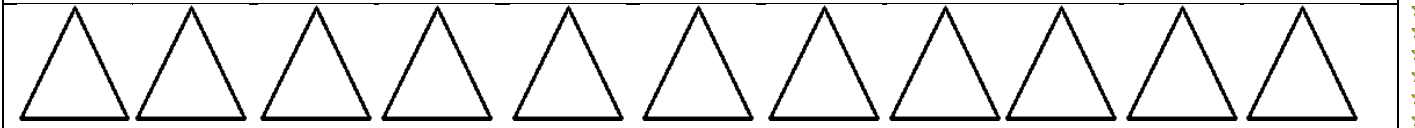
ATKILARI ÖRÜNTÜ KURALINA GÖRE TAMAMLAYIP BOYAYALIM.



Örüntünün kuralı: 2 sarı kare, 2 kırmızı kare



Örüntünün kuralı: 2 mavi daire, 2 sarı daire, 2 yeşil daire



Örüntünün kuralı: 3 mavi üçgen, 3 sarı üçgen