

Adı: .....

Soyadı.....

No.....

Sınıf.....

## 2. SINIF

## Matematik

### Genel Değerlendirme-1



1) Aşağıdaki sayıların okunuşlarını yazınız.

45.....



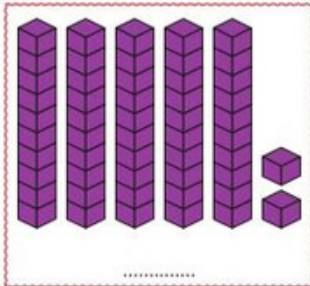
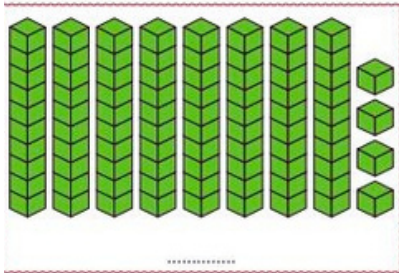
62.....

72.....

96.....

50.....

2) Aşağıdaki onluk ve birlik blokların gösterdiği sayıyı altındaki noktalı alana yazınız.



3) Aşağıda verilen sayıları onluk ve birliklerine ayırınız.

32=.....

45=.....

73=.....

80=.....

97=.....

4) Aşağıda verilen sayıların basamak adlarını ve basamak değerlerini karşlarına yazınız.

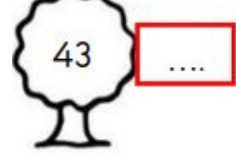

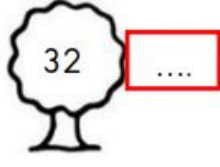

	<u>Basamak Adı</u>	<u>Basamak Değeri</u>
70	.....	.....
	.....	.....

	<u>Basamak Adı</u>	<u>Basamak Değeri</u>
82	.....	.....
	.....	.....



## Genel Değerlendirme-1

5) Aşağıdaki sayıları en yakın onluğa yuvarlayınız.



6) Aşağıdaki örüntülerde boş bırakılan yerleri tamamlayınız.

$$24 - 26 - \dots - 30 - 32$$

$$15 - 19 - 23 - \dots - 31$$

$$30 - 27 - 24 - 21 - \dots$$

$$15 - 20 - 25 - \dots - 35$$

$$33 - 43 - 53 - 63 - \dots$$

6) 2 düzine kalemın 19 eksiği kaçtır?

7) Bir çıkarma işleminde çıkan 25, eksilen 46 ise fark kaçtır?

Başarılar...