






GEOMETRİK SORULAR -2-

1-Bir küpün kaç yüzeyi vardır? 

2-Kare prizmanın kaç yüzeyi vardır? 

3-Üçgen prizmanın kaç yüzeyi üçgensel bölgedir? 

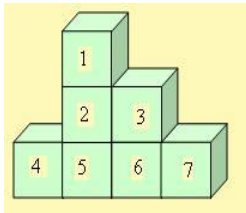
4-Siliindirin kaç yüzeyi dairesel bölgedir? 

5-Dikdörtgen prizma kaç dikdörtgensel bölgeden oluşur? 

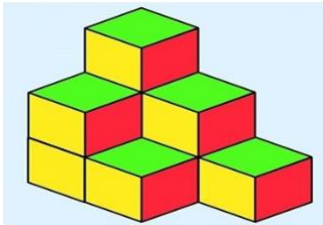
6-İki küpün ayrıt sayısının toplamı kaçtır?

7-Bir üçgen prizmanın ayrıt sayısı ile bir silindirin yüzey sayısının toplamı kaçtır?

8-Bir kare prizmanın köşe sayısı ile bir küpün ayrıt sayısını toplayınız.



9-Yandaki şekildeki küplerde, toplam kaç yüzey vardır?



10-Yandaki şekilde kaç küp vardır?

