



1. Aşağıdaki görsellerden hangisi tek hecelidir?



2. Aşağıdaki kelimelerden hangisi hecelerine yanlış ayrılmıştır?

- A) ka-rın-ca
B) yar-a-sa
C) ker-ten-ke-le


3.




Yukarıdaki hecelerden bir kelime oluşturursak hangi heceyi kullanmayız?

- A) şef B) fa C) li

4. Aşağıdaki görsellerden hangisi üç hecelidir?






5. Hangi çocuğun tuttuğu kelime tek heceli değildir?




6. Aşağıdaki çocuklardan hangisinin adı beş harften oluşmaktadır?

- A) Ali B) Ayşe C) Sinan

7. Aşağıdaki görseller hece sayıları ile eşleştirilmiştir. Hangi görsel yanlış eşleştirilmiştir?

- A)  → 1 hece
- B)  → 2 hece
- C)  → 3 hece

8.  Dondurmanın üzerindeki sayının **birler** basamağındaki sayının basamak değeri kaçtır?

- A) 50 B) 5 C) 25




9. "48" sayısına 4 eklersek onlar basamağındaki sayı kaç olur?

- A)  B)  C) 

10. "64" sayısı için aşağıdakilerden hangisi söylenemez?

- A) 4 onluk ve 6 birlikten oluşur.
B) 4 birlikten oluşur.
C) 6 onluktan oluşur.

11. Aşağıdaki yarış arabalarının numaralarından hangisinin 5 rakamının basamak değeri en büyüktür?

- A)  85
- B)  51
- C)  75

12. Aşağıdaki sayılardan hangisi 7 onluk 6 birlikten oluşmaktadır?

- A) 76 B) 67 C) 56

13. "63 "sayısı ile ilgili bilgilerden hangisi yanlıştır?

- A) 6 sayısının basamak değeri 60'tır.
B) 3 birlik 6 onluktan oluşur.
C) 6 birlik 3 onluktan oluşur.

14. Aşağıdakilerden hangisi okul çantasında bulunmaması gereken araç-gereçtir?

- A)  B)  C) 

15. Grup çalışmasına katılmak bize neler kazandırır?

- A) Sabır
B) Bencillik
C) Yardımlaşma

16. Okul çantamızı hazırlarken aşağıdakilerden hangisine dikkat etmeliyiz?

- A) Sabah kalktığımızda hazırlamalıyız.
B) İstedığımız gibi hazırlayabiliriz.
C) Akşam yatmadan önce hazırlamalıyız.

CEVAP ANAHTARI

1. C

2. B

3. B

4. A

5. B

6. C

7. C

8. B

9. C

10. A

11. B

12. A

13. C

14. C

15. B

16. C