



Sayının okunuşunu yazalım.

.....

Sayının rakamları toplamını yazalım.

.....

Sayının 39 eksiğini bulalım.

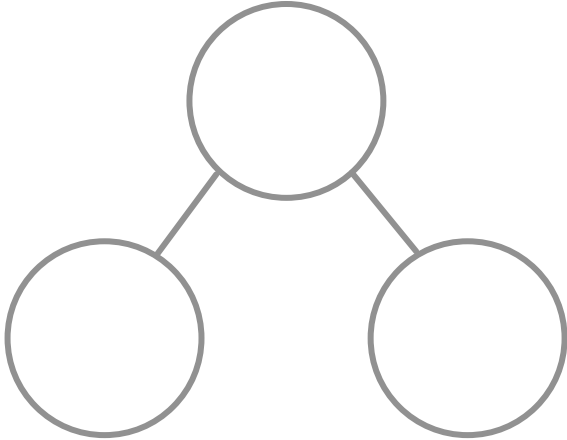
Sayının on öncesini ve on sonrasını yazalım.




.....

.....

Sayının onluk ve birliklerini yazalım.



Sayı kadarını boyayalım.



Sayının onluk bloklarını çizelim.





Sayının okunuşunu yazalım.

.....

Sayının onlar ve birler
basamağını yer deęiřtirerek
yazalım.

.....

Sayının 43 eksięini bulalım.

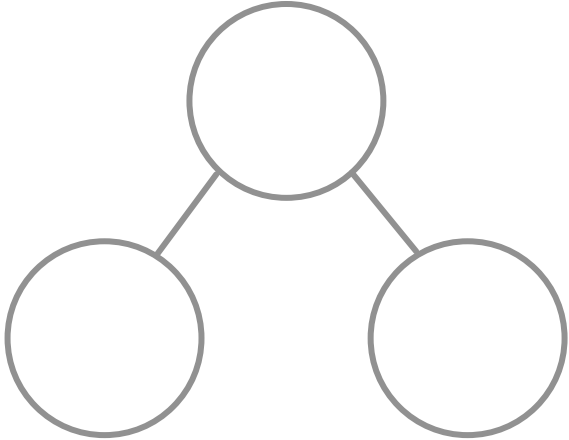
Sayının bir eksięini ve bir fazlasını yazalım.

.....

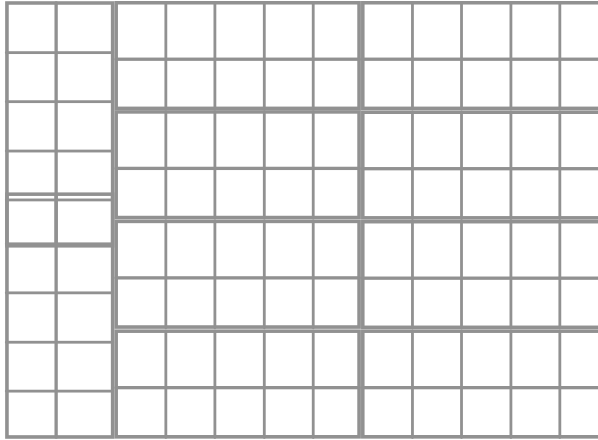


.....

Sayının basamak deęerlerini
yazalım.



Sayı kadarını boyayalım.



Sayının onluk bloklarını
çizelim.

