

# AĞIRLIK ÖLÇME (TARTMA) PROBLEMLERİ

1. Görsele göre Mehmet, İrfan'dan kaç kg daha ağırdır?



2. Bir marketteki 20 kg'lık teneke peynirin cumartesi günü 9 kilogramı, pazar günü ise 10 kilogramı satıldı. Markette kaç kg peynir kalmıştır?



3. Bir manavda her bir kasası 8 kg olan 5 kasa çilek vardır. Bu marketteki çileklerin kütleleri toplamı kaç kilogramdır?



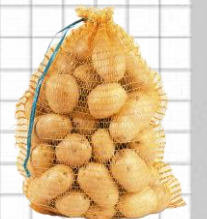
4. Ben, ablam ve ağabeyim olmak üzere üçümüzün kütleleri toplamı 78 kilogramdır. Ben 21 kg, ablam ise 25 kg olduğuna göre ağabeyim kaç kilogramdır?



5. Kardeşim doğduğunda 4 kilogramdı. 1 yaşına girdiği gün tarttığımızda ise 9 kilogram olduğunu gördük. Kardeşim bir yılda kaç kilo almıştır?




6. Pazarcı Hüseyin Amca, her birinde 10 kg patates olan 9 çuval patates getirmişti. Gün sonunda 7 çuvalını sattı. Kaç kg patatesi kaldı?



7. Bir paket köpek maması 15 kilogramdır. 4 paket köpek maması alan Erdem, toplam kaç kg mama almıştır?



8. 84 kilogram olan Leyla Hanım, zayıflayıp 65 kilograama düşmek istemektedir. Leyla Hanım'ın istediği kütleyle inmesi için kaç kilogram vermesi gerekmektedir?




9. Askerde nöbet tutan Metin'in kafasındaki miğfer 2 kg, elindeki tüfek 4 kg, üzerindeki kamuflaj ise 6 kg ağırlığındadır. Metin toplam kaç kg ağırlık taşımaktadır?



10. Bir lokantada hazırlanan yemeklerde her gün 4 kilogram et kullanılmaktadır. Haftalık alışverişe çıkan lokanta sahibi 1 haftada kullanılmak üzere kaç kilogramlık et almalıdır?



11. Annem kilogramı 5 TL olan portakallardan almak için manava gitmiş, manava 20 TL vermiş, para üstü almamıştır. Annem kaç kg portakal almıştır?



12. Dedemin bahçesinden 14 kilogram ceviz topladım. Babam ise benden 7 kg daha fazla ceviz topladı. Babam ve ben toplam kaç kg ceviz toplamışızdır?

