

4. SINIFLAR
SEVIYE BELİRLEME
SINAVI

@sinifcigunlugu





KARGA İLE KOYUN

Kartal süzülüp koyun sürüsüne dalmış. Bir koyunu kapıp havalanmış. Bu durumu gören karga, kartala özenmiş. "Bunu ben de yapabilirim." diye düşünmüş. Kanatlarını açmış, pençelerini germiş. Kartal gibi süzülerek bir koyunun sırtına konmuş. Koyunu kaldırmak istemiş, başaramamış. Çabaladıkça pençeleri koyunun yünlerine dolanmış . Karga ayaklarını kurtarmak istemiş, fakat kurtaramamış. Durumu gören çoban, kargayı yakalamış, ama bırakmamış. Evine götürüp kafese koymuş. Çoluk çocuğa göstermiş.

Kartala özenen zavallı karga, hem özgürlüğünü yitirmiş hem de gülünecek duruma düşmüş.

1.Parçada hangi hayvanların adı geçmektedir?

2.Adı geçen hayvanlardan hangileri evcil değildir?

3.Kartal ne yapmış?

4.Karga kime özenmiş?






5.Karga koyunu yakalamak isteyince ne olmuş?

6.Çoban ne yapmış?

7.Karga, kartala özenince ne olmuş?

8) Aşağıdaki kelimeleri alfabetik sıraya koyunuz.




Tencere - turp - tavuk -
tozlu - tırnak

1.	
2.	
3.	
4.	
5.	

9) Aşağıdaki kelimelerin hangisinin sesteşi yoktur?

- A) Yüz
- B) Yat
- C) Gemi

10) Aşağıdaki sözcüklerin karşılına zıt anlamlarını yazınız.

hızlı		
yukarı		
acemi		

11) Aşağıda cümlelere uygun Noktalama işaretlerini getiriniz.

Eyvah () Çocuk yere düştü ()

Kapıyı kim çaldı ()




Bilgisayar kullanmayı çok severim ()

Akşama ne pişirsem ()

12) Aşağıdaki cümlelerin hangisinde bir karşılaştırma yapılmamıştır?

- A) Makarnayı pilavdan daha çok severim.
- B) Kirazın rengi de elma gibi kıpkırmızıdır.
- C) Akşam yatarken mutlaka süt içerim.

13) Aşağıdaki sözcüklerin karşılına eş anlamlarını yazınız.

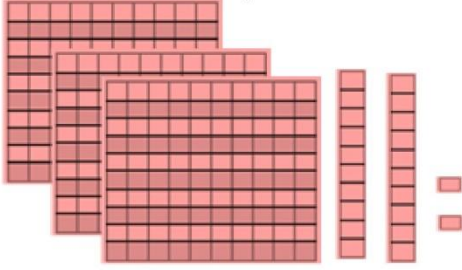
hızlı		
soru		
kelime		

4.SINIFLAR SENE BAŞI SEVİYE TESPİT SINAVI

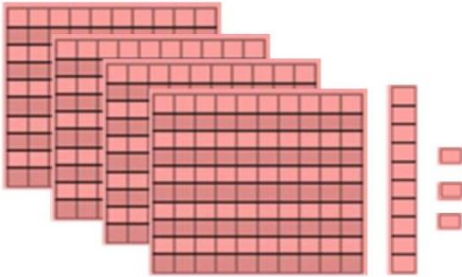
MATEMATİK

Adı Soyadı:

1) Aşağıda modellenen sayıları yazınız.



Sayı:



Sayı:

2) Aşağıdaki sayıların okunuşlarını yazınız.

603 :

881 :

3) Aşağıda okunuşları verilen doğal sayıları rakam ile yazınız.

Yedi yüz on sekiz :

Dört yüz yetmiş beş :

4) Aşağıdaki sayıları küçükten büyüğe doğru sıralayın.

125 – 712 – 481 – 767 – 942 – 220

5) Aşağıdaki sayıları en yakın onluğa ve yüzlüğe yuvarlayın.

Sayı	En Yakın Onluk	En Yakın Yüzlük
869		
502		
376		

6) Aşağıdaki toplama ve çıkarma işlemlerini yapınız.

$$\begin{array}{r} 987 \\ - 882 \\ \hline \end{array} \quad \begin{array}{r} 353 \\ + 918 \\ \hline \end{array} \quad \begin{array}{r} 154 \\ + 777 \\ \hline \end{array}$$

$$\begin{array}{r} 809 \\ - 162 \\ \hline \end{array} \quad \begin{array}{r} 175 \\ + 476 \\ \hline \end{array} \quad \begin{array}{r} 267 \\ - 178 \\ \hline \end{array}$$

$$\begin{array}{r} 602 \\ + 927 \\ \hline \end{array} \quad \begin{array}{r} 806 \\ + 773 \\ \hline \end{array} \quad \begin{array}{r} 625 \\ + 219 \\ \hline \end{array}$$

$$\begin{array}{r} 684 \\ - 150 \\ \hline \end{array} \quad \begin{array}{r} 659 \\ + 588 \\ \hline \end{array} \quad \begin{array}{r} 885 \\ + 159 \\ \hline \end{array}$$

4.SINIFLAR SENE BAŞI SEVİYE TESPİT SINAVI
MATEMATİK

Adı Soyadı:

7) Aşağıdaki çarpma işlemlerini yapınız.

$$\begin{array}{r} 32 \\ \times 8 \\ \hline \end{array} \quad \begin{array}{r} 68 \\ \times 3 \\ \hline \end{array}$$

$$\begin{array}{r} \boxed{2} \boxed{8} \\ \times \boxed{8} \boxed{8} \\ \hline \boxed{} \boxed{} \boxed{} \\ + \boxed{} \boxed{} \boxed{} \boxed{0} \\ \hline \boxed{} \boxed{} \boxed{} \boxed{} \end{array} \quad \begin{array}{r} \boxed{3} \boxed{3} \\ \times \boxed{4} \boxed{7} \\ \hline \boxed{} \boxed{} \boxed{} \\ + \boxed{} \boxed{} \boxed{} \boxed{0} \\ \hline \boxed{} \boxed{} \boxed{} \boxed{} \end{array}$$

8) Aşağıdaki bölme işlemlerini yapınız.

$$\begin{array}{r} \div \\ 90 \overline{) 4} \\ - \\ \hline \end{array}$$

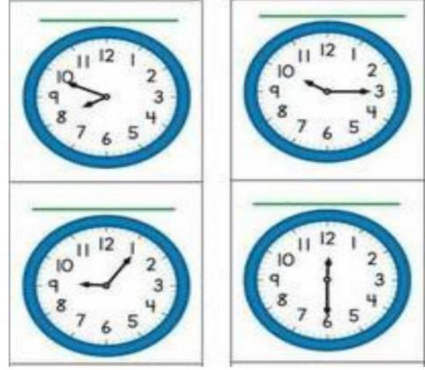
$$\begin{array}{r} \div \\ 82 \overline{) 3} \\ - \\ \hline \end{array}$$

$$\begin{array}{r} \div \\ 92 \overline{) 5} \\ - \\ \hline \end{array}$$

$$\begin{array}{r} \div \\ 76 \overline{) 9} \\ - \\ \hline \end{array}$$

9) Bir çiftlikte 12 tavuk, 8 keçi ve 16 inek vardır. Bu çiftlikteki hayvanların ayak sayıları toplamı kaçtır?

10) Aşağıdaki saatlerin öğleden sonra kaçı gösterdiğini yazınız.



11) Aşağıdaki şekillerin boyalı kısımlarına karşılık gelen kesirleri yazınız.



12) 96 litre kolonyayı beşer litrelik şişelere koyarsak geriye kaç litre kolonya kalır?

CEVAPLARINI KONTROL ET 😊