


ADI SOYADI :

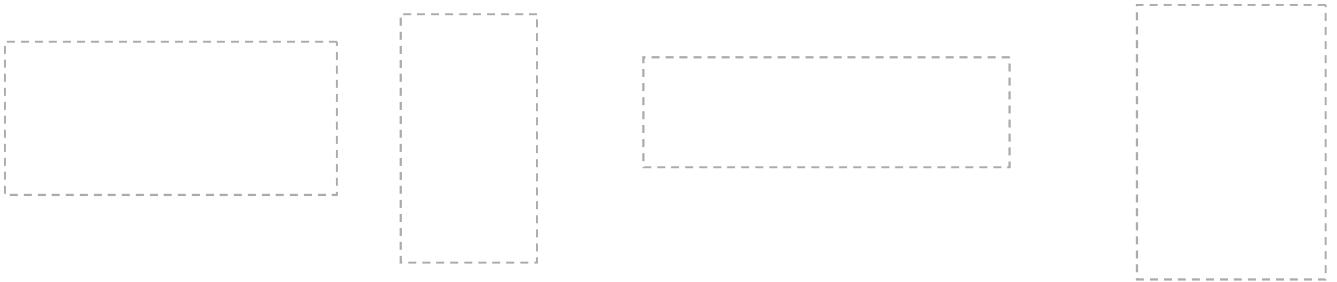
OKUL NO :

Veli
İmza

- 1- Aşağıdaki şekillerden üçgenlerin kenarını **kırmızı**, karelerin kenarını **mavi**, dikdörtgenlerin kenarını **yeşil**, çemberlerin etrafını ise **sarı** kalemle çiziniz.
- 2- Karelerin ortasına 1, dikdörtgenlerin ortasına 2, üçgenlerin ortasına 3, çemberlerin ortasına 4 yazınız.



- 3- Aşağıdaki dikdörtgenlerin uzun kenarlarını **kırmızıya** kısa kenarlarını **maviye** boyayınız.

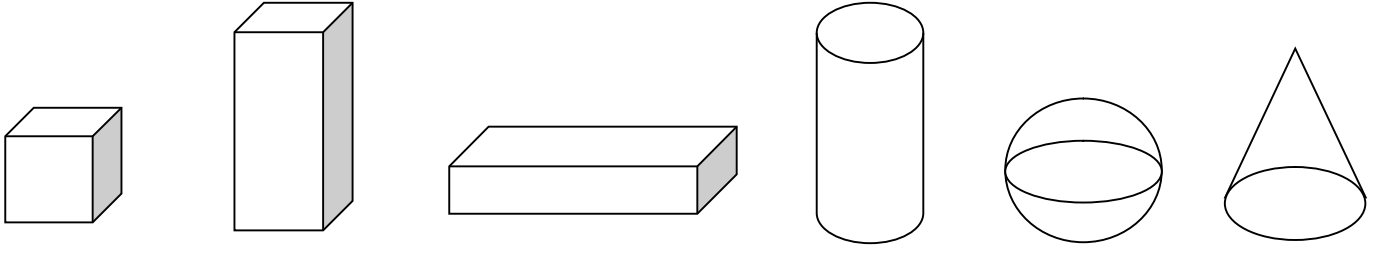


- 4- Aşağıdaki boşlukları uygun sözcüklerle doldurunuz.

- a) Benim adım 4 kenarım 4 köşem var. Bütün kenar uzunluklarım birbirine eşit.
- b) Benim adım 3 kenarım 3 köşem var.
- c) Benim adım 4 kenarım 4 köşem var. Karşılıklı kenar uzunluklarım birbirine eşit.
- d) Benim adım Benim kenar ve köşelerim yok.


GEOMETRİK CİSİMLER

1) Aşağıdaki cisimlerin adlarını altlarına yazınız.



.....
.....

2) Aşağıdaki varlıkları şekillerine göre geometrik cisimlerle eşleştirelim.



KÜRE



KÜP

SİLİNDİR

DİKDÖRGEN
PRİZMA

KONİ

ÜÇGEN
PRİZMA



3) Aşağıdaki geometrik cisimlere ikişer örnek yazalım.

Koni

Küre

Küp

Üçgen prizma

Silindir

.....
.....