

Adı-Soyadı:

A) Aşağıda verilen boşlukları uygun kelimelerle dolduralım. (7 Puan)

→ Her insanın yetenek ve becerileri vardır. Kimi insanlar yapmayı severken; kimilerinin yeteneği çok gelişmiştir. Bunlar insanların taraflarıdır. İnsanların güçlü olduğu kadar güçlendirilmesi tarafları da vardır. Güçlü yönlerimizi olduğu kadar yönlerimizi de geliştirmek için sarf etmeliyiz.

zayıf	spor	farklı	resim
güçlü	çaba	gereken	beceri

B) Aşağıdaki cümlelerde yer alan boşlukları dolduralım. (5 Puan)

1- Okuldaki öğrenci ve velilerin isteklerini anlatabilmesi için konulmuştur.

2- İstek ve ihtiyaçlarımızı okul idaresine yazarak iletebiliriz.

3- Sınıf başkanı seçerken yöntemler kullanırız.

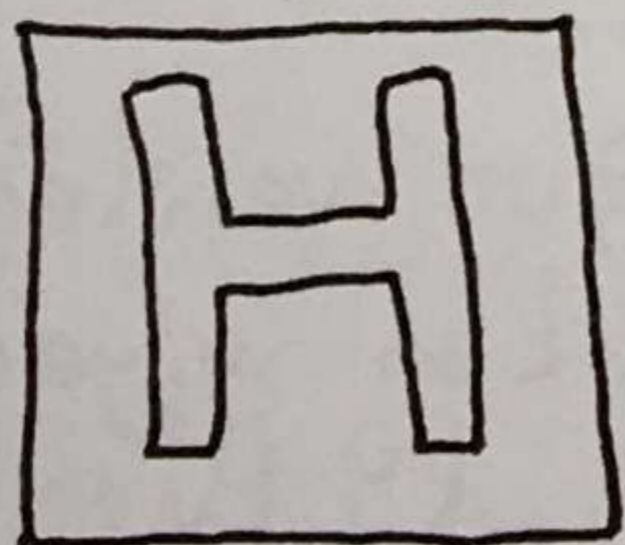

4- Seçimlerde birbirimize karşı olmalıyız.

5- Okulumuzda demokrasiye en uygun örnek

Saygılı seçimlerdir demokratik

dilek kutuları dilekçe

C- Aşağıdaki levhaların anlamlarını yazalım. (6 Puan)



D- Cümleleri okuyalım. Doğru olanların başındaki kutucuğa (D) yanlış olanları (Y) yazalım. (6 Puan)

Kardeşimin oyuncaklarını izinsiz aldığımda kardeşim kızabilir.

Arkadaşım bana yardım ettiğinde mutlu olurum.

Çöplerimizi sıranın altına koymalıyız.

İstek ve ihtiyaçlarımızı ifade ederken ısrarcı olmalıyız.

Sınıftaki akıllı tahtayı öğretmenimizden izin alarak kullanırız.

Kroki, kusbakışı olarak çizilir.

E- Meslek alanlarından her birine uygun ikişer meslek yazalım. (12 Puan)

* Sağlık alanında → _____

* Sanat alanında → _____

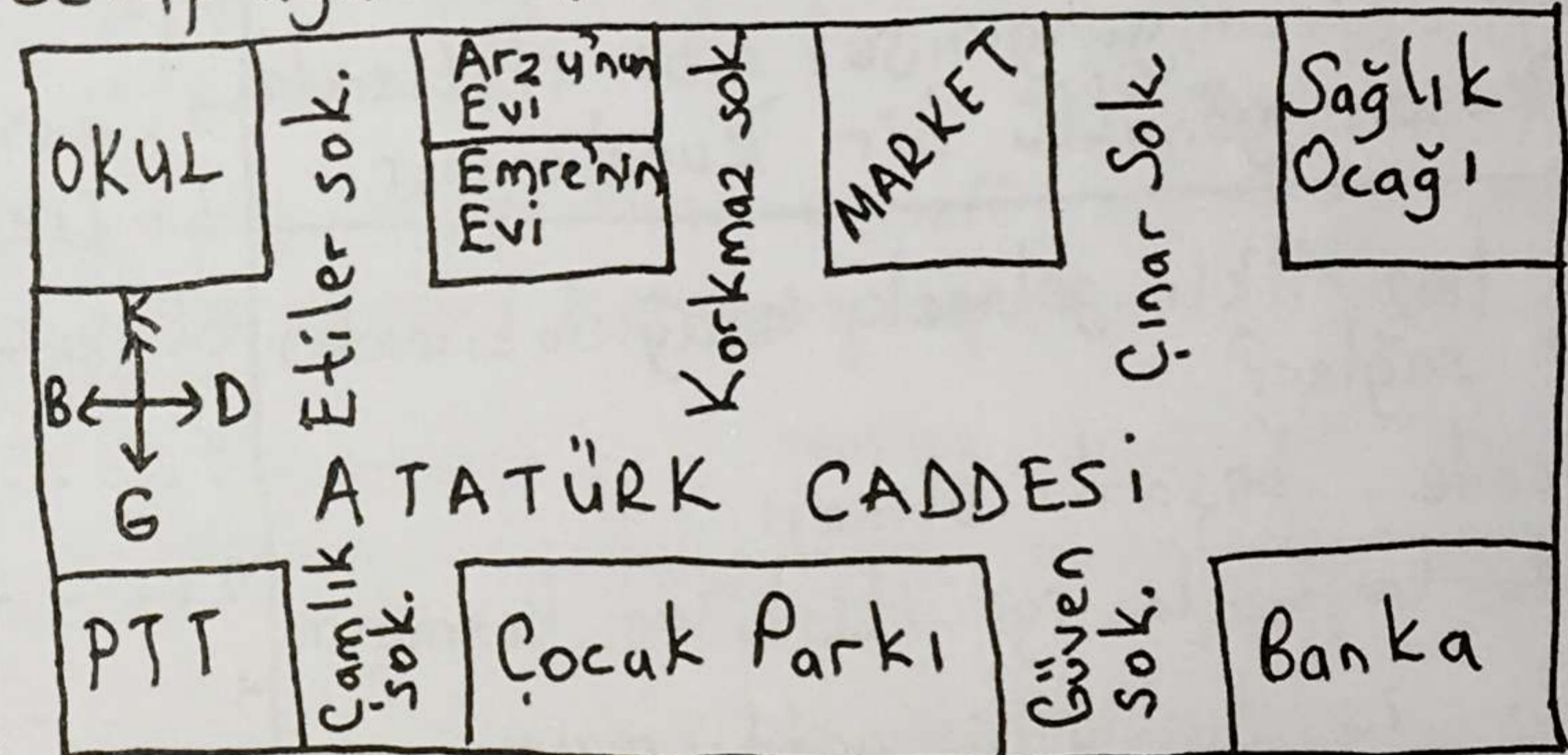
* Ulaşım alanında → _____

* Hukuk alanında → _____

* Güvenlik alanında → _____

* Eğitim alanında → _____

F- Aşağıdaki soruları krokiye göre cevaplayalım. (6 Puan)



1- Emre'nin evinin güneyinde bulunur.

2- Bankanın kuzeyinde bulunur.

3- PTT'nin doğusunda bulunur.

4- Sağlık ocağının batısında bulunur.

5- Emre'nin evinin kuzeyinde bulunur.

6- Okuldan bankaya gitmek için geçmem gerekir.

G-Aşağıdaki soruların doğru yanıtlarını, yuvarlak içine alınız. (21 Puan)

1-Aşağıdakilerden hangisi yanlıştır?

A-) Birinden istekte bulunurken "Lütfen" ifadesini kullanmalıyız.

B-) İhtiyacı olan okullara yardım yapabiliriz.

C-) Kaynaklarımız asla tükenmez.

2-Hangi seçenekte sadece fiziksel özellikler verilmiştir?

A-) Mavi gözlü - kilolu - uzun boylu

B-) Sarı saçlı - sabırlı - zayıf

C-) Uzun saçlı - dürüst - kahverengi gözlü

3-Hangisi hatalı bir bilgidir?

A-) İlköğretim haftası okulların açıldığı ilk hafta kutlanır.

B-) Cumhuriyet 23 Nisan 1920'de ilan edilmiştir.

C-) Kızılay; deprem, yangın, sel gibi afetlerde yardıma koşan gönüllü bir kuruluştur.

4-Okula hazırlıklı gelmek aşağıdakilerden hangisini sağlar?

A-) Derslerde başarılı olmayı

B-) Arkadaşlarımızla iyi ilişkiler kurmayı

C-) Evdeki iş birliğini arttırmayı

5-Aşağıdakilerden hangisi sosyal faaliyetlerin kişilere yansımalarıdır?

A-) Bencil olmamıza neden olur.

B-) Toplumda yardımlaşmayı artırır.

C-) Daha kurnaz olmamızı sağlar.

6-Kaç tanesi okulun bize kattıkları arasında yer alır?

saygı bilgi sevgi bencillik cahillik hoşgörü

A-) 3

B-) 4

C-) 5

7-Günde 3 öğün yemek yemek beslenme, her yiyecekte yeteri kadar yemek beslenmez mi?

A-) sağlıklı - idareli

B-) düzenli - tutumlu

C-) düzenli - dengeli

H-Aşağıdaki soruları yanıtlayınız. (5 Puan)

1-Yaz mevsiminde tüketilmesi gereken meyve ve sebzelerden 5 tanesini yazalım.

→ →
→

2-"Kişisel bakımımızı yapmak" ifadesi 3 örnek yazalım. (6 Puan)

→
→
→

3-Bir ürün satın alırken nelere dikkat ederiz? 5 tanesini yazalım. (5 Puan)

→
→
→
→
→

4-Okulda başarılı bir öğrenci olmak için neler yapmalıyız? (6 Puan)

→
→
→

5-Çantamızı ders programına göre hazırlamazsak hangi sorunla karşılaşırız? (6 Puan)

→
→

6-Sağlıklı bir çocuğun verilen öğünlerde yemesi gereken yiyeceklere 3'er tane yazalım. (9 Puan)

Sabah → / /
Öğle → / /
Akşam → / /

Sınav Bitti. Cevaplarımızı kontrol edelim.

Başarılar Dilerim 😊