



DERS : MATEMATİK

KONU : ÇIKARMA İŞLEMİ

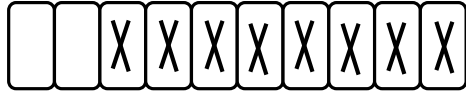
ADI SOYADI :

OKUL NO :

VELİ

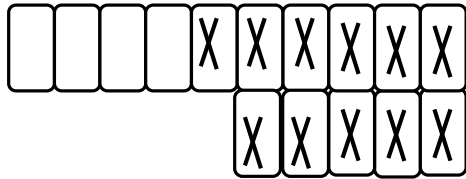
İMZA

1. Aşağıdaki çıkarma işlemlerini şekle göre cevaplayınız.



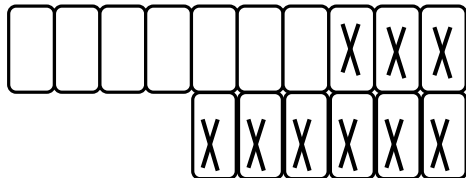
Toplam	Çıkan	Kalan

$$\square - \square = \square$$



Toplam	Çıkan	Kalan

$$\square - \square = \square$$

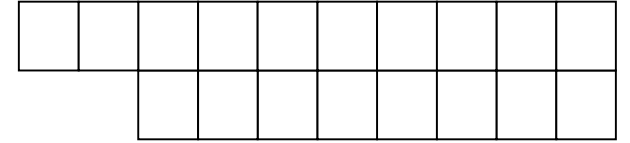


Toplam	Çıkan	Kalan

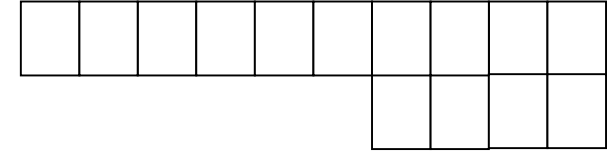
$$\square - \square = \square$$

2. Aşağıdaki çıkarma işlemlerini şekilleri kullanarak yapınız. Kutuların içine çıkan sayı kadar X koyunuz.

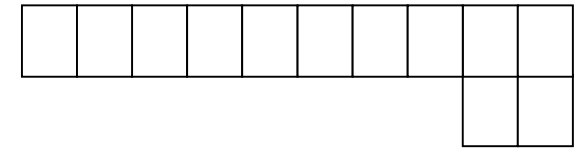
$$\begin{array}{r} 18 \\ - 9 \\ \hline \square \end{array}$$




$$\begin{array}{r} 14 \\ - 6 \\ \hline \square \end{array}$$




$$\begin{array}{r} 12 \\ - 3 \\ \hline \square \end{array}$$



$$\begin{array}{r} 16 \\ - 9 \\ \hline \square \end{array}$$



3. Aşağıdaki soruları şekle göre cevaplayınız. Doğru olan cevabı bularak işaretleyiniz.



a) Kutudan kaç çilek çıkarılmıştır?

- A) 6 B) 5 C) 4 D) 3

b) Kutuda kaç çilek kalmıştır?

- A) 9 B) 8 C) 7 D) 6

c) Kutudan çilek çıkartılmadan önce kutuda kaç çilek vardı?

- A) 15 B) 14 C) 13 D) 12

ç) Kutudan kaç çilek daha çıkarırsak geride 8 çilek kalır?

- A) 4 B) 3 C) 2 D) 1

d) Kutudan kaç çilek daha çıkarırsak geride 8 çilek kalır?

- A) 1 B) 2 C) 3 D) 4

4. Aşağıdaki soruları okuyunuz. Cevaplarını karşısına yapınız.

Anıl' ın 12 cevizi vardı. 7 tanesini ablasına verdi. Anıl' ın kaç cevizi kaldı?	
Büşra' nın 17 fıncığı vardı. Fındıklardan 8 tanesini yedi. Geriye kaç fındık kaldı?	
Elifnaz 13 yaşındadır. Kardeşi Elifnaz' dan 4 yaş küçüktür. Elifnaz' ın kardeşi kaç yaşındadır?	
Ağaçtaki 15 kuştan 7 tanesini uçtu. Ağaçta kaç kuş kaldı?	
Beren, 11 kolyesinden 5' ini arkadaşlarına hediye etti. Beren' in kaç kolyesi kalmıştır?	
Giray, elindeki 17 bisküviden 8 tanesini yedi. Giray' ın elinde kaç bisküvi kalmıştır?	
Otobüste 14 yolcu vardı. 9 tanesini indi. Otobüste kaç yolcu kaldı?	