







Tablo: Manavda Satılan Meyveler Tablosu

MEYVELER	PAZARTESİ	SALI	ÇARŞAMBA	PERŞEMBE	CUMA
	5	3	4	6	7
	4	8	0	9	5
	10	8	6	4	5
	7	0	5	4	6

Manavda satılan meyveler ile ilgili soruları tabloya bakarak cevaplayınız.

SORULAR

1-) En fazla karpuz hangi gün satılmıştır?

2-) Muz hangi gün hiç satılmamıştır?

3-) Çilek çarşamba günü kaç tane satılmıştır?

4-) Kaç tane muz satılmıştır?

5-) Toplam kaç tane armut satılmıştır?

6-) Perşembe günü toplam kaç tane meyve satılmıştır?

7-) Satılan çilek sayısı, armut sayısından kaç fazladır?

8-) Muz, armuttan kaç fazla satılmıştır?