

Adı:

2021-2022 Eğitim-Öğretim Yılı İlkokulu

Soyadı:

Matematik Dersi I.Dönem I.Yazılı Sınavı


1. Verilen doğal sayıların okunuşlarını yazalım (5 p)

- 2575:
- 4366:
- 12890:
- 24508:
- 346505:


2. Okunuşları verilen doğal sayıları rakamlarla yazalım. (5 p)

- Bin dokuz yüz beş:
- Altı bin yirmi dokuz:
- Seksen iki bin dört yüz:
- Doksan beş bin üç:
- Yüz bin on yedi:

3. Verilen sayıları en yakın onluğuna yuvarlayalım. (4 p)



4. Verilen sayıları en yakın yüzlüğüne yuvarlayalım. (4 p)



5. Aşağıda verilen sayıları çözümleniz. (5 p)

- 1881:
- 1938:
- 1453:
- 22584:
- 665823:


6. Verilen sayıları **sembol** kullanarak küçükten büyüğe doğru sıralayınız. (5 p)




7. Verilen sayıları **sembol** kullanarak büyükten küçüğe doğru sıralayınız. (5 p)



8. $A < 1202 + 3605$ ifadesinde A yerine yazılabilecek en büyük sayı kaçtır? (5 p)



9. $3658 - 245 < B$ ifadesinde B yerine yazılabilecek en küçük sayı kaçtır? (5 p)



10. Bölüklerindeki rakamları verilen sayıları yazınız. (5 p)



11. 3-6-0-4-9-8 rakamları kullanılarak oluşturulabilecek rakamları farklı, (12 p)

En büyük sayı: →

En küçük sayı: →

En küçük tek sayı: →

En büyük çift sayı: →

12. Aşağıda verilen doğal sayının basamak adlarını ve basamak değerlerini gösterelim. (7 p)

Sayı	Basamak Adları	Basamak Değerleri
5 2 6 9 8 0		

13. Aşağıda verilen örüntülerin kuralını bulun. Örüntüleri iki adım devam ettirin. (8 p)

4 7 6 9 8

Örüntü Kuralı:

6 11 9 14 12

Örüntü Kuralı:

14. 435A68 sayısının sayı değerleri toplamı 33 olduğuna göre A sayısının basamak değeri kaçtır? (5 p)

15. Bir toplama işleminde birinci toplanan sayı 1252 ve toplam 4387 ise ikinci toplanan sayı kaçtır? (5 p)

16. Bir tiyatro salonuna ilk ay 2250 seyirci, ikinci ay ilk aydan 1140 daha fazla seyirci gelmiştir. Bu tiyatro salonuna ikinci ayın sonundan toplam kaç seyirci gelmiştir? (5 p)

17. Bir hastane kantininde pazartesi günü 1365 meyve suyu, salı günü ise bir önceki günden 286 daha az meyve suyu satılmıştır. Bu kantinde iki günde toplam kaç meyve suyu satılmıştır? (5 p)

18. Bir hastane kantininde pazartesi günü 1365 meyve suyu, salı günü ise bir önceki günden 286 daha az meyve suyu satılmıştır. Bu kantinde iki günde toplam kaç meyve suyu satılmıştır? (5 p)

Cevaplarınızı kontrol etmeyi unutmayın!