


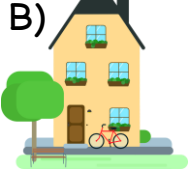

Adı Soyadı:.....


**UZUNLUKLARI ÖLÇME**  
**KAZANIM DEĞERLENDİRME SINAVI**

1. Aşağıdakilerden hangisi standart olmayan bir ölçme aracıdır?

- A) Metre B) Mezura C) Adım

2. Aşağıdakilerden hangisinin boyu 1 metreden uzundur?

- A)  B)  C) 

3. 

Yukarıdaki kalemin uzunluğu kaç cm'dir?

- A) 7 B) 11 C) 15

4. Aşağıdakilerden hangisi ormandaki bir ağacın tahmini uzunluğu olabilir?

- A) 3 m  
B) 2 cm  
C) 1 cm



5. "1 m = ..... cm'dir." ifadesinde boşluğa hangisi gelmelidir?

- A) 10 B) 100 C) 1000

6. Aşağıdaki uzunluk ve ölçme aracı eşleştirmelerinden hangisi yanlıştır?

- A) Sıranın boyu = karış  
B) Etkileşimli tahtanın boyu = kulaç  
C) Salonun uzunluğu = parmak

7. Apartmanımız 12 metre yüksekliğindedir. Apartmanımız 3 katlı olduğuna göre, her katın yüksekliği kaç metredir?

- A) 4 m  
B) 9 m  
C) 15 m



8. Öğretmenimiz elindeki rafyanın 15 metresini kullanınca geriye 35 m rafya kalmış. Kullanılmadan önce rafya kaç metreydi?

- A) 45 m  
B) 50 m  
C) 55 m



9. 15 m, 25 m ve 35 m uzunluğunda olan 3 çit birleştirilirse oluşacak yeni çitin uzunluğu kaç m olur?

- A) 55 m  
B) 65 m  
C) 75 m



10. Evimizin parka olan uzaklığı 46 metredir. Evden parka gidip gelsem kaç metre yürümüş olurum?

- A) 47 m  
B) 92 m  
C) 97 m



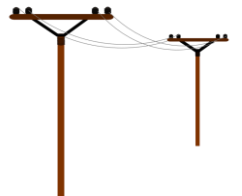
11. ( ) Standart uzunluk ölçü birimi metredir.  
( ) Yarım metre 5 cm'dir.  
( ) Bir karıncanın boyu 1 m'den kısadır.

cümleleri doğru-yanlış olarak ifade edilirse doğru sıralama nasıl olmalıdır?

- A) D B) Y C) D  
Y D Y  
Y Y D

12. İki direk arası 5 metre ise, 3 direk arası kaç metredir?

- A) 10 m  
B) 15 m  
C) 20 m



Bir ok atma yarışmasına katılan dört arkadaşın attıkları ok mesafeleri aşağıdaki gibidir. Buna göre 13, 14, 15 ve 16. soruları cevaplayınız.



<u>Adı</u>	<u>Atış Mesafesi</u>
Okan	25 m
Aycan	22 m
Erkan	28 m
Nurcan	24 m


**13.** En uzun mesafe oku hangi çocuk atmıştır?

- A) Nurcan
- B) Aycan
- C) Erkan



**14.** En kısa mesafe oku hangi çocuk atmıştır?

- A) Aycan
- B) Okan
- C) Erkan



**15.** Erkan, Okan'dan kaç metre daha uzağa ok atmıştır?

- A) 2 m
- B) 3 m
- C) 4 m

**16.** Aycan, Nurcan'dan kaç metre daha kısa mesafeli ok atmıştır?

- A) 2 m
- B) 3 m
- C) 4 m


Aşağıda bazı nesnelere ve uzunlukları verilmiştir. Buna göre 17,18,19 ve 20. Soruları cevaplayınız.



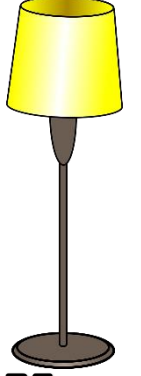
38 cm



27 cm



7 cm



75 cm

**17.** En uzun nesne hangisidir?

- A) çanta
- B) lamba
- C) çekiç



**18.** En kısa nesne hangisidir?

- A) lamba
- B) mandal
- C) çanta



**19.** Lamba, çantadan kaç cm daha uzundur?

- A) 37 cm
- B) 39 cm
- C) 43 cm

**20.** Çekiç ve mandalın uzunlukları toplamı kaç cm'dir?

- A) 20 cm
- B) 34 cm
- C) 44 cm