

Adı,Soyadı:

## 2.DÖNEM 4.MATEMATİK SINAVI



1-

Yukarıdaki çocuklar 5'er ritmik sayma yapıyor. Buna göre sarı saçlı çocuğun söyleyeceği sayının **okunuşu** aşağıdakilerden hangisidir?

A) yirmi beş B) yirmi C) 25



2-

Arda top sektirirken 10'ar 10 'ar saymaktadır. Arda beşinci kez topu sektirirken hangi sayıyı söylemelidir?

A) 40 B) 50 C)60



3-

Ayçin'e babası 10 TL vermiştir. Aşağıdakilerden hangisi 10 TL eder?

A) 2 tane 5 TL B) 1 tane 1 TL C) 2 tane 10 TL

4-

$$12 + 5 = ?$$

İşleminin sonucu kaç onluk kaç birliktir?

A)1 onluk 5 birlik B) 1 onluk 7 birlik C) 7 birlik


5-



Otobüste 8 yolcu vardı. Durakta 5 yolcu daha bindi Otobüste kaç yolcu oldu?

A) 3 B)12 C) 13

6-



Ormanlık alandaki 6 ağacın yanına, kaç ağaç daha dikilirse 12 ağaç olur?

A) 5 B)6 C) 7




7-Yukarıdaki üçüzlerin her birinin yaşları 7'dir.Buna göre üçüzlerin yaşları toplamı kaçtır?

A)7 B)14 C)21

Kocaman Ailesi

Çiğdem Ailesi



8-


Kocaman ve Çiğdem ailesi kişi sayısı toplamı kaçtır?

A)11 B)12 C)10

9-Aşağıdaki sayıların hangisinin toplamı 9 eder?

A) 4+2 B)5+2 C) 7+1

10-



Yukarıdaki sayıdan önce ve sonra gelen sayılar hangisidir?

A) önce 17 sonra 20 B) önce 16 sonra 19 C) önce 17 sonra 19