



1.TEMA



# MATEMATİK

Uzamsal İlişkiler

Öğrenme Çıktısı: MAT.13.1.

Hedefe ulaşmak için mesafeleri ve yönleri içeren yönergeleri çözümlenebilir



Adım:.....


Soyadım:.....

Sonuç: ☆☆☆☆

## Etkinlik 1

Aşağıda verilen yönergeye göre şekiller çizin. Çizdiğiniz şekilleri istediğiniz renge boyayınız.

1. Ağacın sağına 1 çiçek çiz.
2. Ağacın üstüne 2 bulut çiz.
3. Bulutların arasına güneş çiz.
4. Soldaki bulutun içine adını yaz.
5. Bulutlardan daha yüksekte 1 kuş çiz.
6. Ağacın etrafına 4 elma çiz.



@ufukkoca

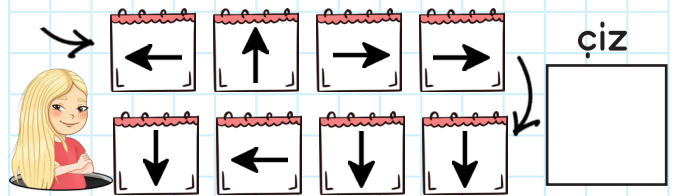
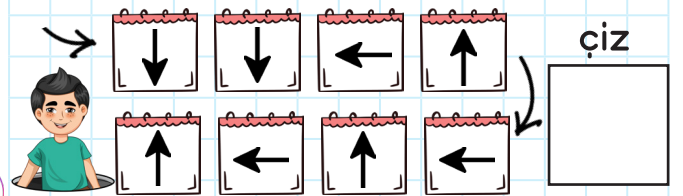
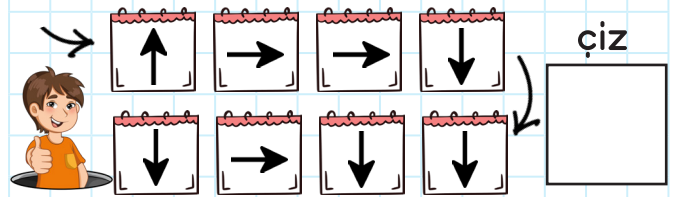



@ufukkoca61



## Etkinlik 2

Çocuklar aşağıda verilen yönergeye göre hareket ettiğinde hangi meyveye vardığını bulup çizin.





Adım:.....

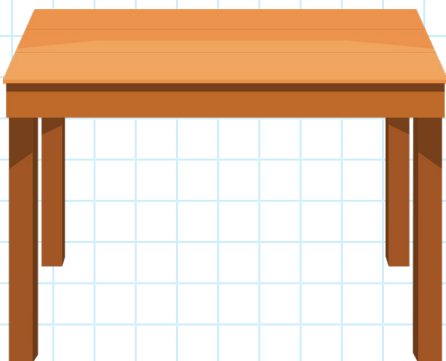
Soyadım:.....

Sonuç: ☆☆☆☆

## Etkinlik 3




Aşağıda verilen yönergeye göre şekiller çizin. Çizdiğiniz şekilleri istediğiniz renge boyayınız.

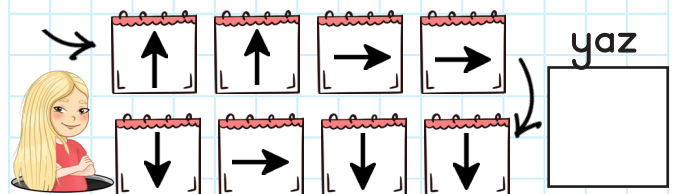
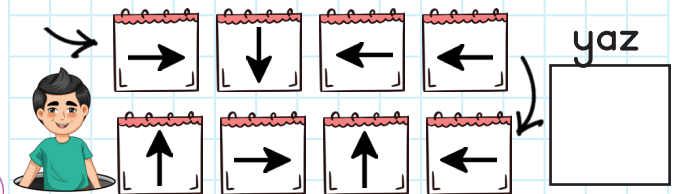
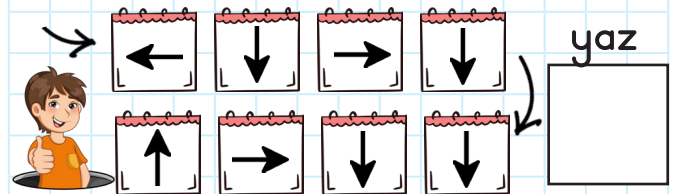
1. Masanın altına top çiz.
2. Masanın soluna kalem çiz.
3. Masanın üstüne 2 kova çiz.
4. Kovaların arasına 1 bardak çiz.
5. Kovalardan daha yüksekte 3 çiçek çiz.
6. Soldaki kovanın içine 2 elma çiz.



## Etkinlik 4

Çocuklar aşağıda verilen yönergeye göre hareket ettiğinde hangi harfe vardığını bulup yazınız

A	B	C	Ç	D	E
F	G	Ğ	H		I
	İ	J	K	L	M
N	O	Ö	P	R	S
Ş	T		U	Ü	V
Y	Z	X	W	Q	A



@ufukkoca



@ufukkoca61





1. TEMA



# MATEMATİK

Uzamsal İlişkiler

Öğrenme Çıktısı: MAT.13.1.

Hedefe ulaşmak için mesafeleri ve yönleri içeren yönergeleri çözümleyebilme




Adım:.....

Soyadım:.....

Sonuç: ☆☆☆☆

## Etkinlik 5

Aşağıda verilen resme göre soruların cevaplarını bulup yuvarlak içine alınız.



1. Koltuğun altında hangisi var?



2. Masanın üstünde hangileri var?



3. Sepetin icinde ne var?




4. Hangisi masanın solunda değil?



## Etkinlik 6

Aşağıdaki yönergelere göre, görselde verilen nesnelere boyayınız.

1. Masanın altındaki elmayı yeşile, masanın üstündeki elmayı sarıya boya.
2. Alçakta olan topu kırmızıya, yüksekte olan topu maviye boya.
3. Masanın solundaki kuşu maviye boya.
4. Yıldız ile kuş arasındakini farklı 2 renkte boya.



@ufukkoca



@ufukkoca61






Adım:.....

Soyadım:.....

Sonuç: ☆☆☆☆

## Etkinlik 7

Aşağıda verilen resme göre soruların cevaplarını bulup yuvarlak içine alınız.



1. Maymunun arkasında ne var?



2. Tavşanın önünde ne var?



3. Hangileri gölün icinde?




4. Hangileri gölün etrafında?



## Etkinlik 8

Aşağıdaki tabloyu yönergeye uygun şekiller çizerek doldurunuz.



1. Kalemin üstünde elma var.
2. Elmanın solunda muz var.
3. Kalemin altında kalp var.
4. Kalbin solunda yıldız var.
5. Yıldız ile muz arasında bulut var.
6. Bulut ile çiçek arasında kalem var.
7. Güneş ile ağaç arasında çiçek var.

@ufukkoca



@ufukkoca61

