



1.TEMA



# MATEMATİK

Uzamsal İlişkiler

Öğrenme Çıktısı: MAT.13.1.


Hedefe ulaşmak için mesafeleri ve yönleri içeren yönergeleri çözümleyebilme



Adım:.....

Soyadım:.....

Sonuç:




Fufuk, 2 adım yukarı ve 1 adım sağa giderse hangi varlığa ulaşır?

- A) kalem B) silgi C) makas



Fufuk, aşağıdaki adımlardan hangisini yaparsa arabaya ulaşır?

- A) 2 adım sola ve 1 adım sağa  
B) 1 adım aşağıya ve 2 adım sağa  
C) 2 adım sola ve 1 adım aşağıya



Hangi bilgi doğrudur?

- A) Makasın solunda bisiklet var.  
B) Gemi ile uçak arasında kalem var.  
C) Kamyon makasın üstündedir.



Hangi bilgi yanlıştır?

- A) Bisiklet, uçak ile araba arasındadır.  
B) Silgi, kalemın sağındadır.  
C) Araba, bisikletin altındadır.

@ufukkoca



@ufukkoca61





Adım:.....

Soyadım:.....

Sonuç: ☆☆☆☆



Hangi bilgi yanlıştır?

- A) Elma, topa göre yüksektedir.
- B) Balon, elmaya göre alçaktadır.
- C) En yüksekte top vardır.




Hangi bilgi doğrudur?

- A) Tavşan, ata göre ağaca daha uzaktadır.
- B) Fufuk, eşeğe göre ağaca daha yakındır.
- C) At, Fufuk'un gerisindedir.



Hangi bilgi doğrudur?

- A) C harfi, A ile B arasındadır.
- B) M harfi, D harfinin üstündedir.
- C) J harfi, A harfinin altındadır.



Hangi bilgi yanlıştır?

- A) Düdük sepetin içindedir.
- B) Sürahi masanın altındadır.
- C) Sepet masanın üstündedir.

@ufukkoca



@ufukkoca61





1.TEMA



# MATEMATİK

Uzamsal İlişkiler

Öğrenme Çıktısı: MAT.13.1.

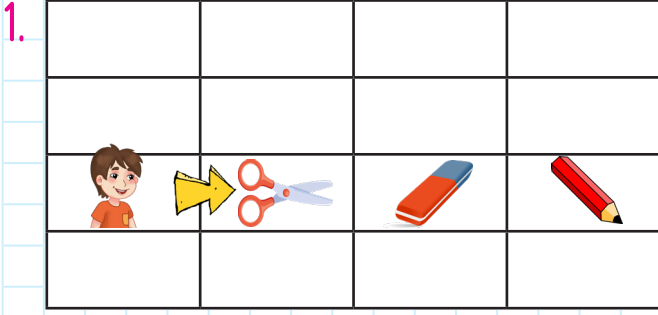
Hedefe ulaşmak için mesafeleri ve yönleri içeren yönergeleri çözümlenebilir.



Adım:.....

Soyadım:.....

Sonuç:




Fufuk ok yönünde kaç adım giderse kaleme ulaşır?

- A) 1      B) 2      C) 3




Fufuk'u evine ulaştırarak yönerge hangi seçenekte verilmiştir?

- A) 1 adım aşağıya, 2 adım sola, 1 adım aşağıya  
B) 1 adım yukarıya, 2 adım sola, 3 adım aşağıya  
C) 2 adım aşağıya, 2 adım sağa



Hangi meyve, 2 meyve arasında değildir?

- A) kivi  
B) ananas  
C) muz



Hangi bilgi yanlıştır?

- A) Armut, çileğin sağındadır.  
B) Muz, kiviin solundadır.  
C) Kayısı, karpuzun üstündedir.



Adım:.....

Soyadım:.....

Sonuç: ☆☆☆☆

1.



Hangi bilgi yanlıştır?

- A) Uçurtma, şemsiyenin altındadır.  
B) Çocuk, top ile uçurtma arasındadır.  
C) Kuş, şemsiyenin üstündedir.


2.



Hangi bilgi doğrudur?

- A) Ağacın etrafında 5 hayvan vardır.  
B) En yüksekte baykuş vardır.  
C) Koyun, ağacın arkasındadır.


3.



Hangi bilgi doğrudur?

- A) Gölün içinde 3 hayvan vardır.  
B) Kurbağa gölün dışındadır.  
C) Ördek, yunusun arkasındadır.

4.



Fufuk, masanın üstünde olan meyveleri boyayacaktır. Buna göre kaç meyve boyamış olur?

- A) 1      B) 2      C) 3

@ufukkoca



@ufukkoca61

