



Adım:.....

Soyadım:.....

Sonuç:

1.



Hangi balon şekli 5 taneden daha azdır?

- A) B) C)



2.



Hangi çocukta 10'dan daha fazla yıldız vardır?

- A) B) C)


3.



Fufuk kaç elmasını Ela'ya verirse elma sayıları eşit olur?

- A) 2 B) 3 C) 4

4.



Hangi meyvenin sayısı diğerlerinden daha çoktur?

- A) B) C)

@ufukkoca



@ufukkoca61






Adım:.....

Soyadım:.....

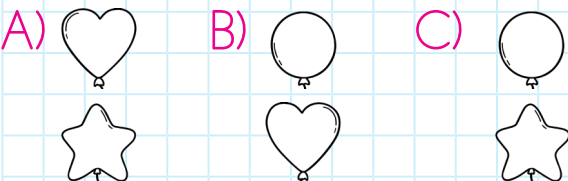
Sonuç: ☆☆☆☆



Hangi hayvanın sayısı 8'den daha fazladır?




Hangi tip balonların sayısı eşittir?



Yukarıdaki koyun sayısı ile ilgili hangi bilgi doğrudur?

- A) 10'dan fazladır.
B) 10'dan azdır.
C) 10'a eşittir.



Onur, Fufuk'a kaç balon verirse balon sayıları eşit olur?

- A) 1 B) 2 C) 3

@ufukkoca



@ufukkoca61





2.TEMA



MATEMATİK

Çok mu? Az mi? Esit mi?

Öğrenme Çıktısı: MAT.1.14.


İki niceliğin büyüklüğünü "çok", "daha çok", "az", "daha az" veya "esit" terimleriyle karşılaştırabilme



Adım:.....

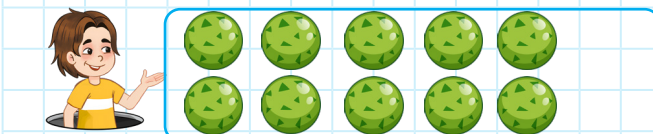

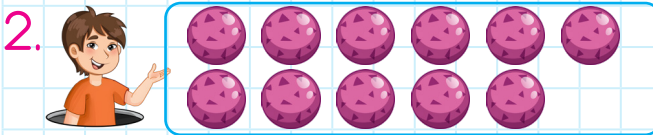
Soyadım:.....

Sonuç:





Hangi çiçek 4'ten daha fazladır?

- A) B) C)



Hangi çocukta 10'dan daha az boncuk vardır?

- A) B) C)



Fufuk ile Ela'nın elma sayıları eşit

olması için hangisi yapılmalıdır?

- A) Fufuk, Ela'ya 2 elma vermeli.
B) Ela, Fufuk'a 1 elma vermeli.
C) Fufuk, Ela'ya 1 elma vermeli.



Hangi topların sayısı eşittir?

- A) B) C)

@ufukkoca



@ufukkoca61





Adım:.....

Soyadım:.....

Sonuç: ☆☆☆☆




Hangi hayvanın sayısı 8'den daha azdır?



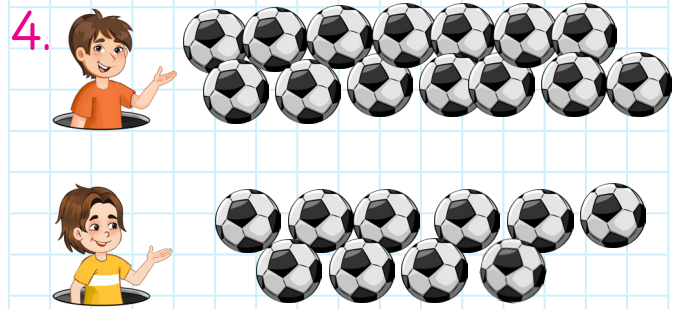
2. E F N H E F E
N E F N N H
H E N F E E F

Hangi harflerin sayısı eşittir?



Yukarıdaki koyun sayısı ile ilgili hangi bilgi doğrudur?

- A) 13'ten fazladır.
B) 13'e eşittir.
C) 13'ten azdır.



Fufuk, Onur'a kaç top verirse top sayıları eşit olur?

- A) 1 B) 2 C) 3

@ufukkoca



@ufukkoca61

