



1. TEMA



# MATEMATİK

Eş Nesnelere

Öğrenme Çıktısı: MAT.13.2.  
Nesnelerin eşliğini değerlendirebilme




Adım:.....

Soyadım:.....

Sonuç:


1.



Hangi varlığın eşisi yoktur?

- A) kurbağa
- B) maymun
- C) koyun

2.



Elma ile armutun arasında olan meyvenin eşisi nerededir?

- A) Muzun altında.
- B) Ananas ile armut arasında.
- C) Kayısının üstünde.

3.



Yukarıda verilen eşyanın eşisi hangi seçenekte verilmiştir?



A)




B)



C)



4.



Eşisi verilmeyen varlık için hangisi söylenebilir?

- A) Kalemlerimizin ucunu açarız.
- B) Kağıt kesebiliriz.
- C) Islanmamak için kullanırız.

@ufukkoca

@ufukkoca61

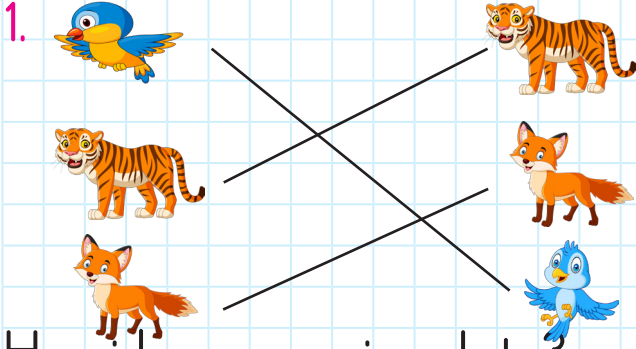




Adım:.....

Soyadım:.....

Sonuç: ☆☆☆☆




Hangi hayvanın eşi yanlıştır?

- A) kuş  
B) kaplan  
C) tilki



Yukarıdaki iki resim eş olabilmesi için 2. resme ne yapmak gerekir?

- A) Soldaki çocuğa gözlük takmak.  
B) Soldaki çocuğun gözlüğünü çıkarmak.  
C) Sağdaki çocuğa gözlük takmak.



Hangi bilgi doğrudur?

- A) Bütün varlıkların eşi vardır.  
B) Karpuzun eşi yoktur.  
C) Sadece 1 varlığın eşi vardır.

@ufukkoca



@ufukkoca61



4.



Yukarıdaki arabanın eşi hangi seçenekte verilmiştir?

- A) B) C)



1. TEMA



# MATEMATİK

Eş Nesnelere

Öğrenme Çıktısı: MAT.13.2.  
Nesnelerin eşliğini değerlendirebilme



Adım:.....

Soyadım:.....

Sonuç: ☆☆☆☆

1.



Hangi paranın eşisi yoktur?

A)




B)



C)



2.



Eşisi olmayan varlık hakkında hangi bilgi doğrudur?

A) Top ile kova arasındadır.

B) Kûlahın üstündedir.

C) Simit ile kûlah arasındadır.

3.



Yukarıda verilen eşyanın eşisi hangi seçenekte verilmiştir?



A)




B)



C)



4.



Eşisi verilmeyen varlık için hangisi söylenebilir?

A) Yiyebiliriz.

B) Yapıştırmak için kullanırız.

C) Ses çıkarır.

@ufukkoca

@ufukkoca61

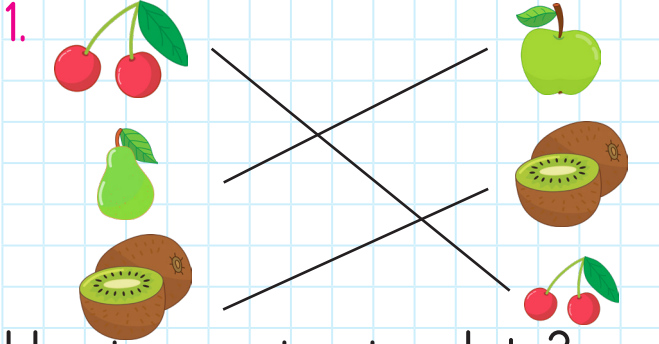




Adım:.....

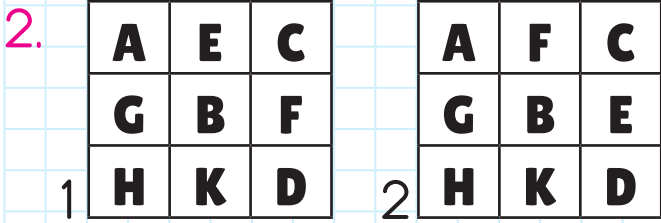
Soyadım:.....

Sonuç: ☆☆☆☆



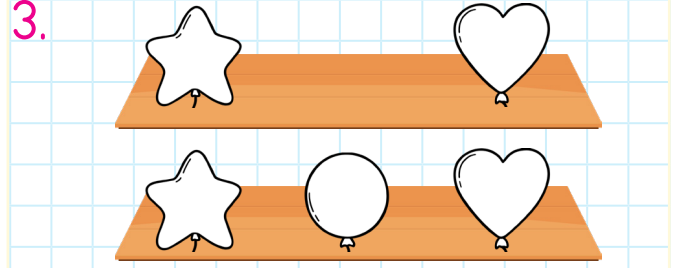
Hangi meyvenin eşi yanlıştır?

- A) armut  
B) kiraz  
C) kivi



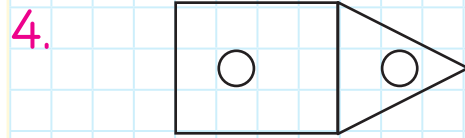
Yukarıdaki iki resim eş olabilmesi için 2. resme ne yapmak gerekir?

- A) K yerine H harfi yazmak.  
B) F ile D harfinin yerini değiştirmek.  
C) E ile F harfinin yerini değiştirmek.

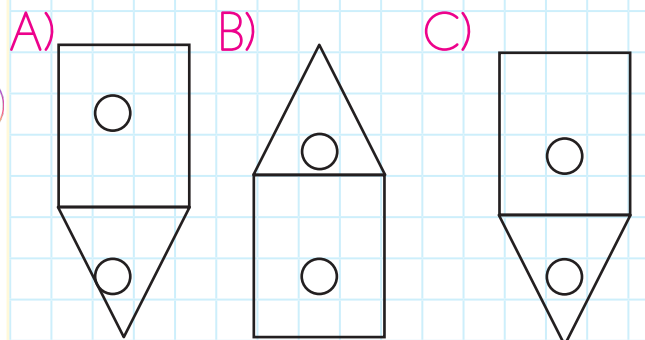


Raflardaki balonların eş olabilmesi için ne yapmak gerekir?

- A) Üstteki rafa, yıldız ile kalpli balon arasına kapli balon eklenmeli.  
B) Alttaki rafa, yıldız ile kalpli balon arasına yıldız balon eklenmeli.  
C) Üstteki rafa, iki balon arasına yuvarlak balon eklenmeli.



Yukarıdaki şeklin eşi hangi seçenekte verilmiştir?



@ufukkoca



@ufukkoca61

