



2.TEMA



MATEMATİK

Geriyeye Doğru İkiser Ritmik Sayma

Öğrenme Çıktısı: MAT.1.1.5. 100'e kadar ileriye ve 20'den geriyeye doğru ritmik sayabilme



Adım:.....

Soyadım:.....

Sonuç:

Etkinlik 1

Boş kutuları geriyeye ikiser ritmik sayarak doldurunuz.

20	18			12
10			4	

20	18		14	
10				2

20		16		12
	8		4	

	18		14	1
10		6		2

		16	14	
10	8			2

Etkinlik 2

Aşağıda ok ile verilen sayıdan başlayıp geriyeye ikiser ritmik sayarak çıkışa giden yolu çiziniz.

20	18	14	10	5
19	16	12	9	3
15	14	5	8	1
13	12	9	4	2
11	10	8	6	3

çıkış

20	15	13	12	10
18	16	14	8	2
14	6	12	5	4
12	5	10	8	6
10	4	2	12	16

çıkış

15	20	1	2	4
13	18	16	5	6
10	14	12	10	8
12	16	15	7	9
20	18	12	14	16

çıkış

@ufukkoca



@ufukkoca61





Adım:.....

Soyadım:.....

Sonuç: ☆☆☆☆

Etkinlik 3

Aşağıda verilen sayıdan başlayarak geriye ikişer ritmik sayınız.

▼	▼	▼	▼
20	18	14	12











Etkinlik 4

Aşağıda verilen kutularda eksik olan sayıları yazınız.

20	18	16				8
14	12					4
16			10	8		

Etkinlik 5

20'den başlayarak geriye doğru ikişer ritmik sayınız.

				
20				
				

Etkinlik 6

20'den geriye ikişer ritmik sayınız. Söylediğiniz sayıları boyayınız.

20	19	18	17	16
15	14	13	12	11
10	9	8	7	6
5	4	3	2	1

@ufukkoca



@ufukkoca61

