



Adım:.....

Soyadım:.....

Sonuç:

Etkinlik 1

Aşağıda verilen tabloda boş kutulara gelecek sayıları yazınız.

2	4			10
12			18	

2			8	10
12	14			20

2		6		10
	14		18	

	4		8	
12		16		20

		6	8	
12	14			20

@ufukkoca



@ufukkoca61

**Etkinlik 2**

Aşağıda ok ile verilen sayıdan başlayıp ikiser ritmik sayarak çıkışa giden yolu çiziniz.

2	20	8	4	18
4	16	12	14	20
6	8	10	16	8
18	4	6	18	20
20	16	12	14	16

çıkış

12	4	2	6	8
16	6	16	10	12
18	8	12	14	18
20	10	20	18	20
16	12	14	16	10

çıkış

4	10	12	20	18
12	16	18	4	16
6	8	10	12	14
10	6	14	16	8
2	4	8	6	10

çıkış



Adım:.....

Soyadım:.....

Sonuç:

Etkinlik 3

Aşağıda verilen sayıdan başlayarak ileriye ikiser ritmik sayınız.

▼	▼	▼	▼
2	4	8	10

Etkinlik 4

Aşağıda verilen kutularda eksik olan sayıları yazınız.

2	4	6				14
8	10			16	18	
4		8			14	

Etkinlik 5















Aşağıda 1'den başlayarak 20'ye kadar ileriye ikiser ritmik sayınız.

Söylediğiniz sayıları boyayınız.

1	2	3	4
5	6	7	8
9	10	11	12
13	14	15	16
17	18	19	20

Etkinlik 6

2'den başlayarak ileriye doğru ikiser ritmik sayınız.

						
2						
						

@ufukkoca



@ufukkoca61

