



3. TEMA



# MATEMATİK

Uzunluk Ölçme

Öğrenme Çıktısı: MAT.1.1.8. Standart olmayan uygun ölçme araçları ile nesnelerin uzunluğunun ölçüm sonuçlarını tahmin edebilme



Adım:.....

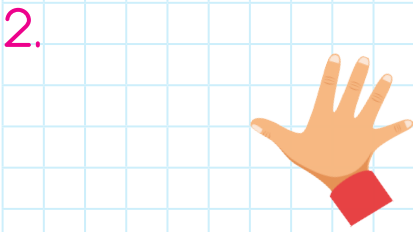
Soyadım:.....

Sonuç:



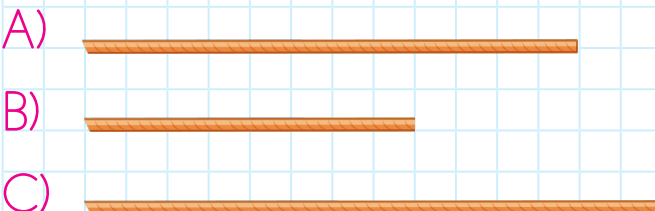
Yukarıdaki kalemin uzunluğu kaç ataştır?

- A) 4      B) 5      C) 6



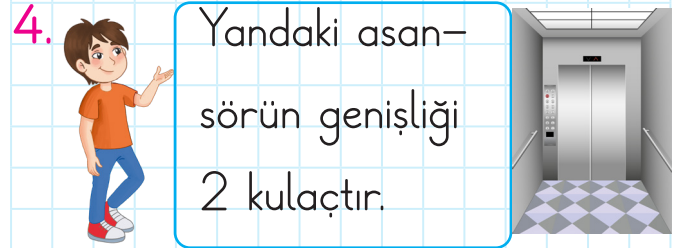
Fufuk'un bir karışının uzunluğu yukarıda verilmiştir.

Buna göre hangi ipin uzunluğu 3 karıştır?



Yukarıdaki havuzu en uygun hangi ölçme aracı ile ölçebiliriz?

- A) adım      B) karış      C) parmak



Buna göre aşağıdakilerden hangisi 2 kulaç olabilir?

- A) Arkadaşımın boyu  
B) Kitabımın boyu  
C) Pencerenin genişliği

@ufukkoca



@ufukkoca61






Adım:.....

Soyadım:.....

Sonuç: ☆☆☆☆





Yukarıdaki fırçanın uzunluğu kaç kalem tirastır?

- A) 5      B) 6      C) 7



Fufuk'un bir ayağının uzunluğu yukarıda verilmiştir.

Buna göre hangi ipin uzunluğu 4 ayaktır?



Yukarıdaki uçurtmayı en uygun hangi ölçme aracı ile ölçebiliriz?

- A) karış      B) kulaç      C) parmak



Buna göre aşağıdakilerden hangisi 1 karış olabilir?

- A) Masamın genişliği
- B) Kalemimin boyu
- C) Silgimin boyu

@ufukkoca



@ufukkoca61

