







Adım:.....

**Bİ. DE. 1**

Öğretmen: "Aşağıda verilen sayı örüntülerinde noktalı yere gelmesi gereken sayıları yazınız."



@ufukkoca



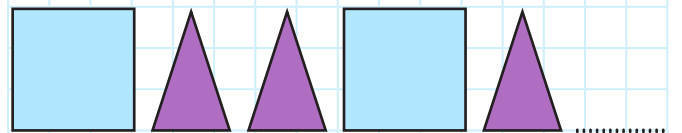
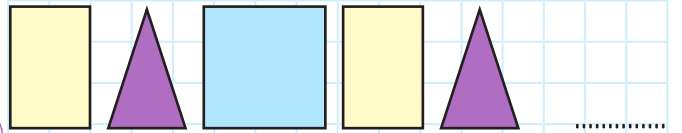
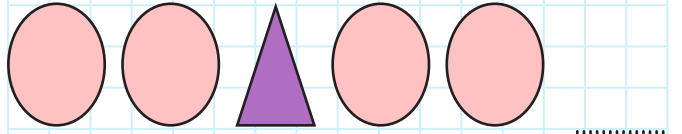
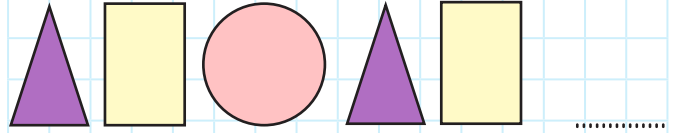
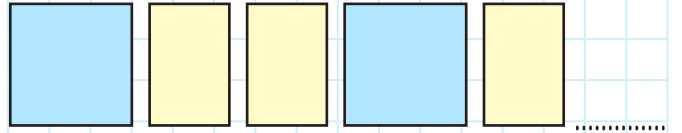
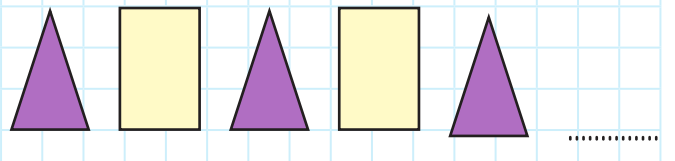
@ufukkoca61



Soyadım:.....

**Bİ. DE. 2**

Öğretmen: "Aşağıda verilen şekil örüntülerinde noktalı yere gelmesi gereken şekilleri çizip doğru renge boyayınız."



BİDE 1 (12 puan):

Her noktalı yeri doğru yazdı +1 puan

Her noktalı yeri yanlış yazdı -1 puan

BİDE 2 (12 puan)

Her bir maddeyi doğru çizdi ve boyadı +2 puan

Her bir maddeyi yanlış çizdi ve boyadı -2 puan

19-24 puan = çok iyi = 4 yıldız boyayın.

13-18 puan = iyi = 3 yıldız boyayın.

7-12 puan = yeterli = 2 yıldız boyayın.

0-6 puan = geliştirilmeli = 1 yıldız boyayın.