



2. TEMA



MATEMATİK

Tahmin


Öğrenme Çıktısı: MAT.1.1.7. Verilen bir çokluktaki ilişkilerden yararlanarak 20'ye kadar (20 dâhil) olan nesnelerin sayısını tahmin edebilme



Adım:.....

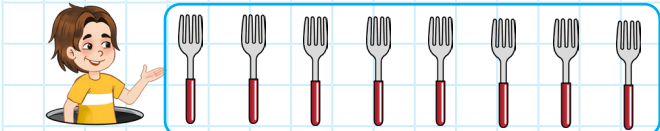
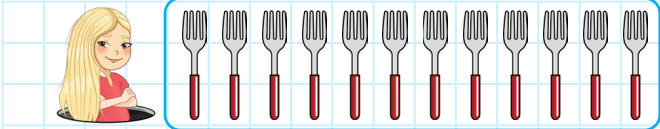
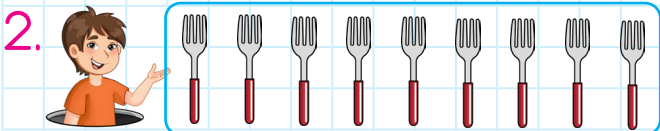
Soyadım:.....

Sonuç:



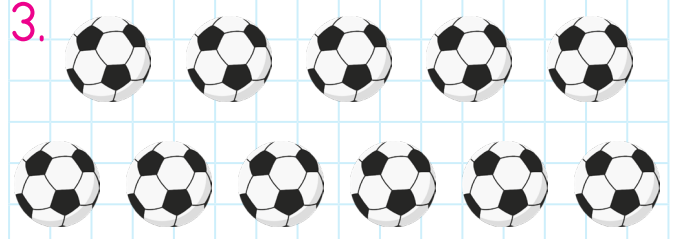
1. Hangi hayvanın sayısı tahminen 5'ten fazladır?

- A) B) C)



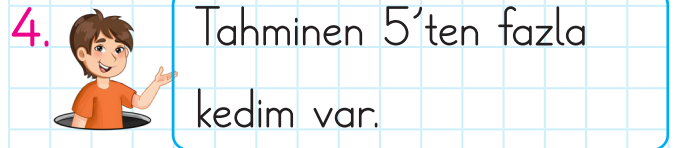
2. Hangi çocukta tahminen 10'dan fazla çatal vardır?

- A) B) C)



3. Yukarıdaki topların sayısı ile ilgili hangi bilgi doğrudur?

- A) Tahminen 10'dan azdır.
 B) Tahminen 5'ten azdır.
 C) Tahminen 10'dan fazladır.



4. Buna göre hangisi Fufuk'un kedi sayısı olabilir?

- A)
 B)
 C)

@ufukkoca



@ufukkoca61






Adım:.....

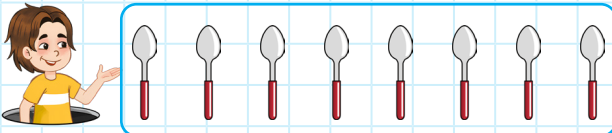
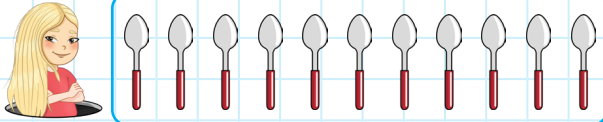
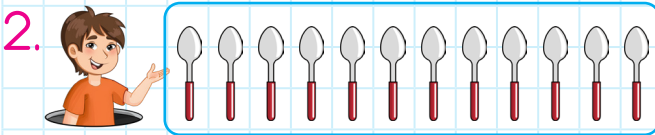
Soyadım:.....

Sonuç: ☆☆☆☆




Hangi meyvenin sayısı tahminen 5'ten azdır?

- A) B) C)



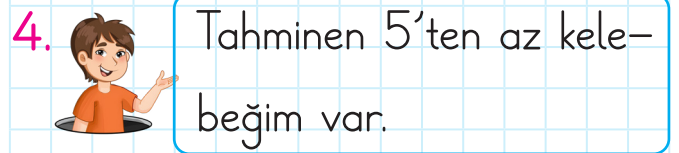
Hangi çocukta tahminen 10'dan az kaşık vardır?

- A) B) C)



Yukarıdaki topların sayısı ile ilgili hangi bilgi yanlıştır?

- A) Tahminen 10'dan azdır.
B) Tahminen 5'ten azdır.
C) Tahminen 5'ten fazladır.



Buna göre hangisi Fufuk'un kedi sayısı olabilir?



@ufukkoca



@ufukkoca61

