



3. TEMA



MATEMATİK

Tartma

Öğrenme Çıktısı: MAT.1.1.8. Standart olmayan uygun ölçme araçları ile tartacağı kütlelerin ölçüm sonuçlarını tahmin edebilme



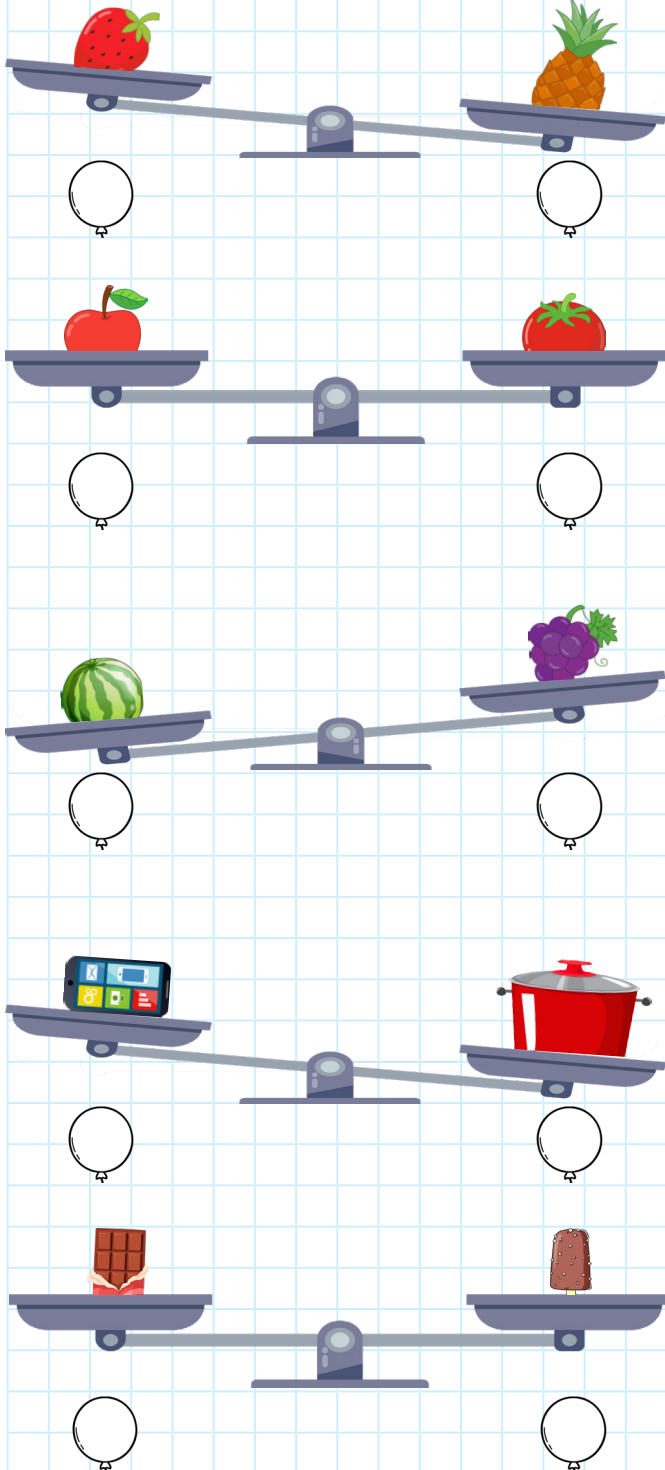
Adım:.....

Soyadım:.....

Sonuç: ☆☆☆☆

Etkinlik 1

Kütlesi ağır olanı yeşile,
hafif olanı kırmızıya
eşit olanları maviye boyayın.



@ufukkoca

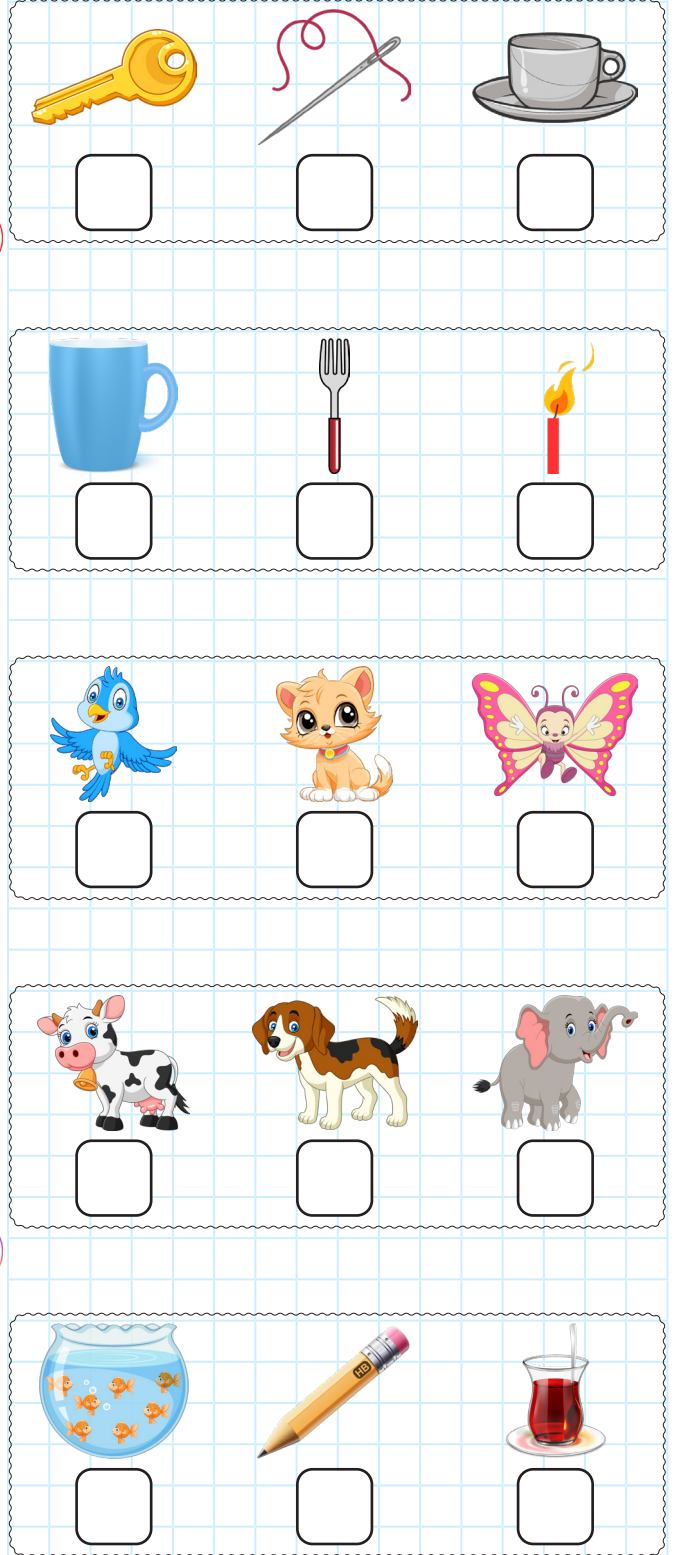


@ufukkoca61



Etkinlik 2

Aşağıdaki nesnelere kütlesine göre
ağırdan hafife sıralayınız.






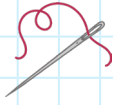
Adım:.....

Soyadım:.....

Sonuç: ☆☆☆☆

Etkinlik 3

Solda verilen nesneyi ağırlık sırasına uygun olacak şekilde ok çizerek gösteriniz.



Etkinlik 4

Verilen cümleleri "ağır, hafif, en ağır, en hafif" kelimelerinden uygun olanı ile tamamlayınız.




karpuz

motor

çilek

iğne



elma

araba

uçak

kiraz

1. Motor, kirazdan

2. Çilek, arabadan

3. Karpuz, iğneden

4. olanı uçaktır.

5. olanı iğnedir.

6. Elma, kirazdan

7. Uçak, motordan

8. Çilek, karpuzdan

@ufukkoca



@ufukkoca61

