



3. TEMA



MATEMATİK

Tartma

Öğrenme Çıktısı: MAT.1.1.8. Standart olmayan uygun ölçme araçları ile nesnelerin uzunluğunun ölçüm sonuçlarını tahmin edebilme



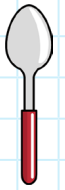
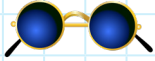
Adım:.....



Bİ. DE. 1



Öğretmen: "Aşağıda verilen nesnelere hafiften ağıra doğru sıralayınız."






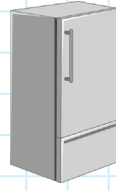
Soyadım:.....



Bİ. DE. 2



Öğretmen: "Solda verilen varlığı ağırlık sıralamasına göre uygun olan yere ok çizerek gösteriniz."



@ufukkoca



@ufukkoca61



BİDE 1 (8 puan):

Doğru sıralama yaptı +2 puan

Yanlış sıralama yaptı -2 puan

BİDE 2 (8 puan)

Doğru yere ok çizdi +2 puan

Yanlış yere ok çizdi -2 puan

13-16 puan = çok iyi = 4 yıldız boyayın.

9-12 puan = iyi = 3 yıldız boyayın.

5-8 puan = yeterli = 2 yıldız boyayın.

0-4 puan = geliştirilmeli = 1 yıldız boyayın.