



3. TEMA



# MATEMATİK

Tartma

Öğrenme Çıktısı: MAT.1.1.8. Standart olmayan uygun ölçme araçları ile nesnelerin uzunluğunun ölçüm sonuçlarını tahmin edebilme



Adım:.....

Soyadım:.....

Sonuç:

1.




Yukarıdaki nesnelere hafiften ağıra doğru sıralandığında hangisi en sonda olur?



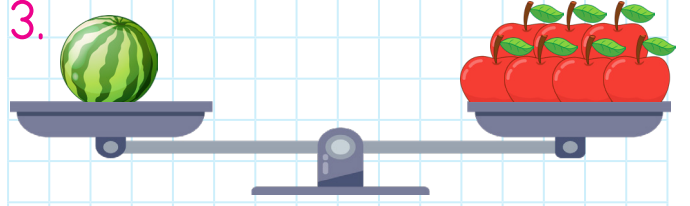
2.



Hangisi yukarıdaki varlıktan daha ağırdır?



3.



Yukarıdaki verilen tartma işlemi ile ilgili hangisi yanlıştır?

- A) 1 karpuzun kütlesi 1 elmanın kütlesine eşittir.  
B) Terazide dengededir.  
C) 1 karpuzun kütlesi 7 elmanın kütlesine eşittir.

4.



Kedi, filden .....

.....

Yukarıdaki noktalı yere hangi ifade gelmelidir?

- A) daha ağırdır.  
B) daha hafiftir.  
C) en ağırdır.

@ufukkoca



@ufukkoca61






Adım:.....


Soyadım:.....

Sonuç: ☆☆☆☆

1.



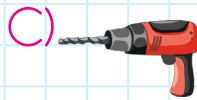
Yukarıdaki nesneler ağırdan hafife doğru sıralandığında hangisi en sonda olur?



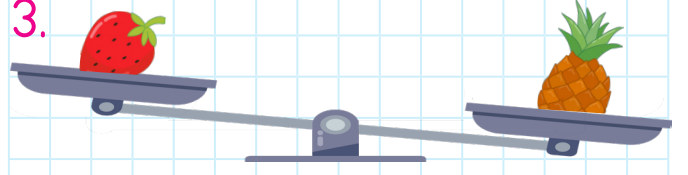
2.



Hangisi yukarıdaki varlıktan daha hafiftir?



3.



Yukarıdaki verilen tartma işlemi ile ilgili hangisi doğrudur?

A) 1 ananasın kütlesi 1 çileğin kütlesine eşittir.

B) Terazî dengededir.

C) 1 ananas, 1 çilekten daha ağırdır.

4.



Kitap, kalemden .....

.....

Yukarıdaki noktalı yere hangi ifade gelmelidir?

A) daha ağırdır.

B) daha hafiftir.

C) en ağırdır.

@ufukkoca



@ufukkoca61

