



3. TEMA



# MATEMATİK

Uzunluk Ölçme

Öğrenme Çıktısı: MAT.1.1.8. Standart olmayan uygun ölçme araçları ile nesnelerin uzunluğunun ölçüm sonuçlarını tahmin edebilme



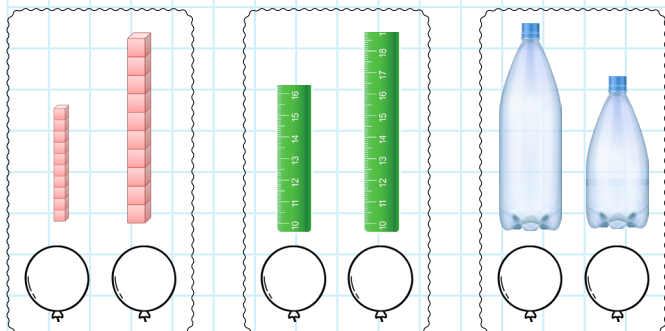
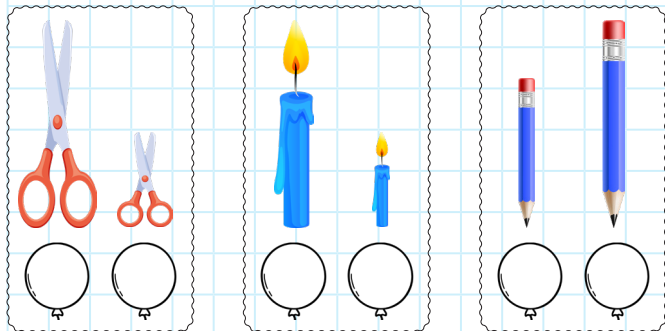
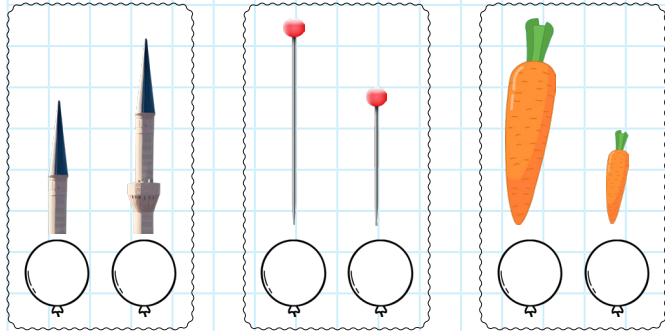
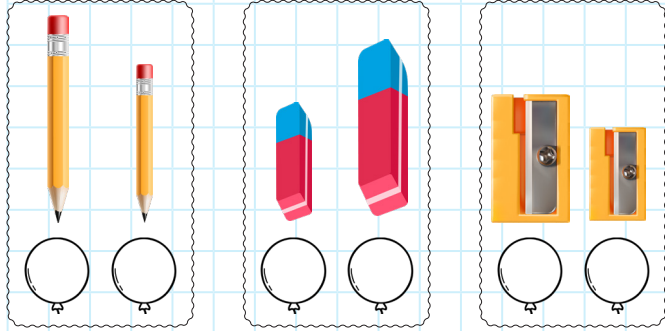
Adım:.....

Soyadım:.....

Sonuç:

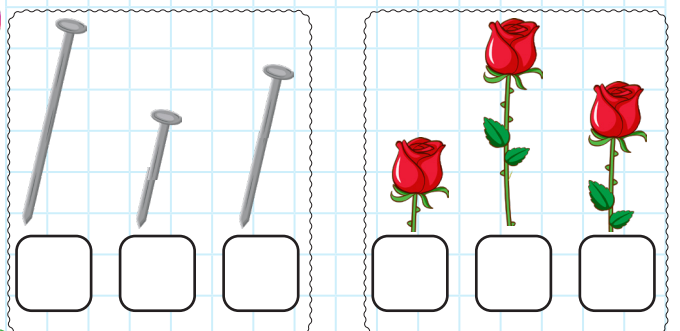
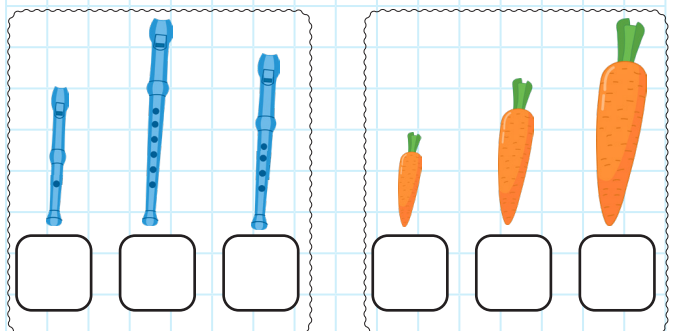
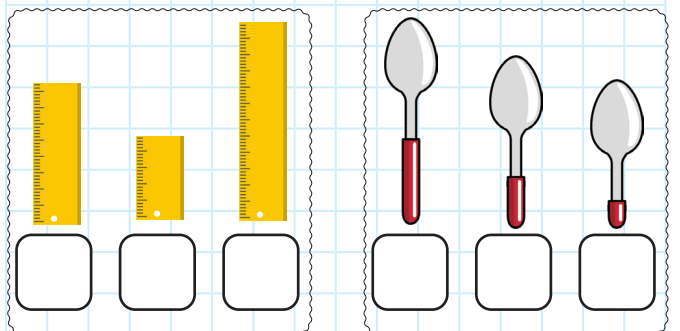
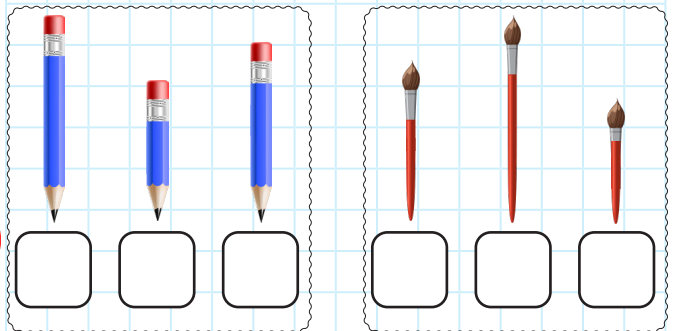
## Etkinlik 1

Uzun olanın balonunu yeşile, kısa olanın balonunu kırmızıya boyayınız.



## Etkinlik 2

Aşağıdaki nesneleri uzundan kısaya numaralandırarak sıralayınız.



@ufukkoca

@ufukkoca61






Adım:.....

Soyadım:.....

Sonuç: ☆☆☆☆

## Etkinlik 3


Aşağıdaki ifadeler doğru ise başına "D" yanlış ise "Y" yazınız.



- ( ) Aslı, Nur'dan daha uzundur.
- ( ) Ela, Naz'dan daha kısadır.
- ( ) En uzun Aslı'dır.
- ( ) En kısa Naz'dır.
- ( ) Ece ile Aslı aynı boydadır.
- ( ) Ela, Nur'dan daha kısadır.
- ( ) Nur ile Aslı aynı boydadır.
- ( ) Aslı, Naz'dan daha uzundur.
- ( ) Ece, Ela'dan daha uzundur.
- ( ) Ece ile Nur aynı boydadır.

## Etkinlik 4

Verilen cümleleri "uzun, kısa, en uzun, en kısa, eşit" kelimelerinden uygun olanı ile tamamlayınız.



- Ege, Alp'ten .....
- Ela, Nil'den .....
- Ali ..... kişidir.
- Alp ..... kişidir.
- Cem, Nur'dan .....
- Ela ile Nur ..... boydadır.
- Nil, Ege'den .....
- Alp, Ali'den .....

@ufukkoca



@ufukkoca61

