



3. TEMA



MATEMATİK

Uzunluk Ölçme

Öğrenme Çıktısı: MAT.1.1.8. Standart olmayan uygun ölçme araçları ile nesnelerin uzunluğunun ölçüm sonuçlarını tahmin edebilme



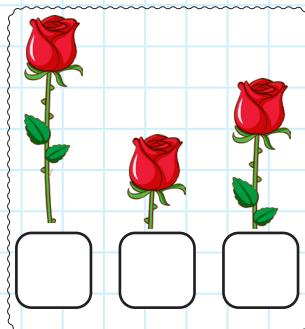
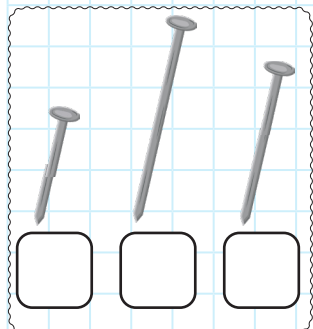

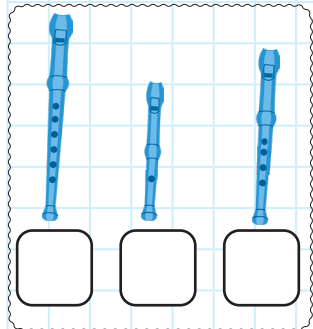
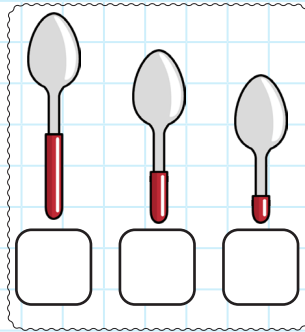
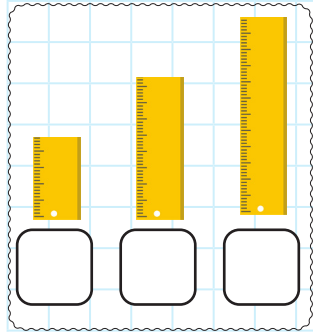
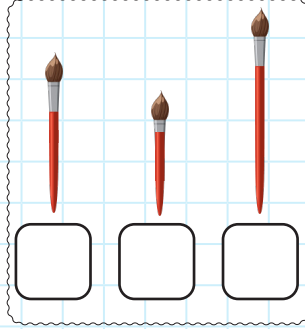
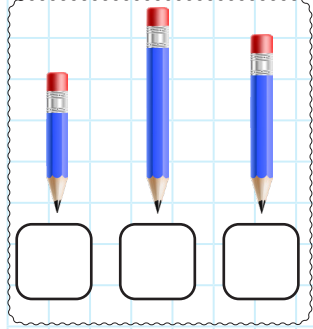
Adım:.....



Bİ. DE. 1



Öğretmen: "Aşağıda verilen nesneleri uzun-
dan kısaya doğru numaralandırınız."



@ufukkoca



@ufukkoca61








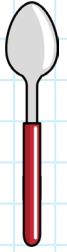
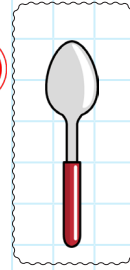
Soyadım:.....



Bİ. DE. 2



Öğretmen: "Solda verilen nesneden ok
çizerek sağdaki uzunluk sırasındaki yerini
belirleyiniz."



BİDE 1 (8 puan):

Doğru sıralama yaptı +1 puan

Yanlış sıralama yaptı -1 puan

BİDE 2 (8 puan)

Çizimi doğru sıraya çizdi +2 puan

Çizimi yanlış sıraya çizdi -2 puan

13-16 puan = çok iyi = 4 yıldız boyayın.

9-12 puan = iyi = 3 yıldız boyayın.

5-8 puan = yeterli = 2 yıldız boyayın.

0-4 puan = geliştirilmeli = 1 yıldız boyayın.