



3. TEMA



MATEMATİK

Uzunluk Ölçme

Öğrenme Çıktısı: MAT.1.1.8. Standart olmayan uygun ölçme araçları ile nesnelerin uzunluğunun ölçüm sonuçlarını tahmin edebilme



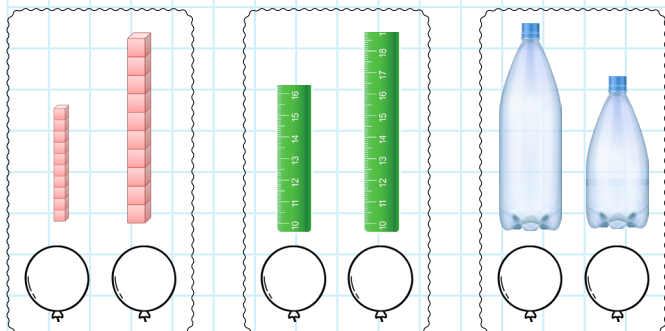
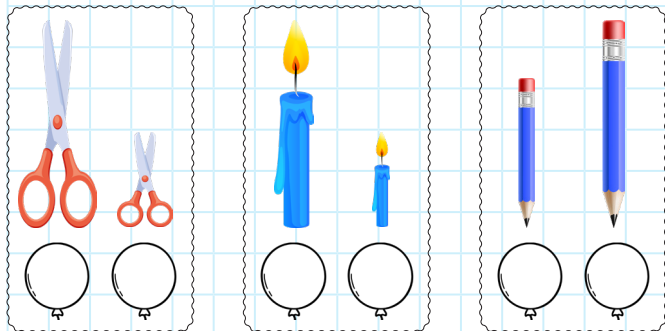
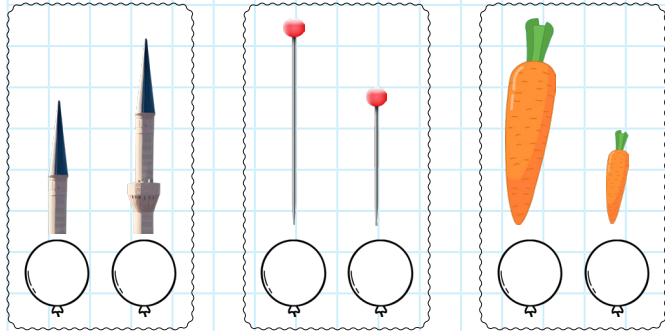
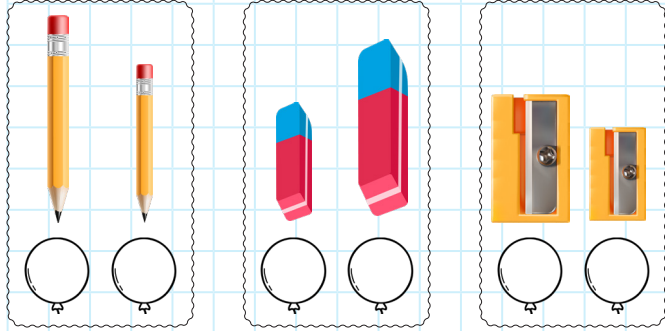
Adım:.....

Soyadım:.....

Sonuç: ☆☆☆☆

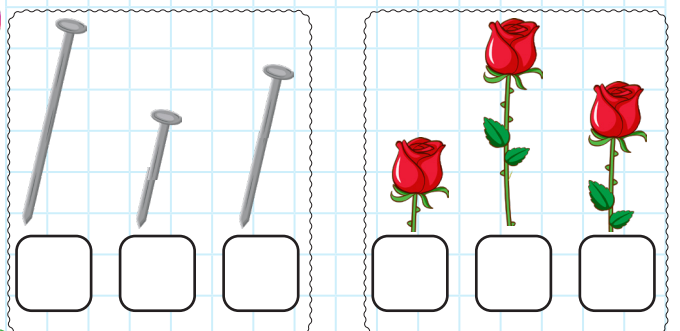
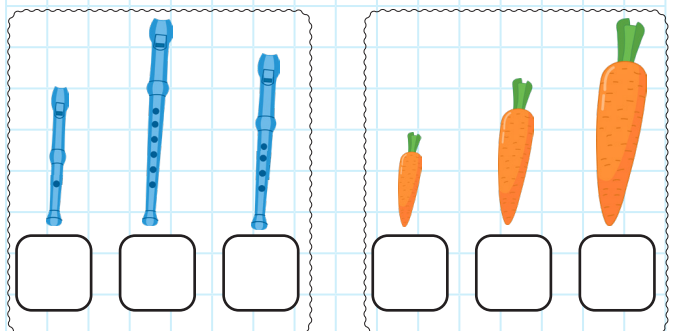
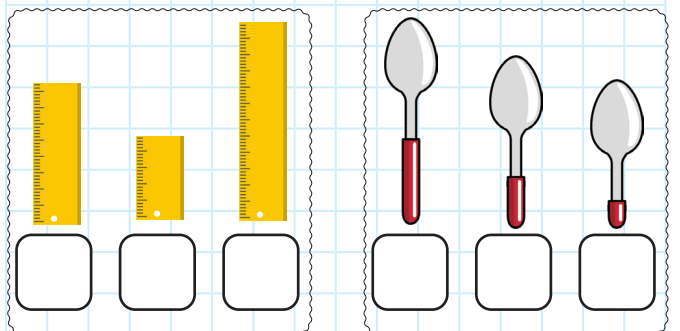
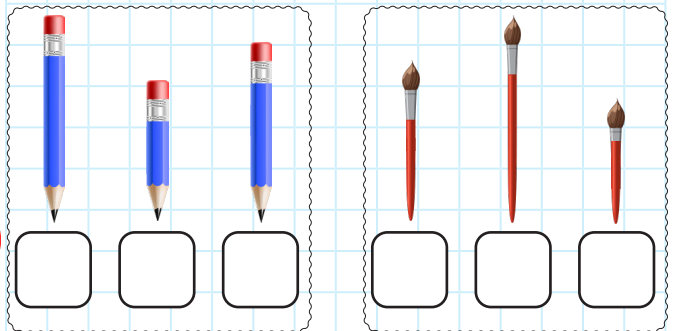
Etkinlik 1

Uzun olanın balonunu yeşile, kısa olanın balonunu kırmızıya boyayınız.



Etkinlik 2

Aşağıdaki nesnelere uzunundan kısaya numaralandırarak sıralayınız.



@ufukkoca



@ufukkoca61






Adım:.....

Soyadım:.....

Sonuç: ☆☆☆☆

Etkinlik 3


Aşağıdaki ifadeler doğru ise başına "D" yanlış ise "Y" yazınız.



- () Aslı, Nur'dan daha uzundur.
- () Ela, Naz'dan daha kısadır.
- () En uzun Aslı'dır.
- () En kısa Naz'dır.
- () Ece ile Aslı aynı boydadır.
- () Ela, Nur'dan daha kısadır.
- () Nur ile Aslı aynı boydadır.
- () Aslı, Naz'dan daha uzundur.
- () Ece, Ela'dan daha uzundur.
- () Ece ile Nur aynı boydadır.

Etkinlik 4

Verilen cümleleri "uzun, kısa, en uzun, en kısa, eşit" kelimelerinden uygun olanı ile tamamlayınız.



- Ege, Alp'ten
- Ela, Nil'den
- Ali kişidir.
- Alp kişidir.
- Cem, Nur'dan
- Ege ile Nur boydadır.
- Nil, Ege'den
- Alp, Ali'den

@ufukkoca



@ufukkoca61

