



3. TEMA



MATEMATİK

Uzunluk Ölçme

Öğrenme Çıktısı: MAT.1.1.8. Standart olmayan uygun ölçme araçları ile nesnelerin uzunluğunun ölçüm sonuçlarını tahmin edebilme




Adım:.....

Soyadım:.....

Sonuç:

1. Hangisi diğerlerinden daha uzundur?

- A)
- B)
- C)




Onur

Fufuk

Ela

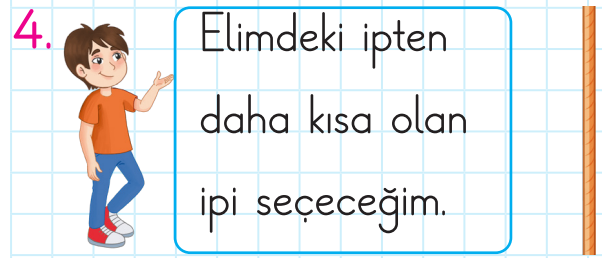
Yukarıdaki çocuklardan hangisi diğerlerinden daha kısadır?

- A) Onur B) Fufuk C) Ela



Yukarıdaki fırçaları kısıdan uzuna doğru sıraladığımızda hangisi 3. sırada olur?

- A) B) C)



Buna göre Fufuk hangi ipi seçmelidir?

- A)
- B)
- C)

@ufukkoca



@ufukkoca61








Adım:.....

Soyadım:.....

Sonuç:



1. Hangisi diğerlerinden daha kısadır?

- A) 
- B) 
- C) 

2.



Efe



Mert




Fufuk




Boyu eşit olan çocuklar dışarıya çıkarsa geriye hangi çocuk kalır?

- A) 
- B) 
- C) 

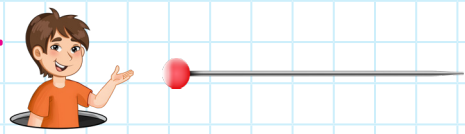
3.






Yukarıdaki nesnelere uzundan kısayla doğru sıraladığımızda hangisi 2. sırada olur?

- A) 
- B) 
- C) 

4.



Fufuk'un elindeki iğne aşağıdaki iğnelere göre hangisinden daha uzundur?

- A) 
- B) 
- C) 

@ufukkoca



@ufukkoca61

