




Adım:.....

Soyadım:.....

Sonuç: ☆☆☆☆

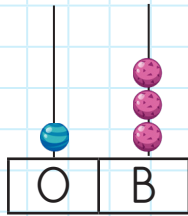
1.



Yukarıdaki sayının onluk ve birlikleri hangi seçenekte doğru verilmiştir?

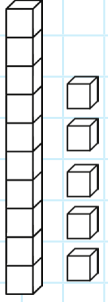
- A) 1 onluk, 4 birlik
- B) 1 birlik, 6 onluk
- C) 6 birlik, 1 onluk

2. Yandaki sayı boncukunda gösterilen sayının okunuşu hangi seçenekte verilmiştir?




- A) on üç
- B) otuz bir
- C) bir üç

3. Yandaki onluk taban bloklarıyla modellenen sayı kaçtır?



- A) 15
- B) 14
- C) 10

4.



Fufuk, önce bir rakamına basıyor ardından başka bir rakama basıyor. Buna göre ekranda oluşan sayıda kaç onluk olur?

- A) 1
- B) 2
- C) 10

@ufukkoca



@ufukkoca61






Adım:.....

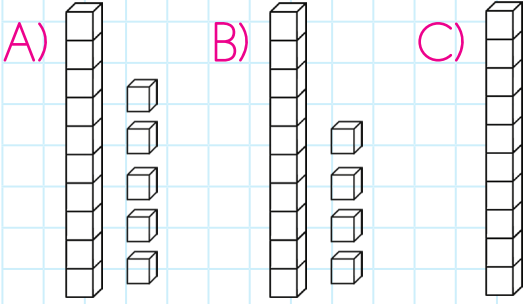
Soyadım:.....

Sonuç: ☆☆☆☆

1.



Fufuk, 5 adım ileri, 2 adım geri gittiğinde ulaştığı sayı hangi seçenekte onluk taban bloklarıyla doğru gösterilmiştir?




2.



Onluk ve birlikler noktalı yere yazıldığında hangi rakam kullanılmamış olur?

A) 1      B) 6      C) 2

3.



Ağaçta bulunan elma sayısı ile ilgili hangi bilgi doğrudur?

- A) 3 birlik 1 onluktan oluşur.  
 B) 1 onluk 4 birlikten oluşur.  
 C) 10 onluk 3 birlikte oluşur.

4.

4 birlik 1 onluk

1 birlik 2 onluk

1 onluk 2 birlik

Hangi sayının onluk ve birlikleri yukarıda yoktur?

A) 12      B) 14      C) 20

@ufukkoca



@ufukkoca61





Adım:.....

Soyadım:.....

Sonuç:

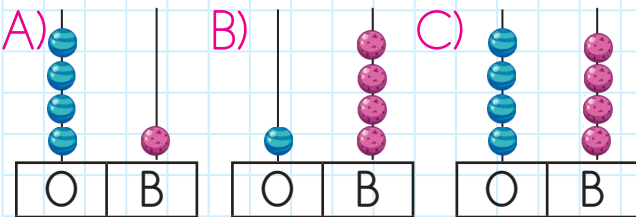
1.



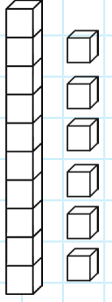
Yukarıda verilen sayıların arasına gelecek olan sayı ile ilgili hangi bilgi doğrudur?

- A) 1 onluk, 2 birlikten oluşur.  
 B) 3 birlik, 1 onluktan oluşur.  
 C) 3 onluk, 1 birlikten oluşur.

2. Yanda verilen sayının sayı boncuğundaki gösterimi hangi seçenekte verilmiştir?



3. Yandaki onluk taban bloklarıyla modellenen sayı hangi seçenekteki top sayısı ile eşittir?



- A)
- B)
- C)

4.



Kum havuzunun içinde bulunan nesne sayısı ile ilgili hangi bilgi doğrudur?

- A) 1 onluk, 4 birlikten oluşur.  
 B) 3 birlik, 1 onluktan oluşur.  
 C) 2 birlik, 1 onluktan oluşur.

@ufukkoca



@ufukkoca61





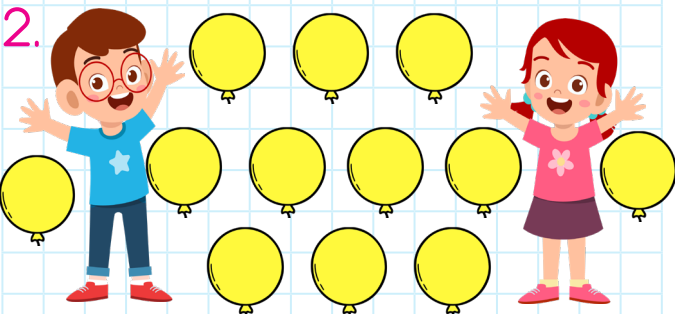
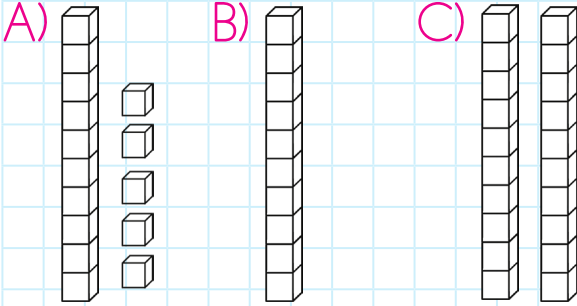
Adım:.....

Soyadım:.....

Sonuç: ☆☆☆☆

19	20	13
11	12	10
18	15	17

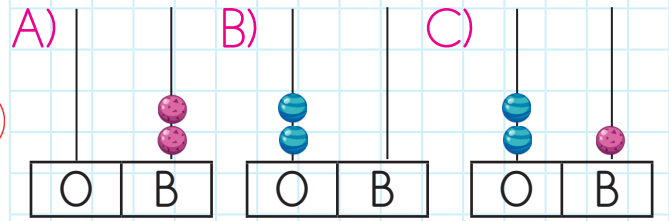
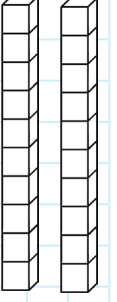
Üstündeki sayı 12 olan sayının onluk taban bloklarıyla gösterimi hangi seçenekte verilmiştir?



İki çocuk arasındaki balon sayısını abaküste gösterdiğimizde birlik olan bölüme kaç boncuk ekleriz?

A) 0 B) 1 C) 2

3. Yanda onluk taban bloklarıyla gösterilen sayının sayı boncuğundaki görüntüsü hangi seçenekte verilmiştir?



4. 1 birlik 7 onluk  
3 birlik 1 onluk  
1 onluk 6 birlik

Sayılar ile onluk birlikleri eşleştğinde hangi sayı dışarıda kalır?

A) 13 B) 16 C) 17

@ufukkoca



@ufukkoca61

