



2.TEMA



MATEMATİK

Rakamlar ve Sayılar

Öğrenme Çıktısı: MAT.1.1.1.

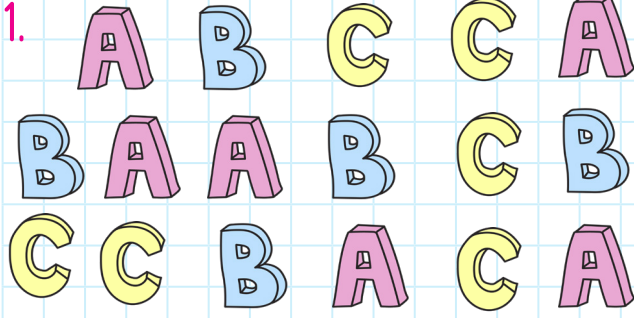
20'ye kadar olan sayıları, niceliklerin büyüklüklerini temsil etmek için kullanabilme



Adım:.....

Soyadım:.....

Sonuç: ☆☆☆☆



Hangi harften 5 tane vardır?


- A) B) C)

2.


9	10	11
12	13	14
15	16	17

Hangi bilgi doğrudur?


- A) On altı sayısı, 13'ün altındadır.
 B) On dört sayısı, 11'in üstündedir.
 C) On iki sayısı, 13 ile 15 arasındadır.



13



12



11

Hangi çocuk söylediği sayı kadar çiçek boyamıştır?

- A) B) C)

- 4.

Yukarıda verilen sayılardan kaç tanesi rakamdır?

- A) 4 B) 5 C) 6

@ufukkoca



@ufukkoca61






Adım:.....

Soyadım:.....

Sonuç: ☆☆☆☆


1.



Masanın üstünde kaç tane elma vardır?

A) 8 B) 9 C) 11

2.



Mert, üzerinde rakam yazılı olan balonları patlatacaktır. Buna göre patlamamış kaç balon kalır?

A) 1 B) 2 C) 3

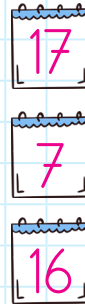
3.



İki bulut arasında kaç yıldız vardır?

A) 7 B) 6 C) 5

4.



on altı

on yedi

Yukarıdaki sayılar okunuşları ile eşleştiginde hangi sayı dışarıda kalır?

A) 16 B) 7 C) 17

@ufukkoca



@ufukkoca61






Adım:.....

Soyadım:.....

Sonuç:


1.



Yukarıdaki sayının yazılışında kaç harf vardır?

- A) 12 B) 5 C) 4


2.



Ağaca en uzak olan sayının yazılışı hangi seçenekte verilmiştir?

- A) on beş
B) on üç
C) sekiz


3.



Sepetin içinde kaç tane muz vardır?

- A) 8 B) 7 C) 6

4.



Fufuk, bir (1) rakamı dışında iki tane rakama basıyor. Buna göre aşağıdaki sayılardan hangisi ekranda oluşması mümkün değildir?

- A) on beş B) yirmi C) yirmi iki

@ufukkoca



@ufukkoca61





Adım:.....

Soyadım:.....

Sonuç: ☆☆☆☆

1.

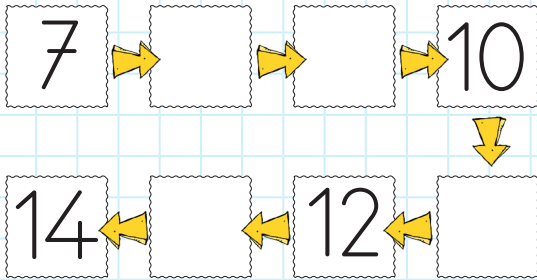


12	10	17	14	19
----	----	----	----	----

Fufuk, 4 adım ileri, 3 adım geri
gittiğinde hangi sayıya ulaşır?

A) on iki B) on C) on yedi

2.



Aşağıdakilerden hangisi yukarıda
boş kutulara yazacağımız sayı-
lardan biri değildir?

A) dokuz B) on üç C) on beş

3.



İki ağaç arasında kaç hayvan
vardır?

A) 9 B) 7 C) 5

4.



Yarışmada kaç kız vardır?

A) 8 B) 10 C) 13

@ufukkoca



@ufukkoca61

