




Adım:.....

Soyadım:.....

Sonuç:




Farklı olan balon kaçınıcı sırada?

- A) 11. B) 10. C) 9.



Ağaca en yakın olan sayıdan en uzak olan sayıya doğru sıraladığımızda 2. sıradaki sayıda kaç birlik vardır?

- A) 1 B) 6 C) 7



Üzüm kaçınıcı sırada bulunuyor?

- A) 14. B) 15. C) 16.

@ufukkoca



@ufukkoca61



4.



Fufuk, 7. sıradaki tuşa basıyor.

Buna göre Fufuk hangi tuşa basmıştır?

- A) H B) J C) Y



Adım:.....

Soyadım:.....

Sonuç: ☆☆☆☆

1. →

12	10	17	13	19	11	20
----	----	----	----	----	----	----

19 sayısının solunda bulunan sayı kaçınıncı sıradadır?

- A) 3. B) 4. C) 13.

2.



7. sırada olan nesne ile 9. sırada olan nesne arasında hangi nesne vardır?

- A) B) C)

3.



En arkada olan çocuğun adı Mert'tir. Buna göre Mert'in

önündeki kaçınıncı sıradadır?

- A) 3. B) 4. C) 5.

4.



Yarışmada 6. sırada kim vardır?

- A) B) C)

@ufukkoca



@ufukkoca61





2. TEMA



MATEMATİK

Sıra Bildiren Sayılar


Öğrenme Çıktısı: MAT.1.1.3.
Nesnelerin sıra sayısını gösterebilme



Adım:.....

Soyadım:.....

Sonuç:



9. sıradaki balon hangisidir?

- A) B) C)


2.

13						19
----	--	--	--	--	--	----

13'ten başlayıp sırayla sayıları yerleştiriyorlar. Buna göre 6. sıradaki kutuda hangi sayı olur?

- A) 16 B) 17 C) 18

3.



Nar ile muzun arasındaki meyve kaçınıcı sıradadır?

- A) 12. B) 13. C) 14.

4.



Fufuk, 6. sıradaki tuşa basıyor. Buna göre Fufuk hangi tuşa basmıştır?

- A) V B) B C) N

@ufukkoca



@ufukkoca61





Adım:.....

Soyadım:.....

Sonuç: ☆☆☆☆


1. →

10	17	12	18	13	19	15
----	----	----	----	----	----	----


5. sıradaki sayının solunda hangi sayı vardır?

A) 18 B) 13 C) 19

2.



Aslı, okul merdivenlerinde 8. basamağa basıyor. 11. basamağa bastığında hangi konumda olur?



3.



En arkada olan çocuğun adı Ela'dır. Buna göre Ela'nın önündeki kaçınıcı sıradadır?

A) 2. B) 3. C) 4.

4.



Yarışmada 8. sıradaki çocuğun önünde kim vardır?



@ufukkoca



@ufukkoca61

